

Nome:		Data: ___/___/2020
Unidade Escolar:		Ano: 1º
Componente Curricular: Matemática		
Tema/ Conhecimento: Números		
Habilidade: (EF01MA03-A) Estimar e comparar quantidades identificando a que tem mais e a que tem menos, em torno de 20 elementos, em situações problematizadoras, como pontos marcados por jogadores em campeonato, usando termos a mais, a menos, igual, diferente.		

## ATIVIDADES

01. DIEGO, EDUARDO E GABRIEL POSSUEM AS SEGUINTE COLEÇÕES CADA UM:

DIEGO	EDUARDO	GABRIEL

QUEM POSSUI A COLEÇÃO MAIOR? \_\_\_\_\_

QUEM POSSUI A COLEÇÃO MENOR? \_\_\_\_\_

QUAL DOS TRÊS TEM MAIS CARRINHOS VERMELHOS NA COLEÇÃO? \_\_\_\_\_

QUEM TEM MAIS CARRINHOS AZUIS? \_\_\_\_\_

COMPLETE A TABELA A SEGUIR, COM A QUANTIDADE TOTAL DE CARRINHOS.

02. DENISE TEM AS SEGUINTE COLEÇÕES:

CIRCULE A COLEÇÃO QUE TEM MAIS OBJETOS.



QUANTOS OBJETOS TÊM A MAIS  
NESSA COLEÇÃO QUE VOCÊ  
CIRCULOU?



Disponível em: <https://blogdebrinquedo.com.br/tag/kidrobot+blind-box/page/2/>. Acesso em 05 de abr. de 2020.

03. ANA E ALÍCIA JUNTARAM ESSES ALIMENTOS PARA FAZEREM UM LANCHE PARA SEUS AMIGOS. VAMOS AJUDÁ-LAS A CONTAR?

QUANTOS DOCES TÊM? \_\_\_\_\_

QUANTAS FRUTAS TÊM? \_\_\_\_\_

HÁ QUANTOS PIRULITOS? \_\_\_\_\_


O QUE TEM MAIS, FRUTAS OU DOCES?

\_\_\_\_\_

QUANTAS FRUTAS E DOCES TEM NO

TOTAL?


\_\_\_\_\_



04. ESSA É A COLEÇÃO DA AMANDA:



COMPLETE AS COLEÇÕES A SEGUIR PARA QUE FIQUEM COM A MESMA QUANTIDADE DA COLEÇÃO DA AMANDA.



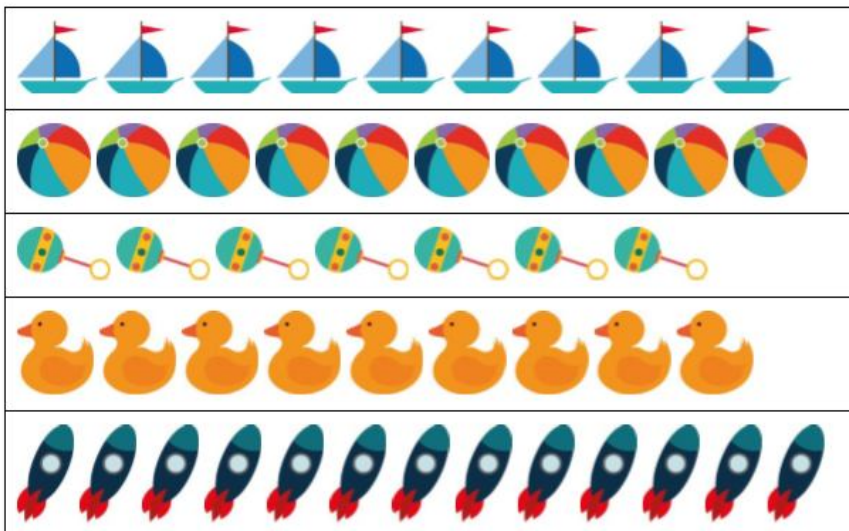
RESPONDA:

O QUE VOCÊ TEVE QUE ACRESCENTAR MAIS, CARRINHOS OU BOLAS? \_\_\_\_\_






QUANTOS CARRINHOS VOCÊ ACRESCENTOU? \_\_\_\_\_

QUANTAS BOLAS VOCE ACRESCENTOU? \_\_\_\_\_

05. CIRCULE SOMENTE AS COLEÇÕES QUE POSSUEM A MESMA QUANTIDADE.



06. FÁBIO POSSUI UMA COLEÇÃO DE PIÕES MAIOR QUE A DO RONALDO, E MENOR QUE A DO JOÃO. QUAL É A QUANTIDADE DE PIÕES DA COLEÇÃO DE FÁBIO?

 RONALDO	
 JOÃO	
 FÁBIO	

Disponível em <https://novaescola.org.br/plano-de-aula/538/representando-e-comparando-quantidades-de-colecoes-diferentes>.  
Acesso em 05 de mar. de 2020.