

## 1ª SEMANA - 2º CORTE

|                                   |  |                    |
|-----------------------------------|--|--------------------|
| Nome:                             |  | Data: ___/___/2020 |
| Unidade Escolar:                  |  | Ano: 1º            |
| Componente Curricular: Matemática |  |                    |

Tema/ Conhecimento: Localização de objetos e de pessoas no espaço, utilizando diversos pontos de referência e vocabulário apropriado: Localização de objetos no espaço.

Habilidades: (EF01MA12) Descrever a localização de pessoas e de objetos no espaço, segundo um dado ponto de referência, compreendendo que, para a utilização de termos que se referem à posição (em cima, embaixo, perto, longe, à direita, à esquerda, ao lado, em frente, atrás, primeiro, último) é necessário explicitar-se o referencial.



1 – OBSERVE O MALABARISTA E PINTE OS DESENHOS DE ACORDO COM O QUE ELE FAZ.

A) COM A MÃO **ESQUERDA**, ELE EQUILIBRA:



B) COM O PÉ **ESQUERDO**, ELE EQUILIBRA:



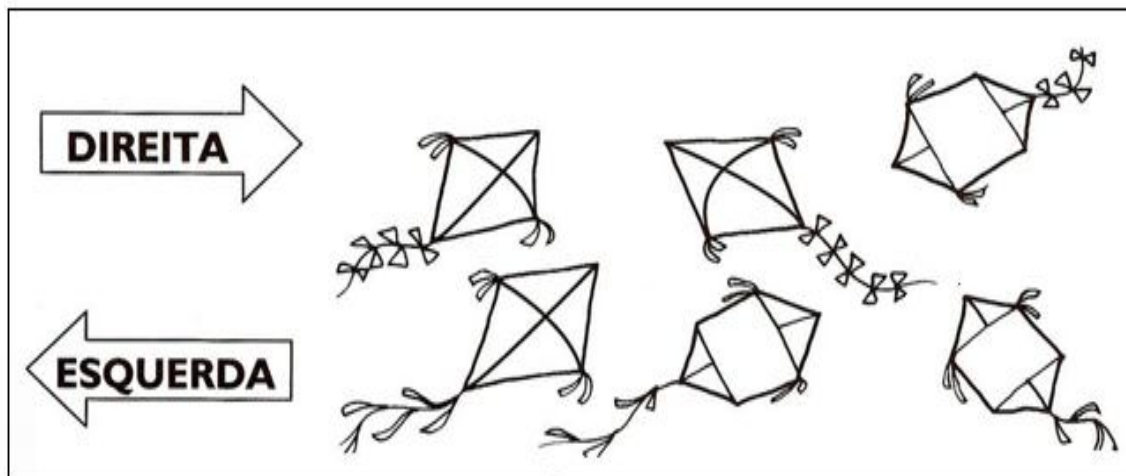
C) COM A MÃO **DIREITA**, ELE EQUILIBRA:



2 – AS SETAS INDICAM A DIREÇÃO EM QUE AS PIPAS VOAM.

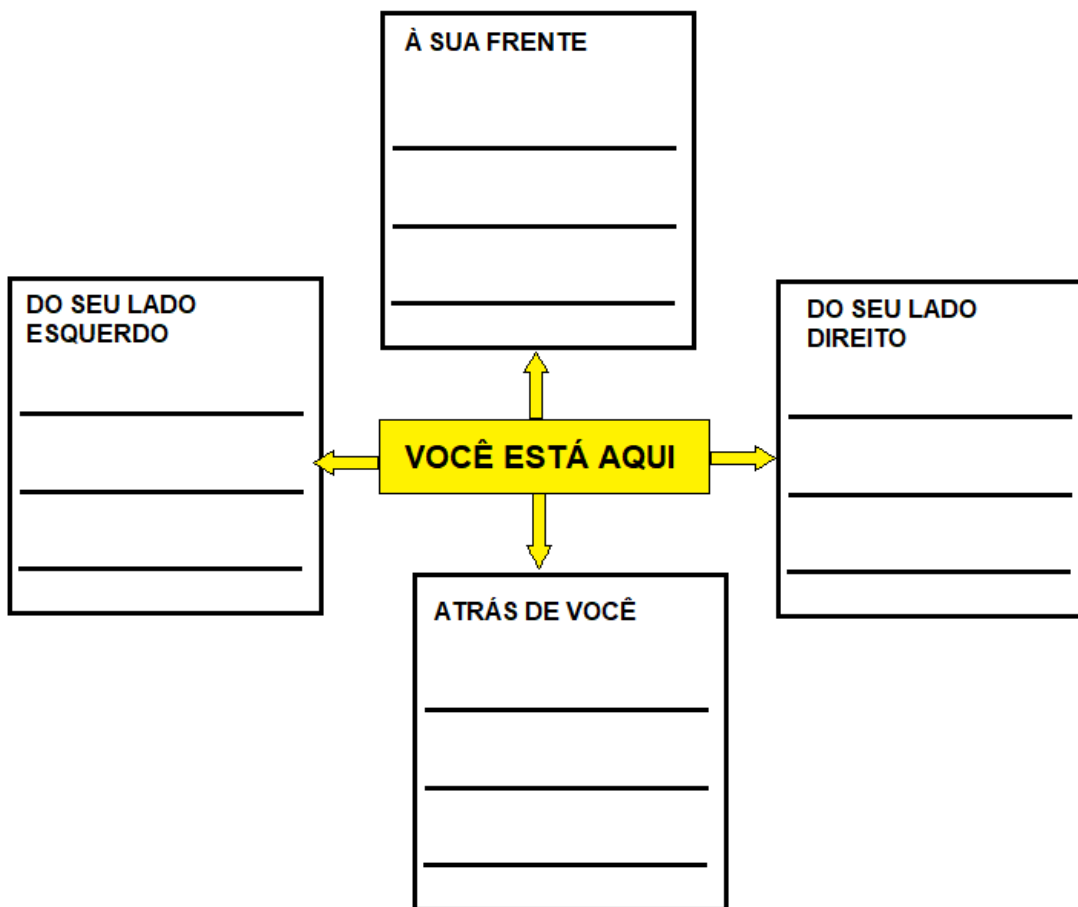
A) PINTE DE **VERMELHO** AS PIPAS QUE VOAM PARA A **DIREITA**.

B) PINTE DE **VERDE** AS PIPAS QUE VOAM PARA A **ESQUERDA**.



Disponível em: <https://escolaeducacao.com.br/atividades-lateralidade-direita-e-esquerda/direita-e-esquerda-de-olho-no-desenho/> Acesso em 6 de abr. de 2020.

3 - SENTE-SE NO CENTRO DE UM CÔMODO DA SUA CASA. AGORA REGISTRE DE ACORDO COM AS INDICAÇÕES A SEGUIR, O QUE VOCÊ VÊ AO SEU REDOR.



4 - OBSERVE OS BRINQUEDOS A SEGUIR.



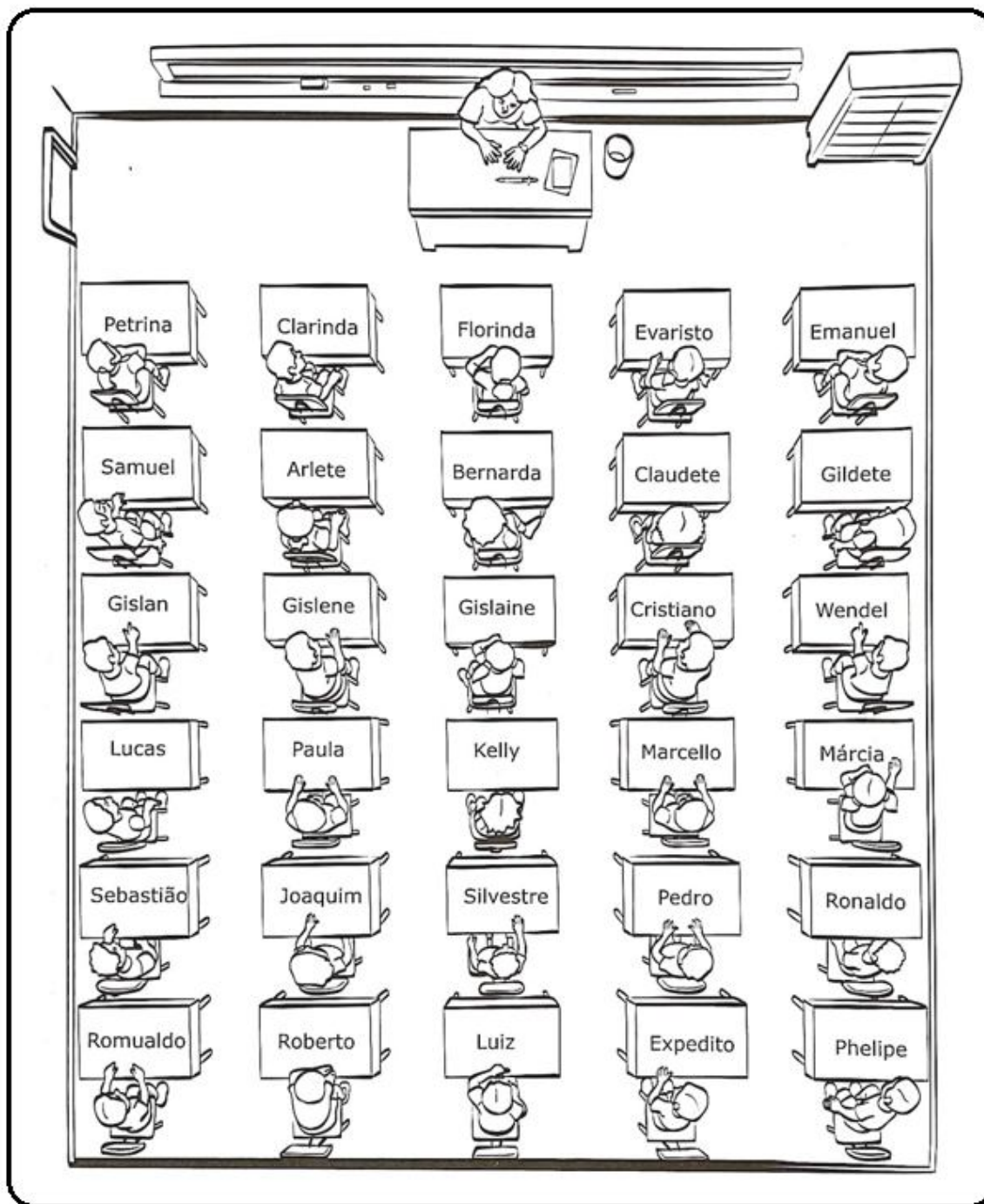
A) MARQUE COM X O BRINQUEDO QUE ESTÁ ABAIXO DO CATA-VENTO.

B) CIRCULE DE VERDE O BRINQUEDO QUE ESTÁ ACIMA DO HELICÓPTERO.

C) CIRCULE DE VERMELHO O BRINQUEDO QUE ESTÁ À DIREITA DA BOLA.

D) CIRCULE DE AZUL O BRINQUEDO QUE ESTÁ À ESQUERDA DO URSO.

5 - A FIGURA A SEGUIR REPRESENTA A VISTA DE CIMA PARA BAIXO DA SALA DE AULA DA PROFESSORA DORIS. CADA MESA POSSUI O NOME DO ESTUDANTE.



Disponível em <https://www.ahoradecolorir.com.br/2019/08/atividade-de-localizacao-para-o-5-ano.html> Acesso em: 6 de abr. de 2020

AGORA RESPONDA COM ATENÇÃO.

1) QUEM ESTÁ SENTADO À ESQUERDA DE GISLENE?

- a) GISLAN
- b) GISLAINE

2) QUEM ESTÁ SENTADO À DIREITA DE GISLENE?

- a) GISLAN
- b) GISLAINE

3) \_\_\_\_\_ ESTÁ SENTADO À FRENTE DE ROBERTO.

- a) LUIZA
- b) ROMUALDO
- c) JOAQUIM
- d) PHELIFE

4) QUANTOS ALUNOS ESTÃO DISTRIBUÍDOS POR FILA?

\_\_\_\_\_

5) QUEM ESTÁ SENTADO À FRENTE DA PROFESSORA?

\_\_\_\_\_

Disponível em: <http://portaldoprofessor.mec.gov.br/fichaTecnicaAula.html?aula=44159> acesso em 28 de abr. 2020.

VAMOS BRINCAR UM POUQUINHO? SE POSSIVEL, ACESSE O LINK  
[http://mdmat.mat.ufrgs.br/anos\\_iniciais/objetos/quarto.htm](http://mdmat.mat.ufrgs.br/anos_iniciais/objetos/quarto.htm) E COLOQUE OS OJETOS  
NOS LUGAR INDICADO.