

Nome: \_\_\_\_\_ Data: \_\_\_/\_\_\_/2020

Unidade Escolar: \_\_\_\_\_ Ano: 1º

Componente Curricular: Matemática

Tema/ Conhecimento: Números

Habilidade: (EF01MA03-A) Estimar e comparar quantidades identificando a que tem mais e a que tem menos, em torno de 20 elementos, em situações problematizadoras, como pontos marcados por jogadores em campeonato, usando termos a mais, a menos, igual, diferente.

### ATIVIDADES

01. DIEGO, EDUARDO E GABRIEL POSSUEM AS SEGUINTE COLEÇÕES CADA UM:

| DIEGO | EDUARDO | GABRIEL |
|-------|---------|---------|
|       |         |         |

QUEM POSSUI A COLEÇÃO MAIOR? \_\_\_\_\_

QUEM POSSUI A COLEÇÃO MENOR? \_\_\_\_\_

QUAL DOS TRÊS TEM MAIS CARRINHOS VERMELHOS NA COLEÇÃO? \_\_\_\_\_

QUEM TEM MAIS CARRINHOS AZUIS? \_\_\_\_\_


COMPLETE A TABELA A SEGUIR, COM A QUANTIDADE TOTAL DE CARRINHOS.



04. ESSA É A COLEÇÃO DA AMANDA:



COMPLETE AS COLEÇÕES A SEGUIR PARA QUE FIQUEM COM A MESMA QUANTIDADE DA COLEÇÃO DA AMANDA.



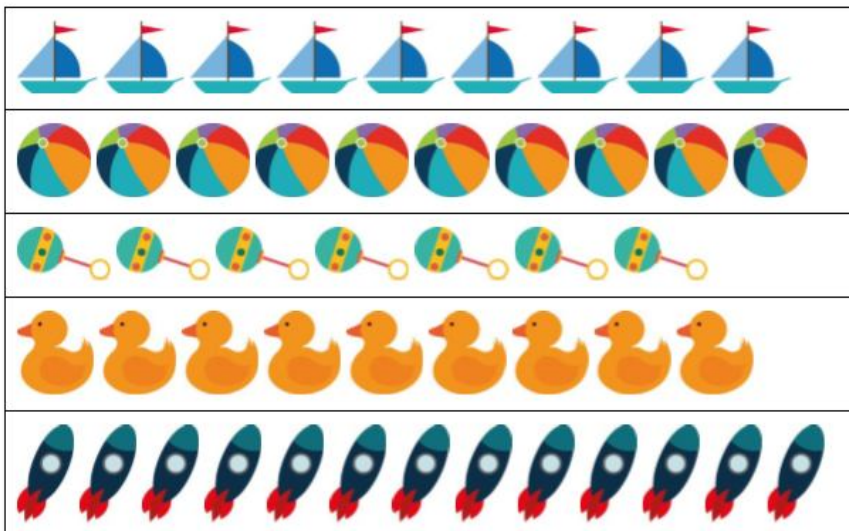
RESPONDA:

O QUE VOCÊ TEVE QUE ACRESCENTAR MAIS, CARRINHOS OU BOLAS? \_\_\_\_\_

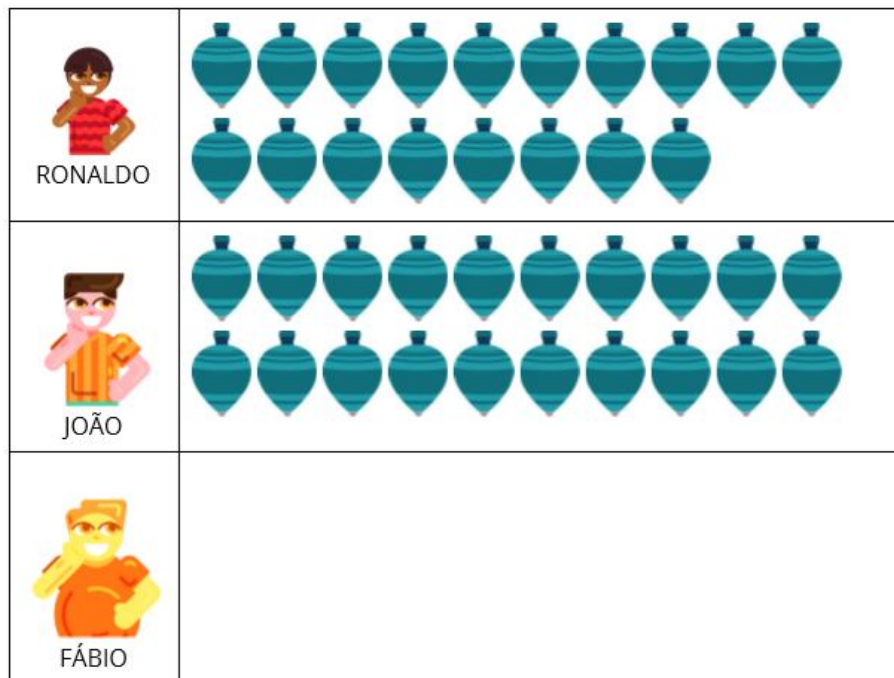
QUANTOS CARRINHOS VOCÊ ACRESCENTOU? \_\_\_\_\_

QUANTAS BOLAS VOCE ACRESCENTOU? \_\_\_\_\_

05. CIRCULE SOMENTE AS COLEÇÕES QUE POSSUEM A MESMA QUANTIDADE.



06. FÁBIO POSSUI UMA COLEÇÃO DE PIÕES MAIOR QUE A DO RONALDO, E MENOR QUE A DO JOÃO. QUAL É A QUANTIDADE DE PIÕES DA COLEÇÃO DE FÁBIO?



Disponível em <https://novaescola.org.br/plano-de-aula/538/representando-e-comparando-quantidades-de-colecoes-diferentes>.  
Acesso em 05 de mar. de 2020.