

3º ANO

MATEMÁTICA

Superintendência de
Educação Infantil e
Ensino Fundamental

Secretaria de
Estado da
Educação



PERÍODO DE REVISÃO – 2ª SEMANA

Habilidades Essenciais: (EF03MA12-A) Descrever posição, trajetos, mudanças de direção e sentido, oralmente, com uso da linguagem materna e de vocabulário geométrico.

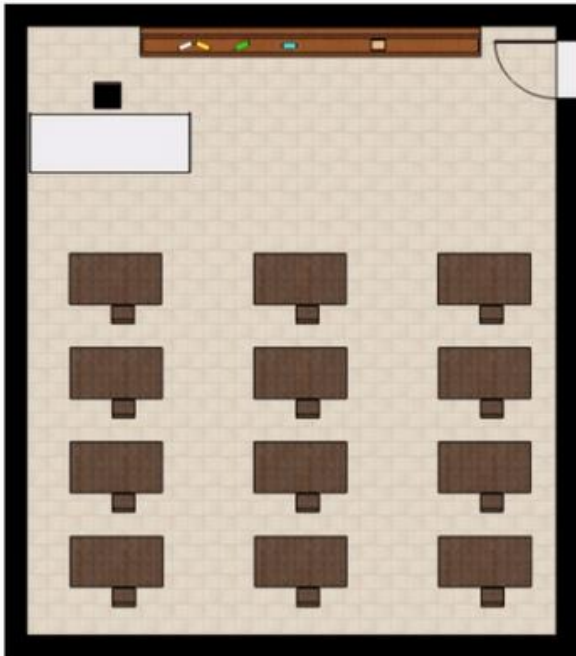
Nome:

Unidade Escolar:

I – OBJETO DE CONHECIMENTO: Localização e movimentação: representação de objetos e pontos de referência.

II - ATIVIDADES:

Observe a sala de aula a seguir e responda as atividades 1 e 2.



Disponível em: <https://novaescola.org.br/plano-de-aula/1734/explorando-a-sala-de-aula>. Acesso em 01 de ago. de 2020.

1 - Carol é aluna mais próxima da porta e Pedro senta bem em frente à mesa da professora.

Faça o que se pede:

- Circule de vermelho a carteira de Aninha.
- Circule de azul a carteira de Marcos.

2 - Localize as carteiras onde sentam os estudantes de acordo com as orientações a seguir.

- Cauê senta-se atrás do Daniel.

- b) Maria é aluna que senta mais longe da professora.
- c) Daniel senta-se ao lado de Bruno.
- d) Amanda senta-se atrás de Aninha.
- e) Bruno se senta entre Ana e Daniel.
- f) Aninha senta-se próxima a porta.





3 - Observe a figura a seguir.



Complete as frases de acordo com essa figura.

- a) _____ está sentada atrás de Ana.
- b) _____ senta-se à frente de Carol.
- c) _____ e Bruno sentam-se em frente ao quadro. sendo que _____ senta-se mais próximo a porta.
- d) _____ senta-se mais longe da professora e ao seu lado senta-se _____.
- e) _____ senta-se bem próxima a professora e ao lado de _____.

4 - Observando a tabela a seguir podemos constatar que a figura que representa a nuvem está na posição B2.

	A	B	C	D	E	F
1						
2						
3						
4						
5						
6						
7						
8						








Disponível em:

<https://drive.google.com/file/d/1ypB1UusUea3IDkeqn4dbeZ84QyA7K051/view>. Acesso em 03 de Ago. de 2020. (Adaptado)

Agora responda:

- Qual a posição da figura que representa o coração? _____
- Qual a posição da figura que representa a seta? _____
- Qual a posição da figura que representa o raio? _____

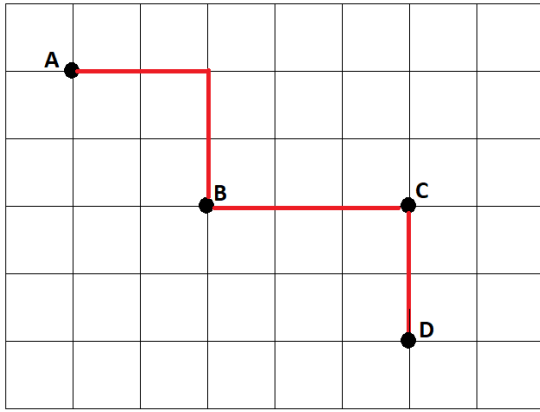
5 - Observe abaixo o mapa de um zoológico.

	A	B	C	D	E	F
1						
2						
3						
4						

Fonte: o autor

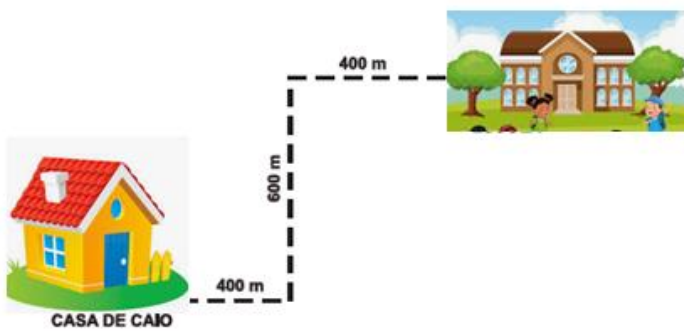
Nesse mapa, as letras das linhas e os números das colunas indicam a localização da área onde vive cada tipo de animal. Uma pesquisa mostrou que a área mais visitada do zoológico é a do leão. Qual é a localização da área destinada animal?

6 - Observe na figura abaixo, o caminho percorrido por André. Ele saiu do ponto A e chegou ao ponto B.



Como ele fez para chegar ao ponto B? _____

7 - Veja, na figura abaixo, o trajeto que Caio percorreu para ir de sua casa até a escola.



Disponível em: <https://pt.vecteezy.com/arte-vetorial/654616-de-volta-aos-desenhos-animados-das-criancas-da-escola>.

Acesso em 03 de Ago. de 2020. (Adaptado)

De acordo com essa figura, qual foi o trajeto que Caio fez?
