

ATIVIDADE 1

Tema: INDICAÇÃO DE QUANTIDADES, INDICAÇÃO DE ORDEM OU INDICAÇÃO DE CÓDIGO PARA A ORGANIZAÇÃO DE INFORMAÇÕES. QUANTIFICAÇÃO DE ELEMENTOS DE UMA COLEÇÃO. LEITURA, ESCRITA E COMPARAÇÃO DE NÚMEROS NATURAIS (ATÉ 20), NÚMEROS CARDINAIS. NÚMEROS ORDINAIS.

Habilidades Essenciais: (EF01MA01-A) Reconhecer a utilização de números no seu contexto diário, representado por imagens ou não, como indicador de quantidade, em problemas de contagem de objetos do cotidiano, quantos tem ou onde há mais, ordem do 1º ao 10º, em brincadeiras de tradição e situações cotidianas, como tabelas de campeonatos esportivos e código, como números utilizados em contas, RG, CPF, título de leitor, código de barras, utilizando a expressão oral. (EF01MA02-C) Quantificar elementos de uma coleção: estimativas, contagem um a um, pareamento ou outros agrupamentos e comparação, em situações que envolvem esses procedimentos: parlendas, poemas, brincadeiras diversas, recursos tecnológicos, livros infantis. (EF01MA03-A) Estimar e comparar quantidades identificando a que tem mais e a que tem menos, em torno de 20 elementos, em situações problematizadoras, como pontos marcados por jogadores em campeonato, usando termos a mais, a menos, igual, diferente.

NOME:

UNIDADE ESCOLAR:

ATIVIDADES

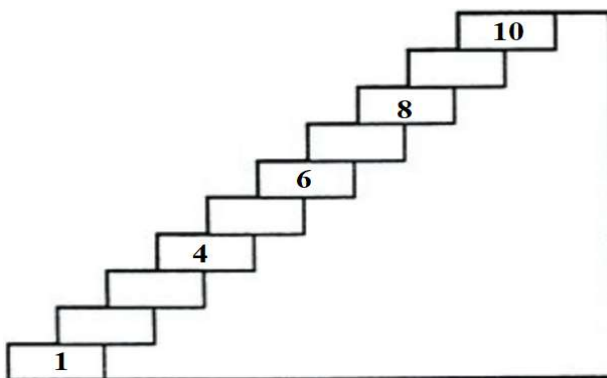
1. ESCREVA OS NÚMEROS QUE ESTÃO FALTANDO E AJUDE O CACHORRO A CHEGAR ATÉ A CASA.



1		3		5		7			10
	12		14		16		18		




2. ESCREVA OS NÚMEROS QUE ESTÃO FALTANDO E AJUDE O RATINHO A CHEGAR ATÉ O PEDAÇO DE QUEIJO.



Disponível em: <https://pt.vecteezy.com/arte-vetorial/367706-fatia-marrom-do-rato-e-do-queijo> Acesso em 19 de out. de 2020

3. CONTE E ESCREVA O NUMERAL QUE INDICA A QUANTIDADE DOS OBJETOS.



VAMOS APRENDER A REGISTRAR OS NÚMEROS EM ORDEM.

PRIMEIRO - 1º
SEGUNDO - 2º
TERCEIRO - 3º
QUARTO - 4º
QUINTO - 5º

SEXTO - 6º
SÉTIMO - 7º
OITAVO - 8º
NONO - 9º
DÉCIMO - 10º

4. A PROFESSORA PAULA ORGANIZOU A FILA POR IDADE E A ORDEM DOS ESTUDANTES FICOU ASSIM. OBSERVE A FILA DE ESTUDANTES E RESPONDA.



A) SE BETO ESTÁ NO 1º LUGAR QUAL É O LUGAR DE NINA? _____

B) EM QUE ORDEM DA FILA JULIO ESTÁ? _____

C) EDUARDA É A ÚLTIMA DA FILA SEU LUGAR É O _____

5. OBSERVE A FILA QUE A PROFESSORA PAULA ORGANIZOU E RESPONDA.

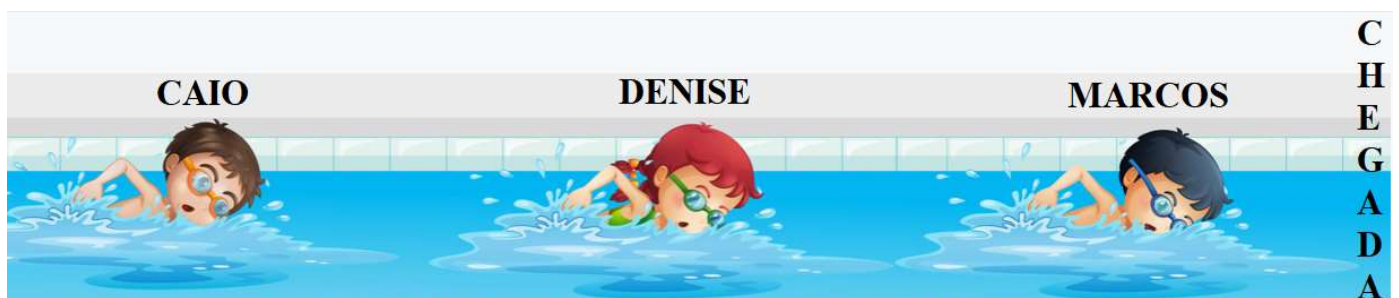
A) QUANTOS MENINOS ESTÃO NA FILA? _____

B) QUANTAS MENINAS ESTÃO NA FILA? _____

C) A FILA POSSUI MAIS MENINAS OU MENINOS? _____

Disponível em: <https://novaescola.org.br/plano-de-aula/788/os-numeros-na-ordem> Adaptado. Acesso em 19 de out. de 2020 Disponível em: <https://pt.vecteezy.com/arte-vetorial/426650-estudantes-em-carater-diferente-isolado-no-fundo-branco> Acesso em 19 de out. de 2020

6. DENISE PARTICIPOU DE UMA COMPETIÇÃO DE NATAÇÃO. OBSERVE A IMAGEM A SEGUIR E RESPONDA.



Disponível em: <https://novaescola.org.br/plano-de-aula/788/os-numeros-na-ordem> Adaptado. Acesso em 19 de out. de 2020 Disponível em: <https://pt.vecteezy.com/arte-vetorial/418554-criancas-natacao-em-piscina> Acesso em 19 de out. de 2020

A) QUEM CHEGOU EM 1º LUGAR NA COMPETIÇÃO DE NATAÇÃO? _____

B) DENISE CHEGOU EM QUE LUGAR NA COMPETIÇÃO DE NATAÇÃO? _____

C) QUEM FICOU EM 3º LUGAR NA COMPETIÇÃO DE NATAÇÃO? _____

7. DIOGO POSSUI UMA COLEÇÃO DE CARRINHOS E JORGE UMA COLEÇÃO DE DINOSSAUROS. OBSERVE AS IMAGENS E RESPONDA.




Disponível em: <https://novaescola.org.br/plano-de-aula/1186/comparando-e-justificando-quantidades-com-numeros> Adaptado. Acesso em 20 de out. de 2020
Disponível em: <https://pt.vecteezy.com/arte-vetorial/139020-colorul-carros-icone-do-vetor> Acesso em 20 de out. de 2020

A) QUAL É A QUANTIDADE DE CADA COLEÇÃO? _____

B) QUAL COLEÇÃO POSSUI MENOS OBJETOS? _____

C) QUAL COLEÇÃO POSSUI MAIS OBJETOS? _____

8. CAROL POSSUI UMA COLEÇÃO DE URSOS DE PELÚCIA E ISABELA UMA COLEÇÃO DE BOLAS. OBSERVE AS IMAGENS E RESPONDA.



Disponível em: <https://novaescola.org.br/plano-de-aula/1186/comparando-e-justificando-quantidades-com-numeros> Adaptado Acesso em 20 de out. de 2020
Disponível em: <https://pt.vecteezy.com/arte-vetorial/117815-vetor-de-icone-de-bola-desportiva-gratuita> Acesso em 20 de out. de 2020

A) QUAL É A QUANTIDADE DE CADA COLEÇÃO? _____

B) QUAL COLEÇÃO POSSUI MENOS OBJETOS? _____

C) QUAL COLEÇÃO POSSUI MAIS OBJETOS? _____

9. OBSERVE A IMAGEM, COMPARE AS QUANTIDADES E RESPONDA.




A) QUAL PRODUTO POSSUI A MAIOR QUANTIDADE? _____

B) QUAIS PRODUTOS POSSUEM QUANTIDADES IGUAIS? _____

C) QUAL PRODUTO POSSUI MENOR QUANTIDADE? _____

10. COMPARE AS QUANTIDADES E PINTE A IMAGEM QUE POSSUI A QUANTIDADE IGUAL DE OBJETOS.



Disponível em: <https://novaescola.org.br/plano-de-aula/179/comparando-quantidades> Adaptado. Acesso em 20 de out. de 2020

Disponível em: <https://pt.vecteezy.com/arte-vetorial/298401-varios-tipos-de-vegetais> Acesso em 20 de out. de 2020