

TEMA: Cadeias e teias alimentares simples

Habilidades Essenciais: (EF04CI04-B) Descrever e distinguir a forma de alimentação dos seres produtores, consumidores e decompositores

NOME:

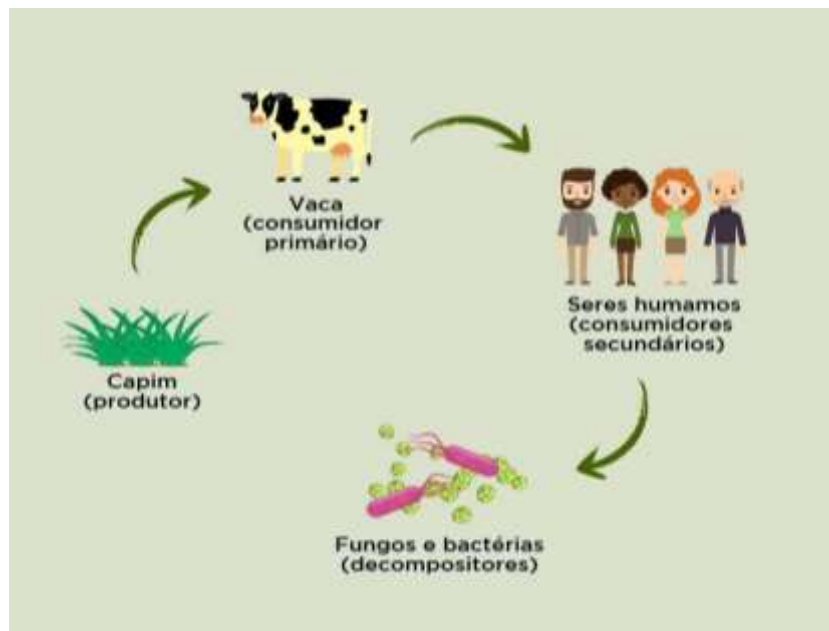
UNIDADE ESCOLAR:

A CADEIA ALIMENTAR É UMA SEQUÊNCIA DE SERES VIVOS QUE DEPENDEM UNS DOS OUTROS PARA SE ALIMENTAREM.

### COMPONENTES DA CADEIA ALIMENTAR SÃO:

- **PRODUTORES (plantas):** são todos os seres que fabricam os seus alimentos, através da fotossíntese, sendo plantas terrestres e aquáticas. Exemplos: plantas, algas unicelulares e certas bactérias.
- **CONSUMIDORES (herbívoros):** são os animais que se alimentam tanto de plantas como de outros animais. Os animais consumidores podem ser: **os herbívoros** que comem apenas vegetais; **os carnívoros** que comem apenas outros animais e **os onívoros** que comem tanto animais quanto vegetais.
- **DECOMPOSITORES (carnívoros):** são os fungos e bactérias, que se alimentam dos restos de todos os seres vivos da cadeia alimentar.

Exemplo:

Disponível em: <https://www.coc.com.br/blog/soualuno/biologia/o-que-e-cadeia-alimentar>. Acesso em 24 de mar. De 2021.

1. Leia com atenção e responda

A) O que é a cadeia alimentar?

---



---

B) Como se chamam os seres que produzem seus próprios alimentos?

---

C) As bactérias e os fungos são categorizados como?

---

2. Decifre essa cadeia alimentar. Onde for desenho, escreva a palavra e descubra o que a mensagem da carta enigmática. Reescreva a carta inteira nas linhas

O  verde curtia **1**  enquanto comia **1** 



---

**1**  **Q** estava de  no  deu um pulo

---

**E**  + pou o  .

---

O  resolveu dormir debaixo de **1**  . Mas, de

---

repente, apareceu uma  **Q** comeu o  .

---

O  **Q** estava de  na  **NHAK!**

---

Era **1** vez **1**  .

---

O  avistou o  voando **E**  matou o  .

Disponível em: [http://lidimariano79.blogspot.com/2013\\_04\\_01\\_archive.html](http://lidimariano79.blogspot.com/2013_04_01_archive.html) Acesso em 22 de mar. De 2021.

---

---

---

---

---

---

---

---

---

---

3. Em uma cadeia alimentar, os produtores são os

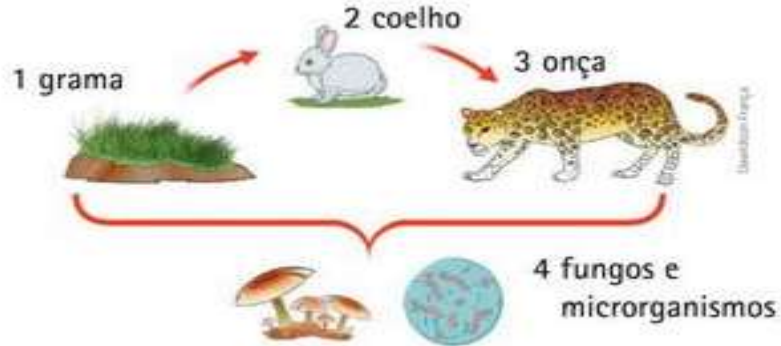
( ) vegetais

( ) animais carnívoros

( ) animais herbívoros

( ) animais onívoros

4. Observe a cadeia alimentar e indique quem está atuando como decompositor, como consumidor e como produtor



Produtor \_\_\_\_\_

Consumidor \_\_\_\_\_

Decompositor \_\_\_\_\_

Disponível em: <https://atividadespedagogicas.net/wp-content/uploads/2018/06/ATIVIDADES-DE-AVALIA%C3%87%C3%83O-CADEIA-ALIMENTAR-5%C2%B0-A>. Acesso em 25 de mar. De 2021.

PRODUTORES	CONSUMIDORES	DECOMPOSITORES
Baleia	Coelho	Morcego

5. De acordo com o exemplo, faça uma pesquisa e escreva o nome dos seres que caracterizam e compõem a cadeia alimentar


\_\_\_\_\_

\_\_\_\_\_

\_\_\_\_\_

\_\_\_\_\_

6. Observe e nomeie corretamente cada ser desta cadeia listando o produtor, o consumidor e o decompositor.



Disponível em: <https://pt.slideshare.net/andreapoca/cadeia-alimentar-8281216>. Acesso em 25 de mar. de 2021.

A) Qual outro animal poderia ser um consumidor primário nessa situação?

---

B) Qual é o produtor desta cadeia alimentar?

---

C) O consumidor terciário é

( ) onívoro

( ) herbívoro

( ) carnívoro