

2º ANO

MATEMÁTICA

Superintendência de
Educação Infantil e
Ensino Fundamental

Secretaria de
Estado da
Educação



ATIVIDADE 7

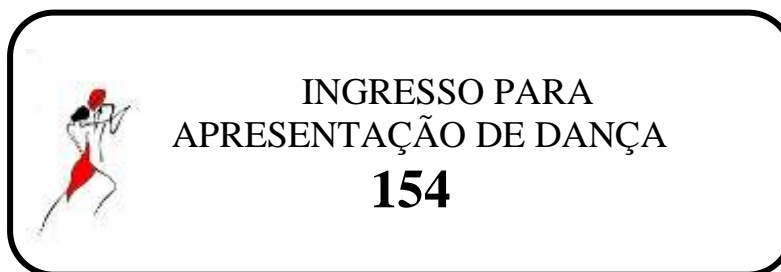
TEMA: CÁLCULOS MENTAIS E ESCRITOS ENVOLVENDO ADIÇÃO E SUBTRAÇÃO

HABILIDADES COMPLEMENTARES: (EF02MA05-A) EXPLORAR A DECOMPOSIÇÃO DE ESCRITAS NUMÉRICAS PARA A REALIZAÇÃO DE CÁLCULOS, MENTAIS OU ESCRITOS, QUE ENVOLVAM ADIÇÃO E SUBTRAÇÃO; (EF02MA05-B) UTILIZAR SINAIS CONVENCIONAIS (+, -, =) NA ESCRITA DE OPERAÇÕES DE ADIÇÃO E SUBTRAÇÃO. (EF02MA05-D) CONSTRUIR FATOS BÁSICOS DA ADIÇÃO E SUBTRAÇÃO COM NÚMEROS MENORES DE 10, COMO $5 + 2 = 7$ E $7 - 2 = 5$ E UTILIZÁ-LOS NO CÁLCULO MENTAL OU ESCRITO EM SITUAÇÕES DIVERSAS: CONTAGEM DE PONTOS EM JOGOS DE ARREMesso, ATIVIDADES COM CALCULADORA E REGULARIDADES EM RESULTADOS DE OPERAÇÕES.

NOME:

UNIDADE ESCOLAR:

1. VEJA O INGRESSO PARA UMA APRESENTAÇÃO DE DANÇA NO TEATRO MUNICIPAL.



Disponível em: <https://br.pinterest.com/pin/54845406086955185/>. Acesso em: 25 de mar. de 2021.

QUAL O ALGARISMO QUE OCUPA A POSIÇÃO DAS **DEZENAS**?

A) () 1

C) () 4

B) () 2

D) () 5

2. DECOMPONHA OS NÚMEROS COMO NO MODELO:

$$123 = 100 + 20 + 3$$

A) $89 =$ _____

B) $143 =$ _____

C) $165 =$ _____

D) $157 =$ _____

3. CALCULE O VALOR POSICIONAL DOS NÚMEROS DESTACADOS.

OBSERVE O MODELO:

$$\underline{1}43 = 4 \text{ DEZENAS}$$

- A) 78 _____
- B) 152 _____
- C) 93 _____
- D) 145 _____

4. PINTE AS COLUNAS QUE REPRESENTAM CADA NÚMERO.

D	U

5 6

(A)

D	U

7 5

(B)

D	U

6 6

(C)

D	U

5 9

5. OBSERVE O EXERCÍCIO ANTERIOR E RESPONDA:


A) QUANTO VALE CADA QUADRADINHO DA UNIDADE?

B) QUANTO VALE CADA QUADRADINHO DAS DEZENAS?

C) QUANTAS DEZENAS EXISTEM NO NÚMERO 75?

D) QUANTAS UNIDADES EXISTEM NO NÚMERO 59?









6. HELENA FOI COM SUA MÃE À LIVRARIA E COMPROU UMA LAPISEIRA. ELA DEU UMA NOTA DE 10 REAIS. QUANTO ELA RECEBEU DE TROCO?



8 REAIS

HELENA RECEBEU DE TROCO
2 REAIS

AGORA FAÇA O MESMO, COMPLETANDO O QUADRO A SEGUIR.

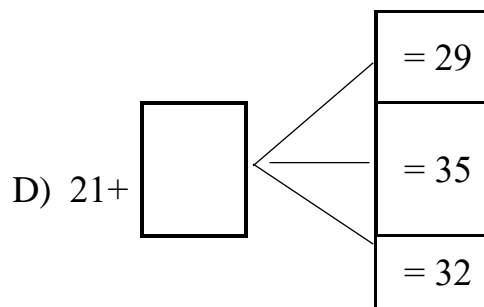
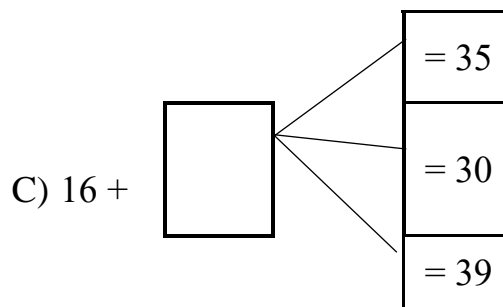
VOCE COMPROU	DEU EM DINHEIRO	RECEBEU DE TROCO
(A)  1 REAL	 2 REAIS	CÁLCULO
(B)  3 REAIS	 5 REAIS	CÁLCULO
(C)  7 REAIS	 10 REAIS	CÁLCULO
(D)  2 REAIS	 10 REAIS	CÁLCULO

Disponível em: <https://br.pinterest.com/pin/564990715723463367/>. Acesso em: 26 de mar de 2021.
Disponível em: <https://br.pinterest.com/pin/479000110345265364/>. Acesso em: 26 de mar. de 2021.

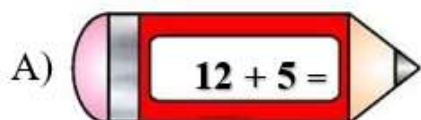
7. OBSERVE COM ATENÇÃO AS SEGUINTE ADIÇÕES.

A) $24 + \square = 32$
 $\square = 29$
 $\square = 30$

B) $40 + \square = 52$
 $\square = 49$
 $\square = 55$



8. LIGUE AS OPERAÇÕES DE ADIÇÃO E SUBTRAÇÃO AOS SEUS RESULTADOS



16



17



22



11