

1º ANO

MATEMÁTICA

Superintendência de
Educação Infantil e
Ensino Fundamental

Secretaria de
Estado da
Educação



ATIVIDADE 7

TEMA: LOCALIZAÇÃO DE OBJETOS NO ESPAÇO.

HABILIDADES COMPLEMENTARES: (EF01MA11-A) RECONHECER DISTÂNCIAS: PERTO, LONGE, TENDO COMO REFERÊNCIA O PRÓPRIO CORPO, UTILIZANDO OS INSTRUMENTOS FITAS MÉTRICAS, PASSOS, CORDAS. (EF01MA11-B) RECONHECER POR MEIO DE JOGOS E BRINCADEIRAS DIREÇÃO, POSIÇÃO E SENTIDO: ACIMA, ABAIXO, PERTO, LONGE, À DIREITA, À ESQUERDA, AO LADO, EM FRENTE, ATRÁS, PRIMEIRO, ÚLTIMO. (EF01MA11-C) DESCREVER, COM PALAVRAS, ESBOÇOS, DESENHOS OU UMA COMBINAÇÃO DE DUAS OU MAIS FORMAS, A LOCALIZAÇÃO DE PESSOAS E DE OBJETOS NO ESPAÇO, EM RELAÇÃO À SUA PRÓPRIA POSIÇÃO, UTILIZANDO TERMOS COMO EM CIMA, EMBAIXO, PERTO, LONGE, À DIREITA, À ESQUERDA, AO LADO, EM FRENTE, ATRÁS, PRIMEIRO, ÚLTIMO, ALTO, BAIXO, CURTO, COMPRIDO, IGUAL, DIFERENTE, GROSSO, FINO, DENTRO, FORA, COMO EM POSIÇÕES RELATIVAS DOS OBJETOS EM MAPAS CRIADOS EM SALA DE AULA.

NOME:

UNIDADE ESCOLAR:

1. AS CRIANÇAS ESTÃO APOSTANDO UMA CORRIDA DE BICICLETA. OBSERVE A IMAGEM!



Disponível em: <https://br.pinterest.com/pin/723038915174371368/>. Acesso em: 23 de mar. de 2021.

A) QUAL CRIANÇA ESTÁ EM PRIMEIRO LUGAR NA CORRIDA?

B) QUAL CRIANÇA ESTÁ EM ÚLTIMO LUGAR NA CORRIDA?

2. OBSERVE A FIGURA A SEGUIR. CHICO BENTO E ZÉ LELÉ ESTÃO LEVANDO A ROSINHA PARA UM PASSEIO DE BURRINHO.




A) QUEM ESTÁ EM CIMA DO BURRINHO?

B) QUEM ESTÁ NA FRENTE DO BURRINHO?

C) QUEM ESTÁ ATRÁS DO BURRINHO?

DANTE, luiz roberto. Ápis: alfabetização matemática. 2.ed. – São Paulo: ática, 20014. Acesso em: 23 de mar. De 2021.

3. VOCÊ CONHECE OS ANIMAIS DA IMAGEM A SEGUIR? VAMOS COMPARAR ALGUMAS MEDIDAS?



A) QUAL ANIMAL TEM O PESCOÇO MAIS CURTO?

B) QUAL ANIMAL TEM O PESCOÇO MAIS COMPRIDO?

Disponível em: <https://br.pinterest.com/pin/426364289728786120/>. Acesso em: 24 de mar. de 2021.

4. OBSERVE COM ATENÇÃO A FIGURA A SEGUIR DAS CRIANÇAS NA SALA DE AULA.




Disponível em: <https://www.pinterest.ph/pin/43980533848231649/>. Acesso em: 23 de mar. de 2021

JOSÉ ESTÁ SENTADO

- (A) () À ESQUERDA DE MARIA.
- (B) () À DIREITA DE PEDRO.
- (C) () À ESQUERDA DE ANA.
- (D) () À DIREITA DE JÚLIA.

5. OBSERVE O SÍTIO QUE CHICO BENTO MORA COM SEUS PAIS E RESPONDA:



A) O ANIMAL QUE ESTÁ MAIS PERTO DO CHICO BENTO É

B) O ANIMAL QUE ESTÁ MAIS LONGE DO CHICO BENTO É

Disponível em: https://monica.fandom.com/pt-br/wiki/S%C3%ADtio_do_Chico_Bento. Acesso em: 24 de mar. de 2021

6. OBSERVE AS FIGURAS A SEGUIR E MARQUE SOMENTE A ALTERNATIVA QUE POSSUI OBJETOS DIFERENTES.

A) ()



B) ()



C) ()




D) ()



Disponível em: <https://br.pinterest.com/pin/234750199315495556/>. Acesso em : 25 de mar. de 2021.

7. OBSERVE COM ATENÇÃO OS PÁSSAROS DA IMAGEM A SEGUIR



Disponível em: <https://br.pinterest.com/pin/332492384972918525/>. Acesso em: 23 de mar. de 2021.

QUANTOS PÁSSAROS ESTÃO DENTRO E FORA DA GAIOLA?

- A) () DOIS PÁSSAROS **DENTRO** E CINCO PÁSSAROS **FORA** DA GAIOLA.
- B) () TRÊS PÁSSAROS **DENTRO** E NOVE PÁSSAROS **FORA** DA GAIOLA.
- C) () DOIS PÁSSAROS **DENTRO** E ONZE PÁSSAROS **FORA** DA GAIOLA.
- D) () DOIS PÁSSAROS **DENTRO** E DEZ PÁSSAROS **FORA** DA GAIOLA.

RESPOSTAS COMENTADAS

1- ESPERA-SE QUE O(A) ESTUDANTE RESPONDA AS QUESTÕES OBSERVANDO AS POSIÇÕES QUE SE REFEREM À POSIÇÃO, COMO PRIMEIRO E ÚLTIMO.

A) A CRIANÇA QUE ESTÁ EM PRIMEIRO LUGAR NA CORRIDA É **A LIA**.

B) A CRIANÇA QUE ESTÁ EM ÚLTIMO LUGAR NA CORRIDA É **O BENTO**.

2- ESPERA-SE QUE O ESTUDANTE DESCUBRA E RESPONDA CORRETAMENTE A CLASSIFICAÇÃO DE CADA UM DOS TRÊS DESCRIVENDO A LOCALIZAÇÃO NO ESPAÇO SEGUNDO O DADO PONTO DE REFERÊNCIA, COMO EM CIMA, EM FRENTE, ATRÁS.

A) QUEM ESTÁ EM CIMA DO BURRINHO É **A ROSINHA**.

B) QUEM ESTÁ NA FRENTE DO BURRINHO É **O CHICO BENTO**.

C) QUEM ESTÁ TRÁS DO BURRINHO É **O ZÉ LELÉ**.

3- ESPERA-SE QUE O ESTUDANTE COMPARE AS MEDIDAS DE COMPRIMENTO COMO: MAIS COMPRIDO E MAIS CURTO

A) O ANIMAL QUE TEM O PESCOÇO **MAIS CURTO É A ZEBRA**.

B) O ANIMAL QUE TEM O PESCOÇO **MAIS COMPRIDO É A GIRAFA**.

4- ESPERA-SE QUE O ESTUDANTE IDENTIFIQUE O NOMEIE A POSIÇÃO DE OBJETOS, UTILIZANDO A LINGUAGEM POSICIONAL DIREITA E ESQUERDA.

RESPOSTA: LETRA: C

5- ESPERA-SE QUE O ESTUDANTE SE ORIENTE ATRAVÉS DE INFORMAÇÕES (PERTO E LONGE).

(A) O ANIMAL QUE ESTÁ MAIS **PERTO** DO CHICO BENTO É **A VACA**.

(B) O ANIMAL QUE ESTÁ MAIS **LONGE** DO CHICO BENTO É **O CAVALO**

6- ESPERA-SE QUE O ESTUDANTE POSSA IDENTIFICAR A IGUALDADE E AS DIFERENÇAS DE FORMAS, OBJETOS. RESPOSTA: **LETRA: A**

7. ESPERA-SE QUE O ESTUDANTE CONSIGA TER A PERCEPÇÃO DE LOCALIZAÇÃO (DENTRO E FORA). RESPOSTA: **LETRA C**.