

2º ANO

MATEMÁTICA

Superintendência de  
Educação Infantil e  
Ensino Fundamental

Secretaria de  
Estado da  
Educação




### ATIVIDADE 8

TEMA: GEOMETRIA; GRANDEZAS E MEDIDAS

NOME:

UNIDADE ESCOLAR:

1. OBSERVE O QUADRO DE TARSILA DO AMARAL (1886-1973). ELA FOI UMA DAS MAIS IMPORTANTES ARTISTAS DO BRASIL. ESTA OBRA É ENTITULADA A GARE. A PALAVRA FRANCESA GARE SIGNIFICA ESTAÇÃO DE TREM OU DE METRÔ.



Disponível em: <http://www.w21mercurion.com.br/tag/pintura/page/7/>. Acesso em: 7 de abr. de 2021.

A) QUAL O NOME DA OBRA?

---

B) QUAL O NOME DA ARTISTA QUE PINTOU O QUADRO?

---


C) IDENTIFIQUE E ESCREVA O NOME DAS FIGURAS GEOMÉTRICAS QUE A ARTISTA USOU NESSA OBRA.

---

---





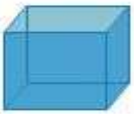



---

D) DESENHE AS FIGURAS GEOMÉTRICAS QUE VOCÊ ENCONTROU NA OBRA.







2. AS FORMAS GEOMÉTRICAS TAMBÉM ESTÃO PRESENTES EM VÁRIOS LUGARES DO NOSSO DIA-A-DIA.

LIGUE A FIGURA QUE MAIS SE ASSEMELHA COM A FORMA GEOMÉTRICA.

A)	 <b>PIRÂMIDE</b>	
B)	 <b>ESFERA</b>	
C)	 <b>CUBO</b>	
D)	 <b>CILINDRO</b>	

Disponível em: <https://br.pinterest.com/pin/48624870966673708/> Acesso em: 12 de abr. de 2021.

3. OBSERVE ATENTAMENTE AS FIGURAS GEOMÉTRICAS PLANAS:

 <b>TRIÂNGULO</b>	 <b>RETÂNGULO</b>	 <b>QUADRADO</b>	 <b>CÍRCULO</b>
---	---	---	---

AGORA, COMPLETE O QUADRO A SEGUIR.

FIGURA	NÚMERO DE LADOS	NÚMERO DE VÉRTICES
TRIÂNGULO		
RETÂNGULO		
QUADRADO		
CÍRCULO		

4. LEIA COM ATENÇÃO OS CONCEITOS DE MEDIDAS DE MASSA E CAPACIDADE.

### MASSA X CAPACIDADE

MEDIDA DE MASSA É A QUANTIDADE DE MATÉRIA DE UM OBJETO, PESSOA OU ANIMAL OU ALIMENTOS.



1 LITRO

MEDIDA DE CAPACIDADE É A QUANTIDADE DE LÍQUIDO DE UM RECIPIENTE.

Disponível em: <https://br.pinterest.com/pin/805792558330216769/?share=true>. Acesso em: 13 de abr. de 2021.

AGORA, COMPLETE O ESPAÇO A SEGUIR.

SE A JARRA POSSUI A CAPACIDADE DE 1 LITRO, VOU PRECISAR COLOCAR \_\_\_\_\_ COPOS DE 100 ML(MILILITROS)

- A) ( ) 8 COPOS DE 100 ML.
- B) ( ) 10 COPOS DE 100 ML.
- C) ( ) 12 COPOS DE 100 ML.
- D) ( ) 14 COPOS DE 100 ML.

5. VANESSA TOMA DIARIAMENTE 5 COPOS CHEIOS DE ÁGUA E CADA COPO POSSUI 200ML. SABENDO DISSO, QUANTOS LITROS DE ÁGUA ELA TOMA POR DIA?

- (A) 2 LITROS DE ÁGUA
- (B) 1 LITRO DE ÁGUA
- (C) 600 ML DE ÁGUA
- (D) 200 ML DE ÁGUA



Disponível em :<https://br.pinterest.com/pin/591308626077387045/>. Acesso em: 7 de abr. de 2021.

6. O QUADRO A SEGUIR MOSTRA A QUANTIDADE, EM QUILOGRAMAS, DE INGREDIENTES UTILIZADA PARA A PREPARAÇÃO DO LANCHE DE UMA ESCOLA. SOME E ANOTE O TOTAL DE QUILOGRAMAS (KG) GASTOS EM CADA DIA DA SEMANA.

INGREDIENTES	SEGUNDA	TERÇA	QUARTA	QUINTA	SEXTA
ARROZ	30				27
FEIJÃO	15				
CARNE	20				15
FRUTAS		80			
LEGUMES	3				
VERDURAS					5
PÃO				11	
BISCOITO			14		
<b>TOTAL</b>					

AGORA RESPONDA:

A) QUANTOS QUILOGRAMAS (KG) FORAM UTILIZADOS NA SEGUNDA – FEIRA?

---



---

B) QUANTOS QUILOGRAMAS (KG) FORAM UTILIZADOS NA SEXTA – FEIRA?

---



---

C) QUANTOS QUILOGRAMAS DE ALIMENTOS FORAM PREPARADOS DURANTE A SEMANA?

---



---

D) QUAL O DIA DA SEMANA QUE FORAM PREPARADOS MAIOR QUANTIDADE DE ALIMENTOS?

---



---

7. LUÍSA E LINA FIZERAM UMA PESQUISA SOBRE ALGUNS ANIMAIS ADULTOS DO CERRADO DO ESTADO DE GOIÁS E SEU PESO.



OBSERVE A TABELA A SEGUIR

<b>ANIMAIS</b>	<b>PESO A QUILOGRAMAS (KG)</b>
<b>EMA</b>	<b>23</b>
<b>TAMANDUÁ BANDEIRA</b>	<b>41</b>
<b>ANTA</b>	<b>150</b>
<b>LOBO - GUARÁ</b>	<b>23</b>

RESPONDA:

A) QUAL O ANIMAL MAIS PESADO?

---

---

B) QUAIS ANIMAIS QUE TEM O MESMO PESO?

---

---

C) QUANTOS QUILOS O LOBO – GUARÁ TEM A **MENOS** QUE O TAMANDUÁ BANDEIRA?

---

---

D) QUANTOS QUILOS A ANTA É MAIS PESADA DO QUE O TAMANDUÁ BANDEIRA?

---

---