

ATIVIDADE 10**TEMA:** DIFERENTES TIPOS DE PAISAGENS**NOME:****UNIDADE ESCOLAR:**

LEIA O TEXTO.

ZONA URBANA E ZONA RURAL

OS MUNICÍPIOS TÊM ÁREA URBANA E ÁREA RURAL.

A ÁREA URBANA CONSTITUI A CIDADE E A ÁREA RURAL É CONSTITUÍDO PELO CAMPO. A POPULAÇÃO URBANA É AQUELA QUE VIVE NAS CIDADES, NAS ÁREAS URBANAS. ATUALMENTE A MAIOR PARTE DA POPULAÇÃO BRASILEIRA VIVE NAS CIDADES.

A ZONA RURAL, TAMBÉM CHAMADA DE CAMPO, É A REGIÃO QUE FICA FORA DA CIDADE.

AS PESSOAS VIVEM NO CAMPO EM SÍTIOS, CHÁCARAS E FAZENDAS...

OS LAVRADORES OU AGRICULTORES SÃO PESSOAS QUE CUIDAM DA LAVOURA OU PLANTAÇÕES. ELAS TRABALHAM NA TERRA, PLANTAM, COLHEM E VENDEM OS PRODUTOS.

QUEM CRIA ANIMAIS COMO BOIS, CAVALOS, CABRAS, PORCOS SÃO CHAMADOS DE PECUARISTAS. AS ÁREAS URBANA E RURAL DEPENDEM SEMPRE UMA DA OUTRA. ASSIM, OS PRODUTOS NA ZONA RURAL, VÃO PARA A ZONA URBANA PARA SEREM VENDIDOS E INDUSTRIALIZADOS. A POPULAÇÃO RURAL PRECISA IR À ZONA URBANA PARA FAZER COMPRAS EM LOJAS E SUPERMERCADOS, IR A HOSPITAIS, BANCOS E ATÉ MESMO PARA PASSEAR.

1. OBSERVE AS IMAGENS A SEGUIR.

IMAGEM 1



IMAGEM 2



AGORA MARQUE A RESPOSTA CORRETA.

(A) A IMAGEM 1 REPRESENTA UMA PAISAGEM URBANA E A IMAGEM 2 UMA PAISAGEM RURAL.

(B) A IMAGEM 1 REPRESENTA UMA PAISAGEM RURAL E A IMAGEM 2 UMA PAISAGEM URBANA.

(C) A IMAGEM 1 E 2 SÃO PAISAGENS RURAIS.

(D) AS DUAS IMAGENS SÃO PAISAGENS URBANAS.

2. ESCREVA AS DIFERENÇAS QUE VOCÊ PERCEBE ENTRE AS IMAGENS 1 E 2.


3. A IMAGEM DE SATÉLITE MOSTRA UMA FORMA DE APRESENTAR DETERMINADA ÁREA.

PINTE O QUADRADINHO QUE INDICA DE QUAL PONTO DE VISTA A IMAGEM/FOTO FOI TIRADA.

DO ALTO

DE FRENTE

DO LADO



Disponível em: <http://w2.ifg.edu.br/goiania/index.php/component/content/article/1-latest-news/2066-estacao-geodesica-rbmc>. Acesso em 27 de abr. de 2021.

4. A VIDA DE UMA CRIANÇA QUE MORA NA CIDADE É IGUAL A VIDA DE UMA CRIANÇA QUE MORA NO CAMPO?

() SIM () NÃO

POR QUÊ? _____

5. E AS BRINCADEIRAS DAS CRIANÇAS DO CAMPO E DA CIDADE, SÃO IGUAIS OU DIFERENTES? ESCREVA O NOME DE DUAS BRINCADEIRAS QUE VOCÊ CONHECE.

6. QUAL A IMPORTÂNCIA DA ZONA RURAL NA VIDA DAS PESSOAS QUE MORAM NA ZONA URBANA?

7. CONVERSE COM ALGUM ADULTO DA SUA CASA OU CONSULTE O TEXTO E ESCREVA O NOME DE PROFISSÕES COMUNS NA ZONA URBANA

ZONA RURAL

8. LEIA COM ATENÇÃO A HISTÓRIA A SEGUIR E RESPONDA.



A) SOBRE O QUE OS DOIS GAROTOS CONVERSAM?

9. VOCÊ JÁ FOI NUMA FAZENDA, CHÁCARA OU SÍTIO? DO QUE VOCÊ MAIS GOSTOU?

10. MARQUE V PARA VERDADEIRO E F PARA FALSO.

A) () QUEM CRIA ANIMAIS COMO BOIS, CAVALOS, CABRAS MORAM NA CIDADE.

B) () AGRICULTORES SÃO PESSOAS QUE CUIDAM DA LAVOURA OU PLANTAÇÕES.

C) () A ÁREA URBANA CONSTITUI A CIDADE E A ÁREA RURAL É CONSTITUÍDA PELO CAMPO.

D) () CAMPO E CIDADE SÃO ESPAÇOS IGUAIS E COM OS MEMSOS TIPOS DE TRABALHO.

11. OBSERVE AS PALAVRAS DO QUADRO E PREENCHA OS ESPAÇOS NAS FRASES A SEGUIR.

PAISAGEM URBANA – PAISAGEM CONSTRUÍDA – PAISAGEM
NATURAL – PAISAGEM – PAISAGEM RURAL

A) _____ É AQUELA EM QUE HOUE INTERFERÊNCIA HUMANA.





B) _____ É AQUELA EM QUE PREDOMINAM ELEMENTOS NATURAIS, MESMO HAVENDO ELEMENTOS HUMANIZADOS.

C) _____ É TUDO O QUE ESTÁ AO ALCANCE DO NOSSO OLHAR.

D) _____ É AQUELA ONDE NÃO HÁ INTERFERÊNCIA HUMANA.

E. _____ É AQUELA EM QUE PREDOMINAM ELEMENTOS CONSTRUÍDOS PELOS SERES HUMANOS.

12. OBSERVE A IMAGEM, LEIA COM ATENÇÃO E RESPONDA OS ITENS A, B E C.

E				
D				
C				
B				
A	1	2	3	4

Disponível em: <https://www.sjc.sp.gov.br/media/120969/2-ano-geo.pdf>. Acesso em 20 de mai. de 2021.

I) QUAL É A FIGURA LOCALIZADA NA LINHA D, COLUNA 1?

- (A) CASA
- (B) CASTELO
- (C) CAMPO DE FUTEBOL
- (D) PRÉDIO

II) PARA ENCONTRAR A PRÓXIMA FIGURA SAIA DO CAMPO DE FUTEBOL, ANDE TRÊS CASAS PARA CIMA, PARE, VIRE À DIREITA E ANDE UMA CASA.

A FIGURA ENCONTRADA É UM

- (A) CASA.
- (B) CASTELO.
- (C) CAMPO DE FUTEBOL.
- (D) PRÉDIO.

III) A FIGURA VISTA DO ALTO OU VISTA DE CIMA É

- (A) UMA CASA.
- (B) UM CASTELO.
- (C) UM CAMPO DE FUTEBOL.
- (D) UM PRÉDIO.



JÁ TERMINOU A
SUA ATIVIDADE?
ENTÃO, ATÉ A
PRÓXIMA AULA...

Disponível em: <https://br.pinterest.com/pin/613826624203340744/>. Acesso em 28 de abr. de 2021.