

1º ANO

MATEMÁTICA

Superintendência de
Educação Infantil e
Ensino Fundamental

Secretaria de
Estado da
Educação



ATIVIDADE 11 – REVISÃO 2º CORTE







TEMA: ROTINA, NOÇÃO DE POSIÇÃO, CALENDÁRIO E FATOS BÁSICOS DA ADIÇÃO E SUBTRAÇÃO.

NOME:

UNIDADE ESCOLAR:

1. AS TAREFAS QUE REALIZAMOS TODOS OS DIAS FAZEM PARTE DA NOSSA ROTINA. O DIA PODE SER DIVIDIDO EM DIFERENTES PERÍODOS: **MANHÃ, TARDE E NOITE.**






DESENHE NOS QUADROS UMA ATIVIDADE QUE VOCÊ REALIZA EM CADA PERÍODO DO DIA.

MANHÃ		TARDE		NOITE	
					

Disponível em <https://sp.depositphotos.com/vector-images/caricatura-del-sol.html>
<https://pt.dreamstime.com/ilustra%C3%A7%C3%A3o-stock-alcan%C3%A7ando-lua-e-as-estrelas-image50510746>. Acesso dia 13 de maio de 2021.

2. TUDO TEM SUA HORA! VEJA O MENINO GABRIEL EM SUAS ATIVIDADES DIÁRIAS.

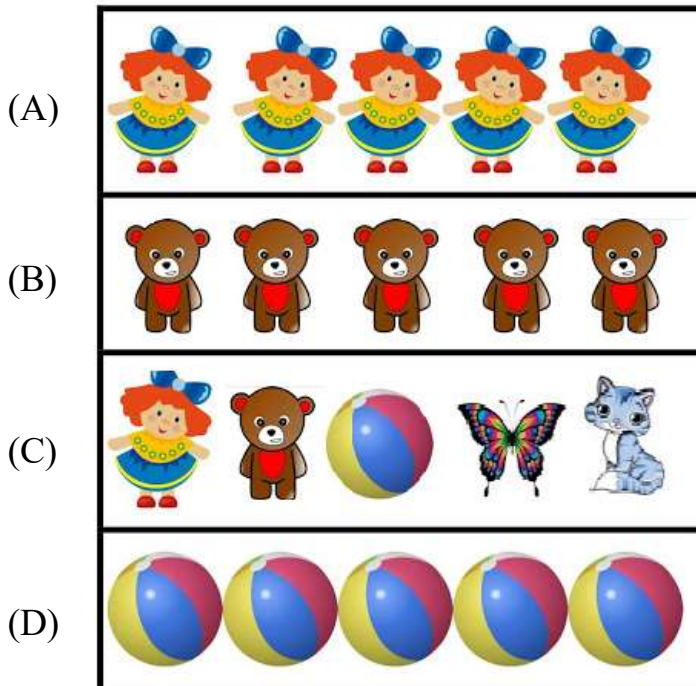
M	T	N
DE MANHÃ	À TARDE	À NOITE

				
ACORDA	ESTUDA	DORME	ALMOÇA	BRINCA
<input type="text"/>	<input type="text"/>	<input type="text"/>	<input type="text"/>	<input type="text"/>

DE ACORDO COM A LEGENDA, IDENTIFIQUE A PARTE DO DIA QUE GABRIEL REALIZA SUAS ATIVIDADES ESCRREVENDO **M, T, N**.

Disponível em <https://www.istockphoto.com/br/vetor/pr%C3%A9-escolar-crian%C3%A7a-atividades-di%C3%A1rias-menino-bonito-acordando-escovando-dentes-gm1249794805-364325800>. Adaptado. Acesso dia 13 de maio de 2021.

3. OBSERVE AS FIGURAS A SEGUIR E MARQUE A ALTERNATIVA QUE POSSUI OBJETOS DIFERENTES.



Disponível em <https://escoladossenhosclaudia.blogspot.com/2020/04/plano-de-aula-contagem-de-objetos.html>. Adaptado. Acesso dia 14 de maio de 2021.

4. OBSERVE COM ATENÇÃO A FIGURA A SEGUIR.



Disponível em <https://atividadeparaeducacaoespecial.com/inclusao-lateralidade-o-que-fazer-para-ajudar-o-aluno/>. Acesso dia 12 de maio de 2021.

MARQUE A ALTERNATIVA QUE CORRESPONDE A ESSA FIGURA.

- (A) A PORTA ESTÁ À DIREITA DA MENINA.
- (B) A CADEIRA ESTÁ À ESQUERDA DA MENINA.
- (C) O CESTO DE LIXO ESTÁ NA FRENTE DA MENINA.
- (D) A CÔMODA ESTÁ À ESQUERDA DA MENINA.

5. LEIA COM ATENÇÃO.

OS ESTUDANTES DO 1º ANO ESTÃO ORGANIZADOS EM FILA, MANTENDO DISTÂNCIA E SE PROTEGENDO DO COVID 19.



Disponível em <https://www.liveworksheets.com/yk1095292cb>. Adaptado. Acesso dia 12 de maio de 2021.

AGORA RESPONDA:

A) QUEM É O PRIMEIRO DA FILA?

B) QUEM ESTÁ NA FRENTE DE MARCELO?

C) QUEM VAI LAVAR AS MÃOS POR ÚLTIMO?

D) QUEM ESTÁ ATRÁS DA SABRINA?

6. AS CRIANÇAS ESTÃO PARTICIPANDO DE UMA BRINCADEIRA DE CORRIDA E CADA UMA RECEBEU UM NÚMERO.



Disponível em <https://br.pinterest.com/pin/708824428839521968/> Adaptado. Acesso dia 14 de maio de 2021.

A) QUAL CRIANÇA ESTÁ EM PRIMEIRO LUGAR NA CORRIDA? _____

B) QUAL CRIANÇA ESTÁ EM ÚLTIMO LUGAR NA CORRIDA? _____

C) QUEM RECEBEU O NÚMERO 9? _____

7. OBSERVE O CALENDÁRIO A SEGUIR.



Disponível em <https://danieducar.com.br/calendario-2021-para-imprimir-colorido/> Acesso dia 14 de maio de 2021.

A) QUAL MÊS MOSTRA O CALENDÁRIO?

B) QUANTOS DIAS TEM ESSE MÊS?

C) ESSE CALENDÁRIO É DE QUAL ANO?

D) O DIA 24 CAIU EM QUAL DIA DA SEMANA?


E) QUANTAS TERÇAS-FEIRAS HÁ NO MÊS DE JUNHO DE 2021?

8. PREENCHA A TABELA COM OS DIAS DA SEMANA QUE ESTÃO FALTANDO.

1º DIA	DOMINGO
2º DIA	
3º DIA	
4º DIA	
5º DIA	
6º DIA	SEXTA-FEIRA
7º DIA	

Fonte: Elaboração do autor.

9. OBSERVE A QUANTIDADE DE DOCINHOS, FAÇA A ADIÇÃO E ESCREVA O RESULTADO.



Disponível em https://br.freepik.com/vetores-premium/jogo-de-matematica-de-adicao-com-bonito-queque-de-halloween-dos-desenhos-animados_9781890.htm. Adaptado. Acesso dia 14 de maio de 2021.

10. AGORA É A SUA VEZ! CALCULE A ADIÇÃO E ESCREVA O RESULTADO.

$$6 + 2 = \underline{\quad}$$

REPRESENTE A OPERAÇÃO ATRAVÉS DE UM DESENHO.



11. LIGUE CADA OPERAÇÃO DE ADIÇÃO AO SEU RESULTADO.

$6 + 1 =$

9

$3 + 3 =$

10

$9 + 1 =$

7

$4 + 5 =$

6

12. MIGUEL TEM 3 PIPAS AZUIS E CÁSSIO 4 PIPAS VERDES. QUANTAS PIPAS TEM OS DOIS JUNTOS?



$$\square + \square = \underline{\quad}$$

Disponível em <https://br.depositphotos.com/vector-images/s%C3%ADmbolo-de-pipa.html?offset=1100>. Acesso dia 14 de maio de 2021.

13. EFETUE CORRETAMENTE AS SUBTRAÇÕES.


A) $5 - 2 =$ _____

B) $6 - 4 =$ _____

C) $8 - 3 =$ _____

D) $7 - 1 =$ _____

14. NA BANDEJA HAVIA 8 FATIAS DE PIZZAS E FERNANDA COMEU 3 FATIAS.



QUANTAS FATIAS DESSA PIZZA SOBRARAM?

(A) 3

(B) 4

(C) 5

(D) 6

15. COMPLETE O QUADRO A SEGUIR.

TINHA	GASTEI	SOBROU
9 REAIS	2 REAIS	
6 REAIS	3 REAIS	
8 REAIS	5 REAIS	
5 REAIS	4 REAIS	