


ATIVIDADE SIMULADO 1

Nome



Escola:

1. OBSERVE A TABELA QUE A PROFESSORA LUANA ESCREVEU NA LOUSA E COMPLETE OS NÚMEROS QUE FICARAM FALTANDO.



Disponível em <https://br.pinterest.com/pin/513762269996446377/>. Acesso em 17 de fev. de 2020.

2. ESCREVA O NOME DAS FIGURAS GEOMÉTRICAS.



3. O ÁLBUM DE FIGURINHAS DA MEIRE TEM LUGAR PARA 45 FIGURINHAS. ELA JÁ COLOU 34. QUANTAS FIGURINHAS FALTAM PARA MEIRE COMPLETAR ESSE ÁLBUM?

(A) 20 FIGURINHAS.

(C) 15 FIGURINHAS.

(B) 11 FIGURINHAS.

(D) 8 FIGURINHAS

4. OBSERVE A SEGUIR OS URSINHOS QUE MARIANA TEM.



Disponível em: https://ru.freepik.com/premium-vector/set-of-adorable-teddy-bears-in-different-actions_7951967.htm. Acesso em: 22 de fev. de 2021.





QUANTOS URSINHOS VOCÊ CONTOU?

5. RICARDO POSSUI 32 ADESIVOS DA TURMA DA MÔNICA. ANA CAROLINA POSSUI 22 ADESIVOS. QUANTOS ADESIVOS RICARDO POSSUI **A MAIS** QUE ANA CAROLINA?

- (A) 20 ADESIVOS.
- (B) 10 ADESIVOS.

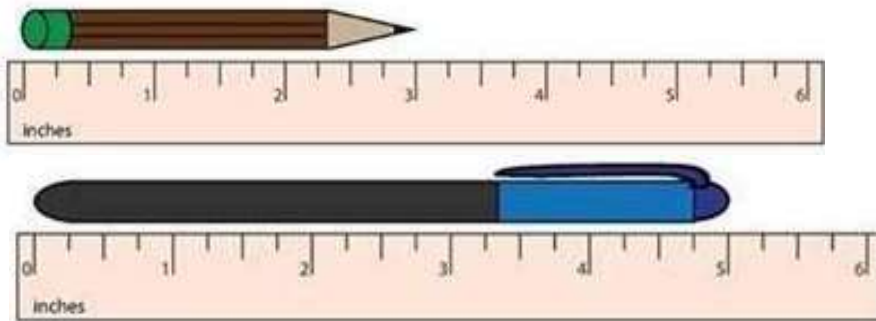
- (C) 14 ADESIVOS
- (D) 8 ADESIVOS

6. OBSERVE A SEGUIR A QUANTIDADE DE LARANJAS QUE 4 PESSOAS COLHERAM.

			
JOANA	MARTA	JOSÉ	CÉLIA

QUAL DESSAS PESSOAS COLHEU MAIS LARANJAS? _____

7. OBSERVE O COMPRIMENTO DA CANETA E DO LÁPIS A SEGUIR.



Disponível em: <https://br.pinterest.com/pin/680676931173171829/>. Acesso em: 22 de fev. de 2021.

O LÁPIS, QUE É MENOR, MEDE 3 CM, ENTÃO A CANETA MEDE, APROXIMADAMENTE

- (A) 10 CM
- (B) 7 CM

- (C) 5 CM
- (D) 11 CM

8. OBSERVE A COLEÇÃO DE BONECOS SUPER-HERÓIS QUE O IGOR TEM NA CAIXA DE BRINQUEDOS.



QUAL A QUANTIDADE QUE INDICA O NÚMERO TOTAL DE BONECOS SUPER-HERÓIS?

- (A) 20
- (B) 10
- (C) 16
- (D) 18

Disponível em: <https://br.pinterest.com/pin/703756166445270/>. Acesso em: 22 de fev. de 2021.

9. PEDRO FOI A LANCHONETE E COMPROU PIRULITOS COM AS MOEDAS QUE GANHOU DA AVÓ MARIA. VEJA ABAIXO AS MOEDAS QUE ELE USOU PARA COMPRAR OS PIRULITOS:



Disponível em: <https://br.pinterest.com/pin/373587731589539826/>. Acesso em: 19 de fev. de 2021.

QUAL FOI A QUANTIA QUE PEDRO UTILIZOU PARA COMPRAR OS PIRULITOS?

- (A) 5 REAIS
- (B) 3 REAIS
- (C) 6 REAIS
- (D) 4 REAIS

10. OBSERVE A FIGURA A SEGUIR.
ESSA FIGURA NOS LEMBRA QUAL FORMA GEOMÉTRICA?



Disponível em: <https://www.pngwing.com/pt/free-png-yylyzv>. Acesso em: 22 de fev. de 2021.

- (A) CILINDRO.
- (B) CONE.
- (C) ESFERA.
- (D) PIRÂMIDE.