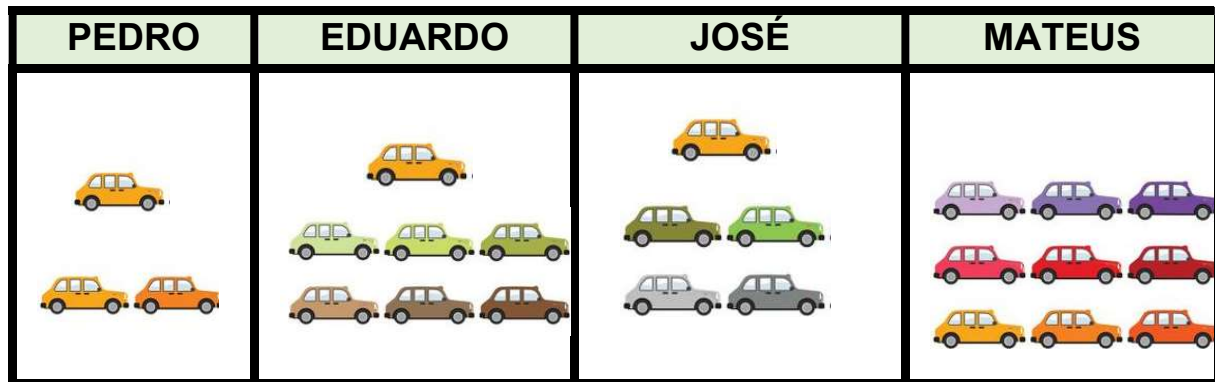


ATIVIDADE SIMULADO 2

NOME _____

ESCOLA: _____

1. OBSERVE AS COLEÇÕES DE CARRINHOS DE PEDRO, EDUARDO, JOSÉ E MATEUS.



Disponível em: <https://br.pinterest.com/pin/706854103994529334/>. Acesso em: 21 de mar. de 2021.

COMPLETE AS LACUNAS A SEGUIR.

- A) JOSÉ TEM A MAIS _____ CARRINHOS DO QUE PEDRO.
- B) EDUARDO TEM A MENOS _____ CARRINHOS DO QUE MATEUS.
- C) MATEUS TEM A MAIS _____ CARRINHOS DO QUE PEDRO.
- D) EDUARDO TEM A MAIS _____ CARRINHOS DO QUE JOSÉ.

2. ELIANE GANHOU QUATRO BONECAS NA SUA FESTA DE ANIVERSÁRIO E RESOLVEU MEDIR CADA UMA. OBSERVE O TAMANHO DE CADA BONECA.



25 CM



15 CM



40 CM



20 CM

Disponível em: <https://www.pinterest.ph/pin/363102788701782158/>. Acesso em: 4 de mar. de 2021.

- A) QUAL A BONECA DE MAIOR TAMANHO? _____
- B) QUAL A MENOR BONECA? _____
- C) QUAL A DIFERENÇA EM CENTÍMETROS ENTRE A BONECA DE MAIOR E A DE MENOR TAMANHO? _____.

3. NA ESCOLA JOSÉ BONIFÁCIO, OS PROFESSORES FIZERAM UMA PESQUISA PARA SABER QUAL BRINCADEIRA OS ESTUDANTES PREFERIAM: PULAR CORDA, BRINCAR COM PIÃO, BOLINHA DE GUDE OU AMARELINHA.



AS RESPOSTAS FORAM ANOTADAS NA TABELA A SEGUIR.

BRINCADEIRAS PEFERIDAS	
BRINCADEIRA	QUANTIDADE DE VOTOS
PULAR CORDA	34
BRINCAR COM PIÃO	23
AMARELINHA	12
BOLINHA DE GUDE	25



Disponível em: <https://br.pinterest.com/pin/395683517252390704/>. Acesso em 04 de mar. de 2021

A BRINCADEIRA PREFERIDA DOS ESTUDANTES É

- (A) BOLINHA DE GUDE.
- (B) BRINCAR COM PIÃO.
- (C) AMARELINHA.
- (D) PULAR CORDA.

4. O QUADRO NUMÉRICO A SEGUIR ESTÁ TODO BAGUNÇADO E FALTANDO NÚMEROS. PREENCHA COM OS NÚMEROS QUE ESTÃO FALTANDO.

80		82	83		
86				90	91
	93			96	
		100			103

5. OBSERVE AS IMAGENS, A SEGUIR, E ESCREVA O NOME DA FIGURA GEOMÉTRICA QUE ELA REPRESENTA.



A) _____




B) _____

C) _____

D) _____

Disponível em: <https://escolakids.uol.com.br/matematica/formas-geometricas.htm>. Acesso em: 20 de mar. de 2021

6. OBSERVE O DESENHO A SEGUIR.



Disponível em <https://www.pinterest.ph/pin/422986590006604021/>. Acesso em 08 de mar. de 2021.





A) O DESENHO TEM QUANTOS QUADRADOS? _____

B) O DESENHO TEM QUANTOS CÍRCULOS? _____

C) O DESENHO TEM QUANTOS TRIÂNGULOS? _____

D) O DESENHO TEM QUANTOS RETÂNGULOS? _____

7. NA ESCOLA VIDA FELIZ, A PROFESSORA MARTA FEZ UMA PESQUISA SOBRE QUAIS ERAM OS ANIMAIS DE ESTIMAÇÃO PREFERIDOS DOS ESTUDANTES DO 2º ANO. OBSERVE O GRÁFICO A SEGUIR E COMPLETE.

Disponível em: <https://www.pinterest.ph/pin/516577019755714245/>. Acesso em: 9 de mar. de 2021.

- A) O ANIMAL DE ESTIMAÇÃO MAIS VOTADO FOI O _____.
- B) O ANIMAL DE ESTIMAÇÃO MENOS VOTADO FOI O _____.
- C) OS ANIMAIS DE ESTIMAÇÃO QUE TIVERAM A MESMA QUANTIDADE DE VOTOS FORAM _____.

8. CAROLINA ESTÁ ARRUMANDO A ESTANTE E PRECISA COLOCAR 18 LIVROS. ELA JÁ COLOCOU SETE LIVROS.

QUAL A QUANTIDADE DE LIVROS CAROLINA PRECISA COLOCAR NA ESTANTE?

CÁLCULO



Disponível em: <https://br.pinterest.com/pin/346777240058456842>. Acesso em: 20 de mar. de 2021.

9. USAMOS O CALENDÁRIO PARA MEDIR O TEMPO (DIAS, SEMANAS, MESES E ANOS). OBSERVE O CALENDÁRIO (MÊS DE ABRIL) A SEGUIR E RESPONDA O QUE SE PEDE:

ABRIL 2021						
D	S	T	Q	Q	S	S
				1	2	3
4	5	6	7	8	9	10
11	12	13	14	15	16	17
18	19	20	21	22	23	24
25	26	27	28	29	30	31
FERIADOS: 2 - PAIXÃO DE CRISTO						
21 - TIRADENTES						

- A) QUANTAS QUARTAS – FEIRAS TEM ESSE MÊS? _____
- B) QUAL SERÁ A ÚLTIMA SEXTA – FEIRA DO MÊS? _____
- C) SÉRGIO FAZ ANIVERSÁRIO NA PRIMEIRA QUINTA – FEIRA DO MÊS. QUE DIA É ESSE? _____
- D) ANTÔNIO TEM MÉDICO MARCADO PARA A ÚLTIMA TERÇA – FEIRA DO MÊS. QUE DIA É O MÉDICO DE ANTÔNIO? _____

10. CERTAMENTE, VOCÊ REPAROU QUE OS DIAS DA SEMANA SE REPETEM OBEDECENDO A MESMA SEQUÊNCIA. OBSERVE AINDA O CALENDÁRIO DA ATIVIDADE ANTERIOR (Nº 9).

ESCREVA O DIA DO MÊS CORRESPONDENTE A CADA DIA DA SEMANA EM QUE ESTAMOS:

DOMINGO	SEGUNDA-FEIRA	TERÇA - FEIRA	QUARTA - FEIRA	QUINTA-FEIRA	SEXTA-FEIRA	SÁBADO

AGORA RESPONDA:

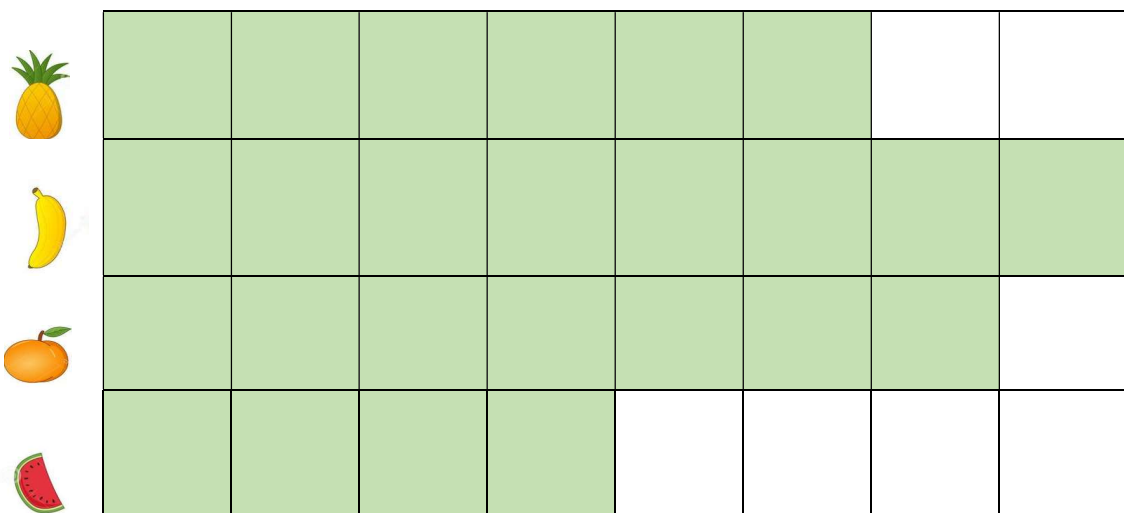
A) QUANTOS DIAS TEM UMA SEMANA?

B) QUE DIA DA SEMANA É HOJE?

C) E AMANHÃ, QUE DIA DA SEMANA SERÁ?

D) QUE DIA DO MÊS É HOJE?

11. OBSERVE ATENTAMENTE O GRÁFICO A SEGUIR. CADA QUADRADINHO VALE 10 VOTOS.



Disponível em: <https://br.pinterest.com/pin/487725834646783704>. Acesso em: 31 de mar.2021.

A) QUANTOS VOTOS TEVE O ABACAXI? _____

B) QUANTOS VOTOS TEVE A LARANJA? _____


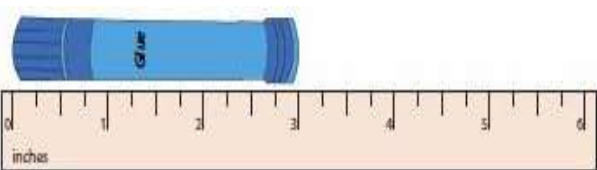
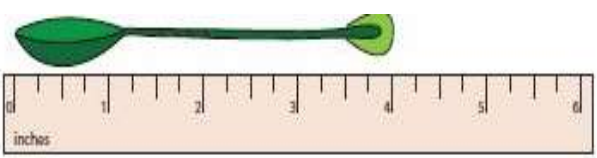
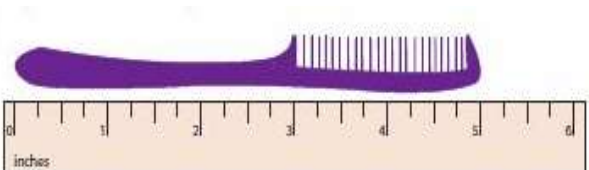
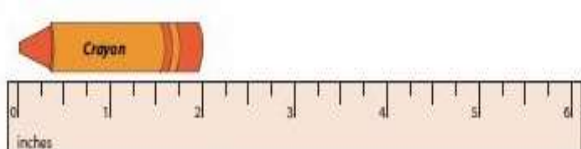
C) QUAL A FRUTA QUE TEVE **MENOR** QUANTIDADE DE VOTOS? E QUANTOS VOTOS FORAM? _____

D) QUAL A FRUTA QUE TEVE **MAIOR** QUANTIDADE DE VOTOS? E QUANTOS VOTOS FORAM? _____

12. COMPLETE O QUADRO A SEGUIR COM OS NÚMEROS E AS OPERAÇÕES DE ADIÇÕES E SUBTRAÇÕES PARA OBTER O RESULTADO.

NÚMERO	OPERAÇÃO	NÚMERO	IGUALDADE	RESULTADO
23	+		=	38
	+	24	=	89
50	-		=	5
32	+		=	41
	-	15	=	25

13. OBSERVE AS FIGURAS A SEGUIR E RELACIONE A 2ª COLUNA COM A 1ª, DE ACORDO COM A MEDIDA DOS OBJETOS.


- A)  () 4 CENTÍMETROS
- B)  () 5 CENTÍMETROS
- C)  () 2 CENTÍMETROS
- D)  () 3 CENTÍMETROS
- E)  () 6 CENTÍMETROS

Disponível em: <https://br.pinterest.com/pin/140174607130024370/>. Acesso em: 31 de mar. de 2021.

14. MARIANO E ANTÔNIO VENDEM LARANJAS NA FEIRA. MARIANO CONSEGUE VENDER 2 CAIXAS DE LARANJAS POR DIA E ANTÔNIO VENDE 3 CAIXAS POR DIA. EM CADA CAIXA CABEM 24 LARANJAS. QUANTAS LARANJAS MARIANO E ANTÔNIO VENDEM POR DIA?
E QUANTAS LARANJAS ANTÔNIO VENDE **A MAIS** QUE MARIANO?

CÁLCULO

15. PEDRO TRABALHA NO ZOOLOGICO DE GOIÂNIA. ELE CUIDA DE VÁRIOS ANIMAIS. OBSERVE A FIGURA A SEGUIR.



IDENTIFIQUE A QUANTIDADE DE CADA ANIMAL DO ZOOLOGICO

ANIMAIS	ELEFANTE	GIRAFAS	LEÃO	ZEBRA
QUANTIDADE				

Disponível em: <https://br.pinterest.com/pin/750482725396157660/>. Acesso em: 31 de mar. de 2021.

AGORA MARQUE A ALTERNATIVA CORRETA.

- (A) A QUANTIDADE DE LEÕES É MAIOR DO QUE DE ZEBRAS.
- (B) A QUANTIDADE DE GIRAFAS É IGUAL A DE ELEFANTES.
- (C) A QUANTIDADE DE ELEFANTES É MENOR QUE DE LEÕES.
- (D) A QUANTIDADE DE ZEBRAS É MAIOR QUE DE GIRAFAS.