

1º ANO

MATEMÁTICA

Superintendência de
Educação Infantil e
Ensino Fundamental

SEDUC
Secretaria de Estado
da Educação




ATIVIDADE 10

TEMA: LOCALIZAÇÃO DE OBJETOS NO ESPAÇO; CALENDÁRIOS E FATOS BÁSICOS DA ADIÇÃO E SUBTRAÇÃO.

NOME:

UNIDADE ESCOLAR:

1. AS CRIANÇAS ESTÃO PARTICIPANDO DE UMA BRINCADEIRA DE CORRIDA DE SACOS.



Disponível em <https://br.pinterest.com/pin/190488259215947579/?d=t&mt=signup>. Acesso dia 28 de Abr.de 2021.

AGORA RESPONDA:

A) QUAL CRIANÇA ESTÁ EM PRIMEIRO LUGAR NA CORRIDA?


B) QUAL CRIANÇA ESTÁ EM ÚLTIMO LUGAR NA CORRIDA?

2. CIRCULE O PÁSSARO QUE ESTÁ MAIS **LONGE** DO NINHO E MARQUE COM UM **X** O PÁSSARO QUE ESTÁ MAIS **PERTO** DO NINHO.



Disponível em <http://ead.bauru.sp.gov.br/efront/www/content/lessons/43/Lateralidade%20banho%20de%20 papel.pdf>. Acesso dia 28 de Abr.de 2021.

3. MARQUE COM UM X O CARRO QUE ESTÁ NA **FRENTE** DO CARRO VERMELHO.



Disponível em <http://ead.bauru.sp.gov.br/efront/www/content/lessons/43/Lateralidade%20banho%20de%20papel.pdf>. Acesso dia 28 de Abr.de 2021.

4. PINTE O BALÃO QUE ESTÁ NA MÃO **ESQUERDA** DA MENINA.



Disponível em <http://ead.bauru.sp.gov.br/efront/www/content/lessons/43/Lateralidade%20banho%20de%20papel.pdf>. Acesso dia 28 de Abr.de 2021.

OBSERVE O CALENDÁRIO DO MÊS DE MAIO E RESPONDA ÀS ATIVIDADES 5 E 6.

MAIO						
DOM	SEG	TER	QUA	QUI	SEX	SAB
						1
2	3	4	5	6	7	8
9	10	11	12	13	14	15
16	17	18	19	20	21	22
23	24	25	26	27	28	29
30	31					

Disponível em <https://www.facebook.com/praticaspedagogicas2017/photos/pcb.2741314819513935/2741314642847286/> Acesso dia 28 de abr. de 2021.

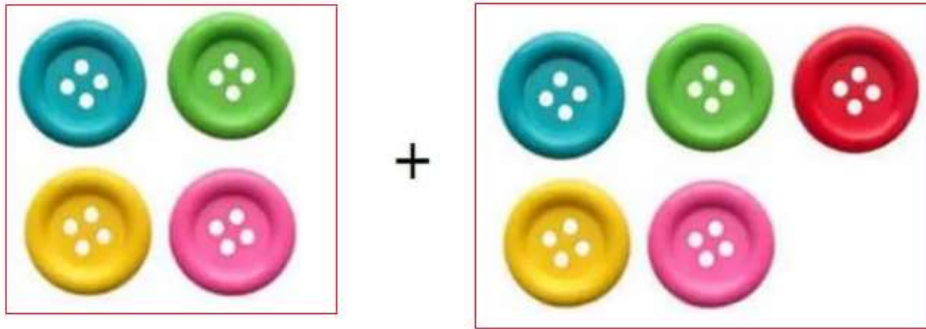
5. O MÊS DE MAIO TEM

- (A) 28 DIAS.
- (B) 29 DIAS.
- (C) 30 DIAS.
- (D) 31 DIAS.

6. QUANTOS DOMINGOS TEM O MÊS DE MAIO?

- (A) 3.
- (B) 4.
- (C) 5.
- (D) 6.

7. NA BLUSA DE VITÓRIA TEM 4 BOTÕES. E NA BLUSA DE CAMILA TEM 5 BOTÕES. QUANTOS BOTÕES TEM AS DUAS BLUSAS JUNTAS?




$$\square + \square = \underline{\quad}$$

Disponível em <https://acessaber.com.br/atividades/situacoes-problema-de-matematica-1o-ano/> Acesso dia 29 de abr. de 2021.

8. EFETUE CORRETAMENTE AS ADIÇÕES.

- A) $2 + 4 =$ _____
- B) $3 + 7 =$ _____
- C) $8 + 1 =$ _____
- D) $4 + 6 =$ _____

9. OBSERVE O EXEMPLO E CONTINUE REALIZANDO AS SUBTRAÇÕES:



10. LIGUE CADA OPERAÇÃO DE SUBTRAÇÃO AO SEU RESULTADO.

$5 - 1 =$

5

$7 - 2 =$

0

$9 - 6 =$

4

$3 - 3 =$

3