

2º ANO

LÍNGUA PORTUGUESA

Superintendência de
Educação Infantil e
Ensino Fundamental

Secretaria de
Estado da
Educação



ATIVIDADE 11 – REVISÃO 2º CORTE

NOME:

UNIDADE ESCOLAR:

1. AGRUPE UMA DEZENA DE FORMIGAS E COMPLETE O QUADRO:



D	U

Disponível em https://br.freepik.com/vetores-premium/formiga-de-desenho-animado-posando_3023460.htm. Acesso dia 14 de maio de 2021.

2. VEJA A DECOMPOSIÇÃO DO NÚMERO 134 E DECOMPONHA OS NÚMEROS A SEGUIR.

NUMERAL	CENTENAS	DEZENAS	UNIDADES
134	100	30	4
127			
56			
29			

3. OBSERVE A DECOMPOSIÇÃO E DEPOIS FAÇA COMO O EXEMPLO.


A) $44 = 4$ DEZENAS E 4 UNIDADES.

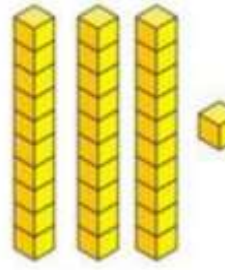
B) $91 =$ _____


C) $8 =$ _____


D) $6 =$ _____

4. PINTE O CÍRCULO COM A QUANTIDADE QUE REPRESENTA AS DEZENAS E UNIDADES DE CADA ITEM.

A) 
 17 18 19




B) 
 31 32 33

C) 
 20 21 22

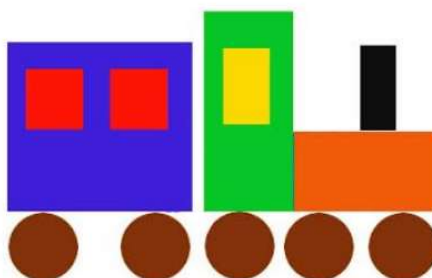
D) 
 40 41 44

Disponível em <https://br.pinterest.com/pin/844002786410761108/>. Adaptado. Acesso dia 14 de maio de 2021.

5. ESCREVA O NOME DE CADA FORMA GEOMÉTRICA.



6. OBSERVE A GRAVURA.



Disponível em <https://br.pinterest.com/pin/11259067806869075/> Acesso dia 27 de maio de 2021.

AGORA, RESPONDA:

A) QUANTIDADE DE QUADRADOS _____

B) QUANTIDADE DE CÍRCULOS _____

C) QUANTIDADE DE RETÂNGULOS _____

7. CAROLINA COMPROU UM SORVETE QUE CUSTA R\$ 5,00 E PAGOU COM UMA CÉDULA DE R\$10,00. QUANTO CAROLINA RECEBEU DE TROCO?

8. AGORA A COMPRA É COM VOCÊ!

OBSERVE O VALOR DO PRODUTO, QUANTO FOI PAGO EM DINHEIRO E QUANTO FOI RECEBIDO DE TROCO. FAÇA O CÁLCULO COM ATENÇÃO!

VOCÊ COMPROU	PAGOU EM DINHEIRO	RECEBEU DE TROCO
(A)  1 REAL	 2 REAIS	CÁLCULO
(B)  2 REAIS	 5 REAIS	CÁLCULO
(C)  5 REAIS	 10 REAIS	CÁLCULO

Disponível em <https://br.pinterest.com/pin/588423507547337440/> Acesso dia 14 de maio de 2021.
Disponível em <https://www.elo7.com.br/kit-top-doces-e-guloseimas-sacolinha-aniversario-30-criancas/dp/CA8994>. Acesso dia 14 de maio de 2021.

9. PAULA TEM 2 CAMISETAS VERDES E 3 AZUIS. QUANTAS CAMISETAS PAULA TEM NO TOTAL?



Disponível em <https://topstamp.loja2.com.br/3679943-CAMISAS-FEM-COLORIDAS>. Acesso dia 14 de maio de 2021.

10. TIAGO TEM 6 LÁPIS COLORIDOS E GANHOU MAIS 4 DE SEU AMIGO. DESENHE O TOTAL DE LÁPIS COLORIDOS QUE O TIAGO FICOU.

11. ESCREVA O NOME DE 5 PRODUTOS QUE PODEMOS COMPRAR **POR LITRO**.

Five empty ovals are arranged in two rows: three in the top row and two in the bottom row, intended for writing the names of products.

12. JOÃO COMPROU ALGUMAS FRUTAS. OBSERVE, NA TABELA, QUANTO PESOU CADA FRUTA.

PESO DAS FRUTAS COMPRADAS POR JOÃO

FRUTAS	QUILOGRAMAS (KG)
MAMÃO	1 KG
ABACAXI	2 KG
MELÃO	3 KG
MELANCIA	10 KG

DADOS FICTÍCIOS

ASSINALE A ALTERNATIVA CORRETA:

I) A FRUTA MAIS PESADA É

- (A) O MAMÃO.
- (B) O ABACAXI.
- (C) O MELÃO.
- (D) A MELANCIA.

II) O MAMÃO E O MELÃO PESAM JUNTOS

- (A) 3 KG.
- (B) 4 KG.
- (C) 5 KG.
- (D) 6 KG.

III) A DIFERENÇA DE PESO ENTRE A MELANCIA E O ABACAXI É IGUAL A

- (A) 4 KG.
- (B) 6 KG.
- (C) 8 KG.
- (D) 9 KG.

13. OS ESTUDANTES DA ESCOLA DE DEISE ESTÃO FAZENDO UMA GINCANA E JÁ CONSEGUIRAM JUNTAR VÁRIAS LATINHAS DE ALUMÍNIO PARA RECICLAR. OBSERVE A TABELA:

GINCANA DE LATINHAS

TURMA	QUANTIDADE DE LATINHAS
1º ANO	10
2º ANO	11
3º ANO	14
4º ANO	13

DADOS FICTÍCIOS

A) QUAL TURMA CONSEGUIU JUNTAR MAIS LATINHAS?

B) QUAL TURMA CONSEGUIU JUNTAR MENOS LATINHAS?

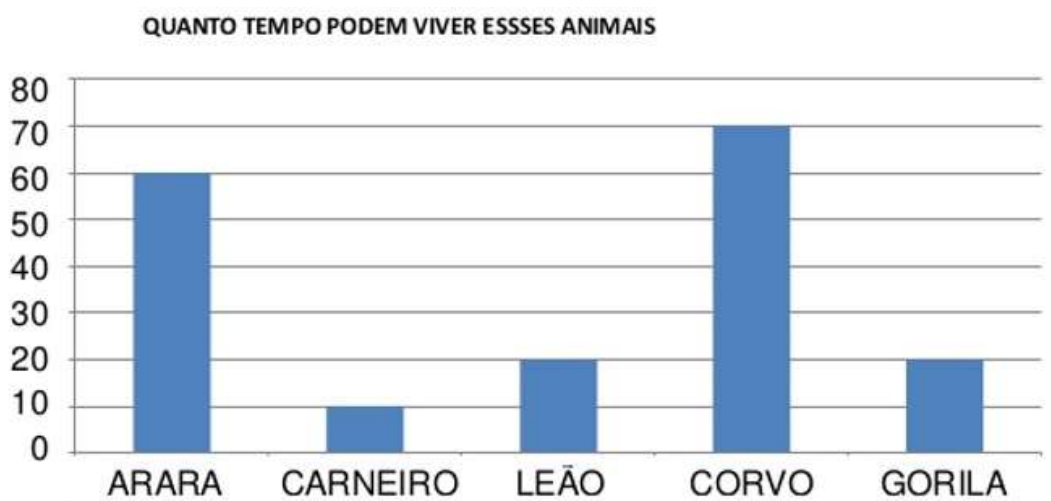
14. PINTE OS QUADRADINHOS DE ACORDO COM O NÚMERO DE LATINHAS ARRECADADAS NA GINCANA E OBSERVE O GRÁFICO FORMADO.

GINCANA DE LATINHAS

ANO	QUANTIDADE DE LATINHAS													
1º ANO														
2º ANO														
3º ANO														
4º ANO														
	1	2	3	4	5	6	7	8	9	10	11	12	13	14

DADOS FICTÍCIOS

15. VEJA O GRÁFICO QUE A PROFESSORA DA GABRIELA APRESENTOU PARA A TURMA.



Disponível em <https://pt.slideshare.net/ssuser858330/apostila-matematica-24593435?related=1>. Acesso dia 14 de maio de 2021.

RESPONDA:

A) QUAL É O TÍTULO DO GRÁFICO?

B) QUAL ANIMAL VIVE MAIS TEMPO?

C) QUANTOS ANOS VIVE O GORILA?
