

MATEMÁTICA

1. OBSERVE OS CARRINHOS QUE GUILHERME POSSUI NA SUA CAIXA DE BRINQUEDOS.



Disponível em:

<https://br.pinterest.com/pin/20829217013705191/> Acesso em: 22 de fev. de

QUANTOS CARRINHOS GUILHERME POSSUI NA CAIXA DE BRINQUEDOS?

- (A) 12
- (B) 15
- (C) 18
- (D) 13

2. OBSERVE A FIGURA A SEGUIR.
QUAL O NÚMERO TOTAL DE LIVROS?

- (A) 6
- (B) 7
- (C) 8
- (D) 9



3. TODOS OS DIAS NA HORA DO RECREIO CARLA, MARIA, HELENA E TIANA BRINCAM COM SUAS BONECAS. OBSERVE A QUANTIDADE DE BONECAS QUE CADA UMA TEM.

CARLA



MARIA



HELENA



TIANA



Disponível em: <https://br.pinterest.com/pin/845410161299372785/>. Acesso em : 19 de fev. de 2021

QUEM POSSUI MAIOR QUANTIDADE DE BONECAS?

- (A) MARIA
- (B) TIANA
- (C) CARLA
- (D) HELENA

4. OBSERVE A TABELA A SEGUIR.

18	19	20		22	23	24
----	----	----	--	----	----	----

QUAL NÚMERO ESTÁ FALTANDO NA SEQUÊNCIA?

- (A) 18
- (B) 19
- (C) 20
- (D) 21

5. A TURMA DO 2º ANO TEM 9 MENINAS. ESSA SEMANA, SOMENTE 3 MENINAS FORAM PARA A AULA. QUANTAS MENINAS FALTARAM AULA NESSA SEMANA?

- (A) 5
- (B) 6
- (C) 8
- (D) 9

6. OBSERVE A QUANTIDADE DE PATAS DO **BESOIRO** E DA **ARANHA**.

ASSINALE COM UM X A QUANTIDADE DE PATAS QUE A ARANHA TEM A MAIS QUE O BESOIRO.

- (A) 4
- (B) 6
- (C) 2
- (D) 3



BESOIRO

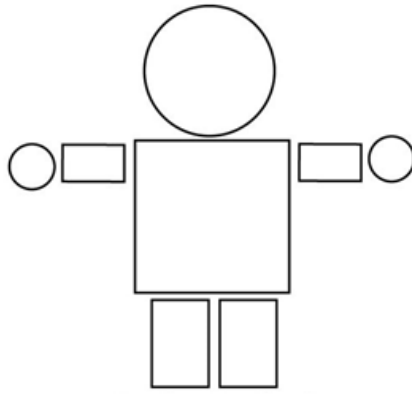


ARANHA

Disponível em: <https://br.pinterest.com/pin/237142736614988457/> - ARANHA. Acesso em: 21 de fev. de 2021

Disponível em: <https://i.pinimg.com/originals/39/19/d1/3919d127f2a0725202b0c5cb7ba756f2.jpg> - BESOIRO . Acesso em: 21 de fev. de 2021.

7. OBSERVE O BONECO CONSTRUÍDO COM FIGURAS GEOMÉTRICAS.




Disponível: <https://br.pinterest.com/pin/163748136440591503/> Acesso em: 17 de fev. de 2021.

O BONECO POSSUI

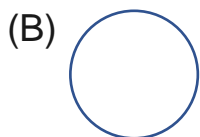
- (A) CÍRCULOS, QUADRADO E TRIÂNGULOS.
- (B) CÍRCULOS, QUADRADO E RETÂNGULOS.
- (C) TRIÂNGULOS, QUADRADO E RETÂNGULOS.
- (D) CÍRCULOS, TRIÂNGULO E RETÂNGULO.

8. OBSERVE O CADERNO DE MARCOS.

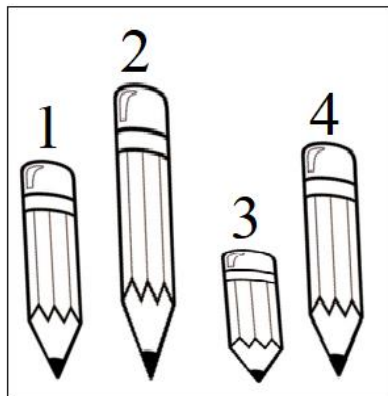


Disponível em <https://casadaarte.vteximg.com.br>. Acesso em 23 de fev de 2021.

MARQUE COM UM X A FIGURA GEOMÉTRICA QUE REPRESENTA A CAPA DESSE CADERNO.



9. OBSERVE OS QUATRO LÁPIS A SEGUIR.



O LÁPIS MENOR É O DE NÚMERO

- (A) 1
- (B) 2
- (C) 3
- (D) 4

10. OBSERVE A FIGURA A SEGUIR.



Disponível em: <https://br.pinterest.com/pin/360147301422599209/?autologin=true>. Acesso em 23 de fev de 2021.

A QUANTIA REPRESENTADA NESSA FIGURA É

- (A) 1 REAL E 1 CENTAVO
- (B) 10 REAIS E 1 CENTAVO
- (C) 10 REAIS
- (D) 11 REAIS