

## MATEMÁTICA

1. ANDRÉ E JOSÉ FAZEM COLEÇÃO DE BONECOS SUPER-HERÓIS. OBSERVE A SEGUIR A QUANTIDADE DE BONECOS DE CADA UM.

ANDRÉ



JOSÉ

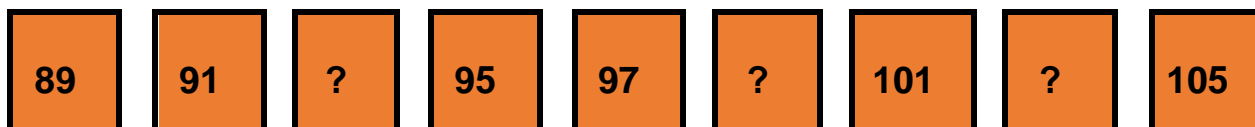


Disponível em: <https://www.pinterest.es/pin/330592428904835314/>. Acesso em: 18 de mar. De 2021.

QUANTOS BONECOS SUPER-HERÓIS JOSÉ TEM A MAIS QUE ANDRÉ?

- (A) 5 BONECOS SUPER - HERÓIS.
- (B) 8 BONECOS SUPER - HERÓIS.
- (C) 7 BONECOS SUPER - HERÓIS.
- (D) 9 BONECOS SUPER - HERÓIS.

2. OBSERVE AS CARTELAS A SEGUIR.



MARQUE A ALTERNATIVA DOS NÚMEROS QUE ESTÃO FALTANDO.

- (A) 93, 96, 103.
- (B) 93, 99, 103.
- (C) 93, 98, 103.
- (D) 92, 98, 102.


UM SORVETEIRO TINHA 165 PICOLÉS EM SEU CARRINHO. DURANTE O DIA, ELE VENDEU 104 PICOLÉS. QUANTOS PICOLÉS ELE AINDA TEM?

- (A) 52
- (B) 46
- (C) 35
- (D) 61

Disponível em: <https://br.depositphotos.com/3988888/stock-illustration-ice-cream-cart.html>. Acesso em: 18 de mar. de 2021



4. MARCELO E JOANA COLECIONAM LIVROS. OBSERVE A QUANTIDADE DE LIVROS DE MARCELO.




JOANA TEM OITO LIVROS A MAIS QUE MARCELO. QUANTOS LIVROS ELA TEM?

- (A) 12
- (B) 16
- (C) 13
- (D) 10

Disponível em: <https://br.pinterest.com/pin/672584525587811752/>. Acesso em: 18 de mar. de 2021.

5. OBSERVE A IMAGEM DO CELULAR A SEGUIR.



A TELA DESSE CELULAR LEMBRA QUAL FIGURA GEOMÉTRICA?

- (A) CÍRCULO.
- (B) QUADRADO.
- (C) RETÂNGULO.
- (D) TRIÂNGULO.

Disponível em: <https://www.pinterest.ph/pin/816066394967244753/>. Acesso em: 4 de mar. de 2021.

6. OBSERVE AS LATAS DE TINTA QUE MARTA COMPROU PARA PINTAR SUA CASA.



Disponível em: <https://www.pngegg.com/es/png-wvkd0>. Acesso em: 4 de mar. de 2021.

ESSAS LATAS DE TINTA LEMBRAM QUAL FIGURA GEOMÉTRICA ESPACIAL?

- (A) PIRÂMIDE.
- (B) CUBO.
- (C) CONE
- (D) CILINDRO.

7. TAINÁ, A INDIAZINHA PROTETORA DA FLORESTA AMAZÔNICA, GANHOU QUATRO FLECHAS NOVAS DE TAMANHOS DIFERENTES. MARQUE A ALTERNATIVA QUE INDICA A **MAIOR** FLECHA.



45 CM



65 CM



40 CM



35 CM

- (A) 65 CM
- (B) 35 CM
- (C) 45 CM
- (D) 40 CM



Disponível em: <https://www.pinterest.ph/pin/12877548919201895/> Acesso em : 4 de mar. de 2021.  
<https://www.pinterest.ph/pin/1124422231934388537/> - FLECHA

8. OBSERVE COM ATENÇÃO O CALENDÁRIO DO MÊS DE ABRIL.

ABRIL 2021						
D	S	T	Q	Q	S	S
				1	2	3
4	5	6	7	8	9	10
11	12	13	14	15	16	17
18	19	20	21	22	23	24
25	26	27	28	29	30	31
<b>FERIADOS:</b> 2 - PAIXÃO DE CRISTO 21 - TIRADENTES						

O MÊS DE ABRIL POSSUI \_\_\_\_\_ SÁBADOS E \_\_\_\_\_ DOMINGOS.  
COMPLETE AS LACUNAS ASSINALANDO A ALTERNATIVA CORRETA.

- (A) 7 SÁBADOS E 7 DOMINGOS.
- (B) 6 SÁBADOS E 7 DOMINGOS
- (C) 5 SÁBADOS E 6 DOMINGOS.
- (D) 5 SÁBADOS E 4 DOMINGOS.

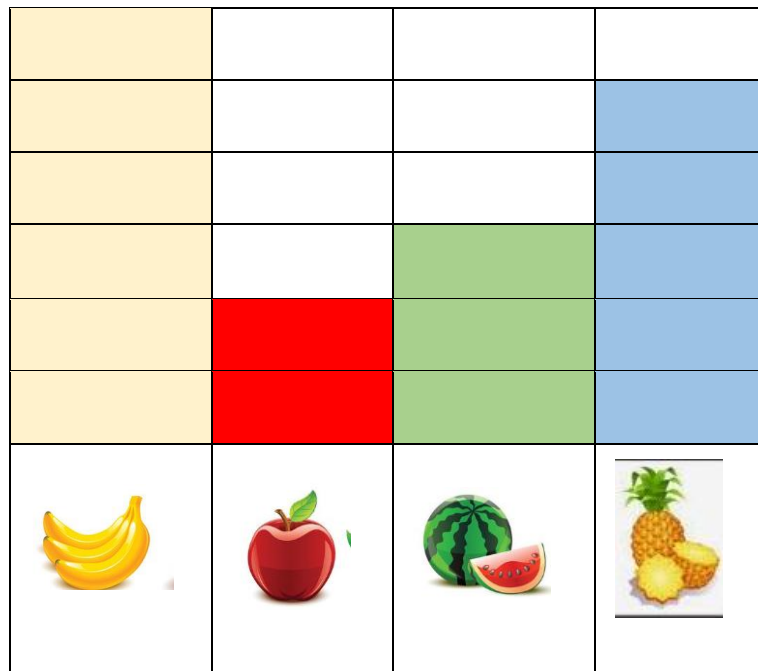
9. NA ESCOLA QUE LAURA ESTUDA FIZERAM UMA GINCANA COM QUATRO EQUIPES: LARANJA, VERMELHA, VERDE E AZUL. O RESULTADO FOI COLOCADO NO MURAL DO PÁTIO DA ESCOLA.  
OBSERVE A TABELA A SEGUIR E RESPONDA:

EQUIPES	TOTAL DE PONTOS
LARANJA	74
VERDE	76
VERMELHA	90
AZUL	65

QUAL EQUIPE FEZ MAIS PONTOS?

- (A) A EQUIPE AZUL.
- (B) A EQUIPE LARANJA.
- (C) A EQUIPE VERMELHA.
- (D) A EQUIPE VERDE.

10. NA ESCOLA FELICIDADE, O PROFESSOR RAUL FEZ UMA PESQUISA SOBRE AS FRUTAS PREFERIDAS DOS ESTUDANTES. OBSERVE O GRÁFICO A SEGUIR.



Disponível em: <https://br.pinterest.com/pin/46865652350391653/>. Acesso em: 07 de mar. de 2021.

QUAL A FRUTA PREFERIDA DOS ESTUDANTES?

- (A) ABACAXI
- (B) MAÇÃ
- (C) BANANA
- (D) MELANCIA