

1º ANO

GEOGRAFIA/HISTÓRIA

Superintendência de
Educação Infantil e
Ensino Fundamental

SEDUC
Secretaria de Estado
da Educação



ATIVIDADE 12

TEMA: MAPAS MENTAIS E REFERÊNCIAS ESPACIAIS. A VIDA EM FAMÍLIA

NOME:

UNIDADE ESCOLAR:

PEÇA AJUDA PARA LER O TEXTO.

OS MAPAS

OS MAPAS SÃO REPRESENTAÇÕES DA REALIDADE, ELES ILUSTRAM DE FORMA REDUZIDA UMA DETERMINADA ÁREA DA TERRA OU DO ESPAÇO GEOGRÁFICO. MAIS DO QUE SIMPLEMENTE UM DESENHO OU UMA IMAGEM, OS MAPAS SÃO UMA FORMA DE COMUNICAÇÃO, UMA MANEIRA QUE AS PESSOAS TÊM DE EXPRESSAREM E COMPARTILHAREM INFORMAÇÕES.

PODEMOS ENUMERAR AS PRINCIPAIS UTILIDADES DOS MAPAS:

- A) **LOCALIZAÇÃO:** ATRAVÉS DOS MAPAS, PODEMOS NOS SITUAR SOBRE OS DIFERENTES LUGARES DO MUNDO;
- B) **COMUNICAÇÃO:** OS MAPAS SÃO UMA FORMA DE COMUNICAÇÃO;
- C) **CONHECIMENTO:** OS MAPAS PODEM SER LIDOS, POIS REPRESENTAM UMA FORMA DE LINGUAGEM;
- D) **MEDIR DISTÂNCIAS:** COM OS MAPAS, PODEMOS CALCULAR ALGUMAS DISTÂNCIAS.

Disponível em: <https://escolakids.uol.com.br/geografia/importancia-dos-mapas.htm>. Acesso em 21 de jun.de 2021.

DE ACORDO COM O TEXTO RESPONDA AS ATIVIDADES:

1. O QUE SÃO MAPAS?

2. OS MAPAS TAMBÉM SÃO UMA FORMA DE

- (A) COMUNICAÇÃO.
- (B) DIVERSÃO.
- (C) DISTRAÇÃO.
- (D) ANIMAÇÃO.

3. QUAIS AS PRINCIPAIS UTILIDADES DOS MAPAS?

4. MARQUE (V) PARA VERDADEIRO E (F) PARA FALSO.

- () OS MAPAS NÃO MOSTRAM UMA DETERMINADA ÁREA OU ESPAÇO GEOGRÁFICO;
- () ATRAVÉS DOS MAPAS, PODEMOS NOS SITUAR SOBRE OS DIFERENTES LUGARES DO MUNDO;
- () OS MAPAS PODEM SER APENAS DESENHADOS COM LÁPIS DE COR;

() MEDIR DISTÂNCIAS COM OS MAPAS, PODEMOS CALCULAR ALGUMAS DISTÂNCIAS.

5. NO FIM DE SEMANA, A FAMÍLIA DE ANA QUER IR CONHECER O MAR. QUAL O TRAJETO QUE DEVEM SEGUIR, SE FOREM DE CARRO?



Disponível em: <https://minhasatividades.com/atividades-sobre-trajetos/>. Acesso em 21 de jun. de 2021.


(A) CACHOEIRAS.

(C) CENTRO.

(B) RESTAURANTE.

(D) PRAIA.

6. OS GAROTOS SE PERDERAM UM DO OUTRO. AJUDE-OS PINTANDO O CAMINHO.



Disponível em: <https://br.pinterest.com/pin/743727325958306291/>. Acesso em 21 de jun. de 2021.

QUANDO NÃO SABEMOS QUE CAMINHO TOMAR, CONSULTAMOS O _____.

FAMÍLIA



Disponível em: <http://leavesgrass.blogspot.com/2009/09/old-fashioned-family-familia-moda.html>. Acesso em 21 de jun. de 2021.

OS DIFERENTES TIPOS DE FAMÍLIA ESTÃO RELACIONADOS À OFICIALIZAÇÃO OU NÃO DA UNIÃO DE CASAIS (MATRIMONIAL E INFORMAL), À PRESENÇA OU NÃO DE UM DOS PAIS (MONOPARENTAL E ANAPARENTAL) E A OUTROS FATORES QUE INFLUENCIAM ESSA ORGANIZAÇÃO.

A FAMÍLIA É ENTENDIDA COMO UM GRUPO DE PESSOAS UNIDAS POR UM LAÇO AFETIVO.

COMO INSTITUIÇÃO SOCIAL, A FAMÍLIA TEM PASSADO POR MUDANÇAS ACELERADAS EM SUA ESTRUTURA, ORGANIZAÇÃO E FUNÇÃO DE SEUS MEMBROS.

AO MODELO TRADICIONAL, SOMAM-SE MUITOS OUTROS E NÃO É POSSÍVEL AFIRMAR SE SÃO MELHORES OU PIORES, APENAS SÃO DIFERENTES.

Disponível em: <https://www.diferenca.com/tipos-de-familia/>. Acesso em 21 de jun. de 2021.

7. EXISTE SÓ UM TIPO DE FAMÍLIA? POR QUÊ?

8. OBSERVE AS DUAS FAMÍLIAS NAS IMAGENS E RESPONDA.

A) QUANTAS PESSOAS HÁ NA PRIMEIRA FAMÍLIA?

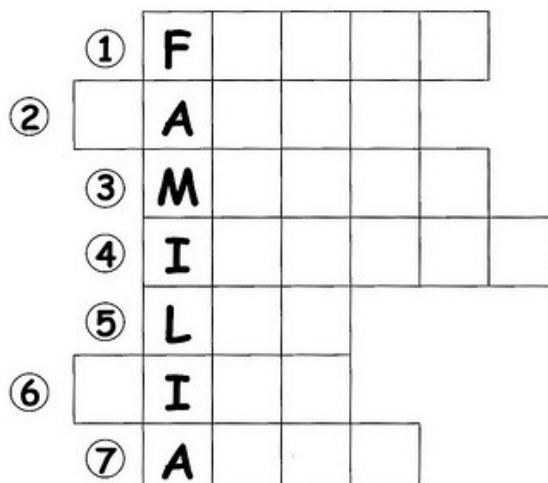
B) QUANTAS PESSOAS HÁ NA SEGUNDA FAMÍLIA?

C) QUANTAS PESSOAS FAZEM PARTE DA SUA FAMÍLIA?

D) O QUÊ VOCÊ PERCEBEU DE DIFERENTE ENTRE AS IMAGENS DESSA ATIVIDADE E A SUA FAMÍLIA?

9. COMPLETE A CRUZADINHA COM A PLAVRA FAMÍLIA.

- 1- FILHO
- 2- PAPAÍ
- 3- MAMÃE
- 4- IRMÃOS
- 5- LAR
- 6- TIOS
- 7- AVÓS



Disponível em: <https://br.pinterest.com/pin/701928291894770066/>. Acesso em 21 de 2021.

10. ENCONTRE AS RESPOSTAS PARA AS PERGUNTAS NO CAÇA-PALAVRAS.

A) O PAI DA MINHA MÃE É O MEU _____.


B) O FILHO DA MINHA TIA É O MEU _____.

C) A ESPOSA DE MEU PAI É A MINHA _____.

D) A IRMÃ DA MINHA MÃE É A MINHA _____.

E) O IRMÃO DE MEU PAI É O MEU _____.

F) O FILHO DE MEU PAI É O MEU _____.



Disponível em: <https://br.pinterest.com/pin/652318327250154056/>. Acesso em 21 de jun. de 2021.