

2º ANO

GEOGRAFIA E HISTÓRIA

Superintendência de
Educação Infantil e
Ensino Fundamental

SEDUC
Secretaria de Estado
da Educação



ATIVIDADE 12

TEMA: FORMAS DE REPRESENTAÇÃO E PENSAMENTO ESPACIAL E HISTÓRIAS DA FAMÍLIA.

NOME:


UNIDADE ESCOLAR:

LEIA O TEXTO.

LOCALIZAÇÃO

O HOMEM, AO LONGO DOS TEMPOS, SEMPRE DESENVOLVEU AS MAIS CURIOSAS E ENGENHOSAS MANEIRAS DE SE LOCALIZAR SOBRE A SUPERFÍCIE TERRESTRE.

NO CAMINHO DESSAS DESCOBERTAS, ALGUNS APARELHOS FORAM UTILIZADOS PARA IDENTIFICAR, LOCALIZAR E ORIENTAR AS POSIÇÕES E OS CAMINHOS TRAÇADOS EM SEUS DIFERENTES PERCURSOS SOBRE A SUPERFÍCIE TERRESTRE. OS PRINCIPAIS E MAIS CONHECIDOS SÃO: A ROSA DOS VENTOS, A BÚSSOLA E MAIS RECENTEMENTE, O GPS.



Disponível em: <https://escolakids.uol.com.br/geografia/instrumentos-de-localizacao.htm>. Acesso em 24 de jun. de 2021.

Disponível em: <http://portaldoprofessor.mec.gov.br/fichaTecnicaAula.html?aula=10433>. Acesso em 24 de jun. de 2021.

Disponível em: <http://www.geografia7.com/rosa-dos-ventos.html>. Acesso em 25 de jun. de 2021.

A ROSA DOS VENTOS É UM INSTRUMENTO USADO PARA APONTAR E DIVIDIR OS DIFERENTES PONTOS DE ORIENTAÇÃO CARTOGRÁFICAS, CONHECIDOS COMO PONTOS CARDEAIS.

OS PONTOS CARDEAIS SÃO QUATROS: NORTE (N), SUL (S), LESTE (E) E OESTE (O).

A BÚSSOLA É UM DOS MAIS ANTIGOS INSTRUMENTOS AINDA UTILIZADOS PELO HOMEM.

O GPS – É CAPAZ DE INDICAR E LOCALIZAR QUALQUER PONTO DA SUPERFÍCIE TERRESTRE.

Disponível em: <https://escolakids.uol.com.br/geografia/instrumentos-de-localizacao.htm>. Acesso em 24 de jun. de 2021.

1. MARQUE V PARA VERDADEIRO E F PARA FALSO.

A) () A ROSA DOS VENTOS É UM INSTRUMENTO USADO PARA PERFUMAR O AMBIENTE.

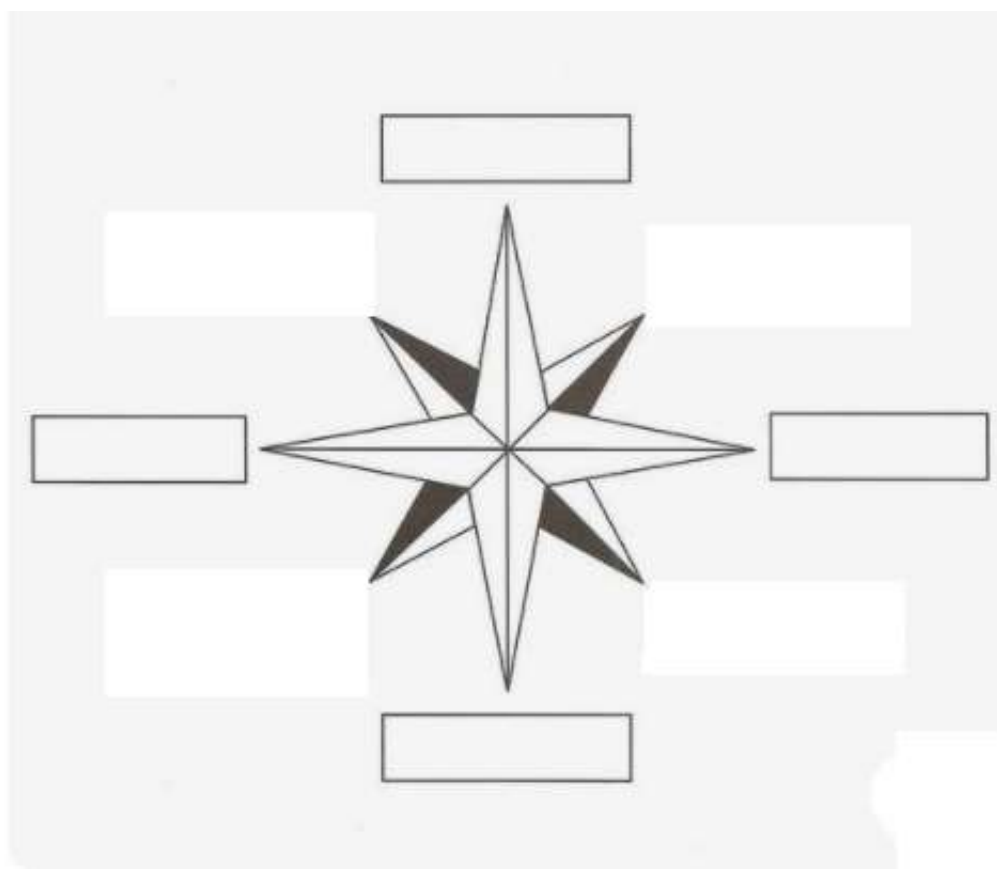
B) () A BÚSSOLA É UM DOS INSTRUMENTOS MAIS ANTIGOS AINDA UTILIZADOS PELO HOMEM.

C) () O GPS É CAPAZ DE INDICAR E LOCALIZAR QUALQUER PONTO DA SUPERFÍCIE TERRESTRE.

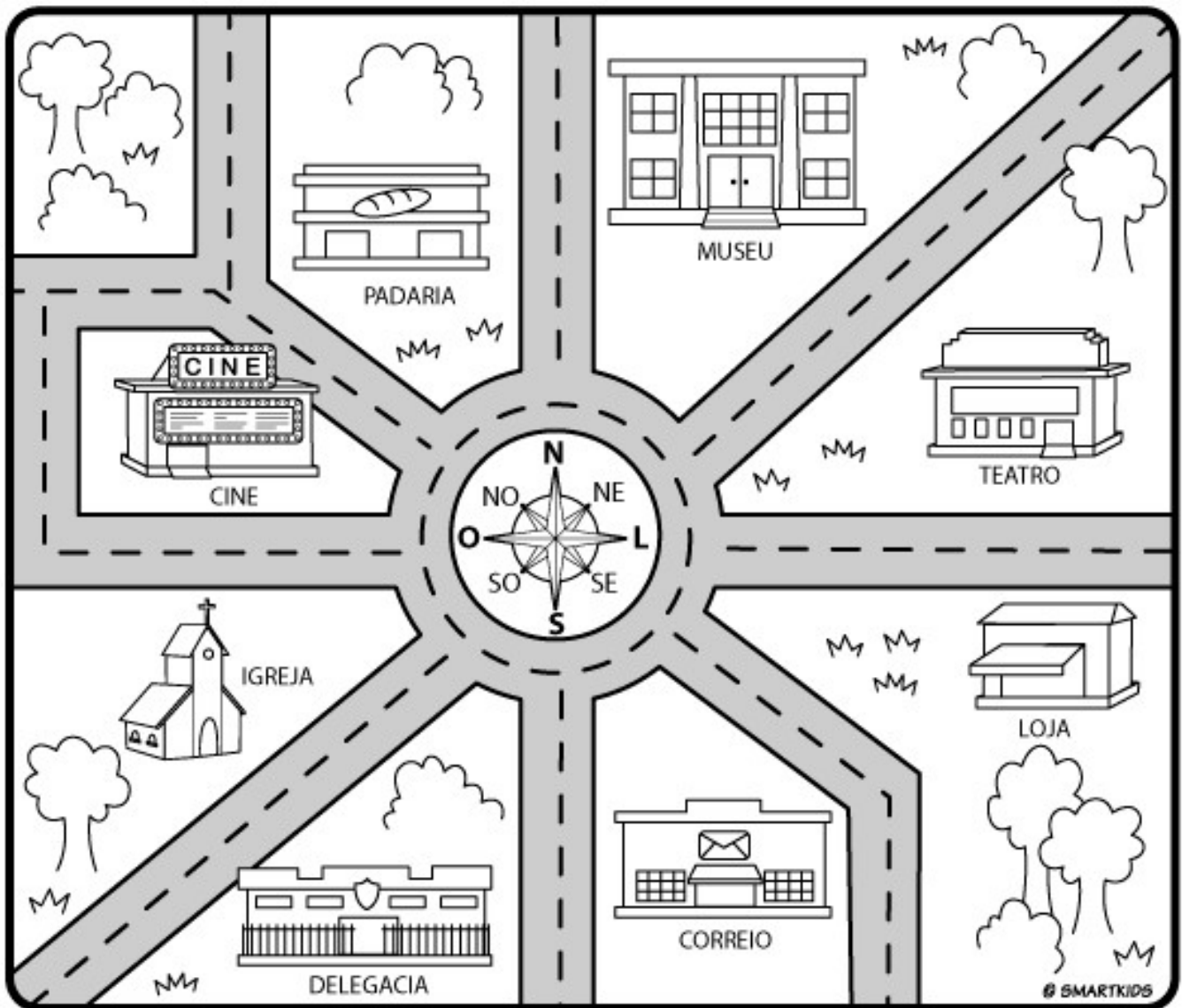
D) () OS PONTOS CARDEAIS SÃO O LADO DE CIMA, BAIXO, DIREITA E ESQUERDA.

2. VOCÊ CONHECE OU JÁ OUVIU FALAR SOBRE ALGUM DESSES LOCALIZADORES DE POSIÇÕES? QUAL?

3. ESCREVA O NOME DOS PRINCIPAIS PONTOS CARDEAIS E PINTE A ROSA DOS VENTOS USANDO CORES FORTES.



4. PINTE OS EDIFÍCIOS (PRÉDIOS) USANDO A SEGUINTE LEGENDA.



Disponível em: <https://www.smartkids.com.br/colorir/desenho-pinte-pontos-cardeais>. Acesso em 25 de jun. de 2021.

FIQUE ATENTO:

VOCÊ SABE O QUE É UMA PLANTA BAIXA?

É A REPRESENTAÇÃO DAS DIVISÕES (CÔMODOS) DE UMA CASA: SUAS DISPOSIÇÕES (LOCALIZAÇÕES E DIMENSÕES).



Disponível em: <https://www.youtube.com/watch?v=WdZCG5DfBFc>. Acesso em 25 de jun. de 2021.

5. AGORA QUE VOCÊ JÁ SABE O QUE É UMA PLANTA BAIXA, RESPONDA.

A) COMO É SUA CASA, GRANDE OU PEQUENA?

B) O QUE TEM EM FRENTE A SUA CASA?

C) E ATRÁS DA SUA CASA, O QUE TÊM?

D) VOCÊ CONSEGUE IMAGINAR A SUA CASA POR DENTRO?
COMO ELA É VISTA DE CIMA? E POR DENTRO?

6. FAÇA UMA LISTA DOS CÔMODOS E DESENHE AO LADO A PLANTA BAIXA DA SUA CASA.

TENHO CERTEZA QUE VOCÊ CONSEGUE.

LISTA DOS CÔMODOS	PLANTA BAIXA

Disponível em: <https://planosdeaula.novaescola.org.br/fundamental/2ano/matematica/casa-plantas-e-roteiros/771>. Acesso em 25 de jun. de 2021.

7. OBSERVE A IMAGEM.



Disponível em: <https://proibidocolar.blogspot.com/2020/09/plantas-baixas-e-vistas-aereas-ef06ma28.html>. Acesso em 25 de jun. de 2021.

ESTA IMAGEM FOI FOTOGRAFADA

- A) DE LADO.
- B) DE CIMA.
- C) DE FRENTE.
- D) DE DENTRO.

8. OBSERVE A CENA A SEGUIR E DESCUBRA QUEM É A JÚLIA.



Disponível em: <https://www.sjc.sp.gov.br/media/120969/2-ano-geo.pdf>. Acesso em 25 de jun. de 2021.

A) JULIA ESTÁ ENTRE ANDRÉ QUE ESTÁ ANDANDO DE BICICLETA E MARTA QUE ESTÁ ANDANDO DE SKATE. JULIA ESTÁ BRINCANDO DO QUE?

B) A MENINA DA FRENTE DE CABELO VERMELHO, ESTÁ BRINCANDO DE QUÊ?

9. LEIA O TEXTO.

DE ONDE EU VENHO

CADA UM TEM UMA HISTÓRIA.

CADA PESSOA É ÚNICA E TRAZ CONSIGO UMA HISTÓRIA DIFERENTE.

ALÉM DA NOSSA HISTÓRIA, TODOS NÓS POSSUÍMOS INFORMAÇÕES PESSOAIS QUE SÃO REGISTRADAS EM DOCUMENTOS.

O PRIMEIRO DOCUMENTO QUE TEMOS É A CERTIDÃO DE NASCIMENTO. NELA ESTÃO NOSSO NOME, DATA E LOCAL DE NASCIMENTO, O NOME DE NOSSOS PAIS, A NACIONALIDADE E OUTRAS INFORMAÇÕES IMPORTANTES. ELA É EMITIDA LOGO DEPOIS QUE NASCEMOS.



Disponível em: https://br.freepik.com/vetores-premium/menino-pensando_12847318.htm. Acesso em 15 de jun. de 2021.

Disponível em: <https://www.espacoprofessor.com/atividades-de-historia-2o-ano-em-pdf-de-onde-eu-venho/>. Acesso em 15 de jun. de 2021.

É COM VOCÊ!

A) ONDE AS PESSOAS DEVEM FAZER O REGISTRO DE NASCIMENTO?

() NA ESCOLA () NA PREFEITURA () NO CARTÓRIO DE REGISTRO CIVIL

B) PEGUE DUAS CERTIDÕES DE NASCIMENTO, A SUA E A DE OUTRA PESSOA QUE MORA NA SUA CASA.

FAÇA AS SEGUINTE COMPARAÇÕES: AS DATAS DE REGISTRO; OS NOMES; O TIPO DE PAPEL...

C) COPIE OS SEGUINTE DADOS DA SUA CERTIDÃO:

- NOME COMPLETO

- HORA E DIA EM QUE VOCÊ NASCEU

- LOCAL E A CIDADE QUE VOCÊ NASCEU.

- NOME DOS SEUS PAIS.

- NOME DOS SEUS AVÓS.

10. VOCÊ HERDOU O SOBRENOME DE UM DOS SEUS PAIS? QUAL SOBRENOME?

11. AS PESSOAS DA MESMA FAMÍLIA PODEM SER PARECIDAS OU NÃO. POR QUÊ?

12. NA SUA FAMÍLIA, AS PESSOAS SE PARECEM? QUEM SE PARECE COM QUEM? CITE AS CARACTERÍSTICAS.

13. SE POSSÍVEL, COMPARE UMA FOTO SUA COM DE OUTRA CRIANÇA DA SUA FAMÍLIA. OBSERVE AS SEMELHANÇAS E DIFERENÇAS QUE HÁ ENTRE VOCÊS E ANOTE A SEGUIR.
