

1º ANO

MATEMÁTICA

Superintendência de
Educação Infantil e
Ensino Fundamental

SEDUC
Secretaria de Estado
da Educação



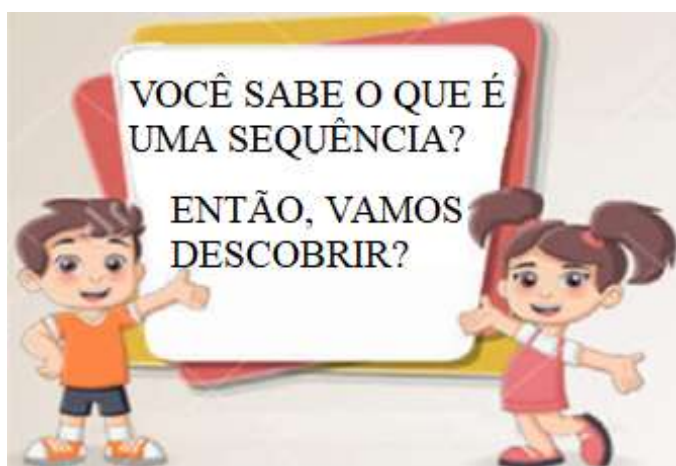
ATIVIDADE 12

TEMA: SEQUÊNCIAS RECURSIVAS.

HABILIDADE: (EF01MA10-C) DESCREVER, ORALMENTE, POR ESCRITO OU POR DESENHO, OS ELEMENTOS AUSENTES EM SEQUÊNCIAS RECURSIVAS DE NÚMEROS NATURAIS, OBJETOS OU FIGURAS.


NOME:

UNIDADE ESCOLAR:



Disponível em <https://pt.dreamstime.com/ilustra%C3%A7%C3%A3o-stock-projete-fundos-do-quadro-de-caixa-do-texto-com-crian%C3%A7as-dos-desenhos-animados-image78982994>. Adaptado. Acesso dia 07 de Jun. de 2021.

OBSERVE AS IMAGENS



NESSA IMAGEM OS NÚMEROS ESTÃO ORGANIZADOS EM UMA SEQUÊNCIA DE 1, 2, 3, 4, 5, 6, 7, 8, 9 E 10.

Disponível em <https://www.turminha.com.br/atividade-educativa/centopeia-e-os-numeros>. Adaptado. Acesso dia 07 de Jun. de 2021.



NESSA IMAGEM OS BRINQUEDOS SEGUEM A SEGUINTE SEQUÊNCIA: BONECA, PIPA, BONECA, PIPA, BONECA E PIPA.

Disponível em https://br.freepik.com/vetores-premium/conjunto-de-brinquedos_3101588.htm. Adaptado. Acesso dia 07 de Jun. de 2021.

AGORA VOCÊ JÁ SABE QUE SEQUÊNCIA É UM CONJUNTO DE NÚMEROS, OBJETOS OU IMAGENS DISPOSTAS EM UMA ORDEM. ENTÃO, INICIE SUAS ATIVIDADES.

1. DANIEL ESTÁ MERGULHANDO E ENCONTROU 10 ESTRELAS-DO-MAR. ELE PRECISA DE AJUDA PARA NUMERÁ-LAS NA SEQUÊNCIA DE 1 A 10.



Disponível em <https://www.elo7.com.br/kit-adesivos-fundo-do-mar/dp/D63B5A>. Adaptado. Acesso dia 07 de Jun. de 2021.

2. OBSERVE COMO OS BALÕES FORAM PINTADOS. CONTINUE PINTANDO DE ACORDO COM A SEQUÊNCIA DAS CORES.



Disponível em <https://br.pinterest.com/pin/41095415339789692/>. Adaptado. Acesso dia 07 de Jun. de 2021.

3. VEJA AS FORMAS GEOMÉTRICAS E PINTE CONFORME A SEQUÊNCIA.




4. OS URSINHOS A SEGUIR FORAM PINTADOS DE VERDE OU AZUL. NESSA SEQUÊNCIA FICOU FALTANDO PINTAR UM URSINHO. QUAL A COR QUE FALTOU?



Disponível em <https://www.istockphoto.com/br/vetor/grandes-conjuntos-de-brinquedos-diferentes-no-fundo-branco-gm1217289140-355266643>. Adaptado. Acesso dia 08 de Jun. de 2021.

5. DESCUBRA O SEGREDO DA SEQUÊNCIA DAS BOLINHAS E CONTINUE DESENHANDO.



Disponível em <https://www.soescola.com/2016/07/35-atividades-de-matematica-subtracao-adicao-quantidades-soma.html/docu0021>. Adaptado. Acesso dia 08 de Jun. de 2021.


6. AJUDE MARCELO NA ORGANIZAÇÃO DA SUA COLEÇÃO DE CARRINHOS, COLOCANDO-OS NA ORDEM NUMÉRICA.



Disponível em <https://pt.dreamstime.com/foto-de-stock-grupo-de-carros-coloridos-do-vetor-image32694160>. Adaptado. Acesso dia 08 de Jun. de 2021.

ESCREVA A ORDEM NUMÉRICA DESSA ORGANIZAÇÃO.

7. OBSERVE O MATERIAL ESCOLAR E CONTINUE DESENHANDO A SEQUÊNCIA.



Disponível em https://br.freepik.com/vetores-premium/material-escolar-kawaii-vetor-escolaridade-ferramentas-emoticon-caneta-lapis-coloridos-marcadores_6075255.htm. Adaptado. Acesso dia 08 de Jun. de 2021.

8. DESCUBRA O PADRÃO DAS SEQUÊNCIAS A SEGUIR E PREENCHA OS QUADRADINHOS.

A)

4	8			20	
---	---	--	--	----	--

B)

10			40		
----	--	--	----	--	--

9. NAS TABELAS ESTÃO FALTANDO VÁRIOS NÚMEROS. DESCUBRA QUAIS SÃO E COMPLETE.

37		39	
			44
45			48

50			53
54	55		
		60	

10. CONTANDO DE 2 EM 2, PREENCHA A SEQUÊNCIA DA RETA NUMÉRICA.



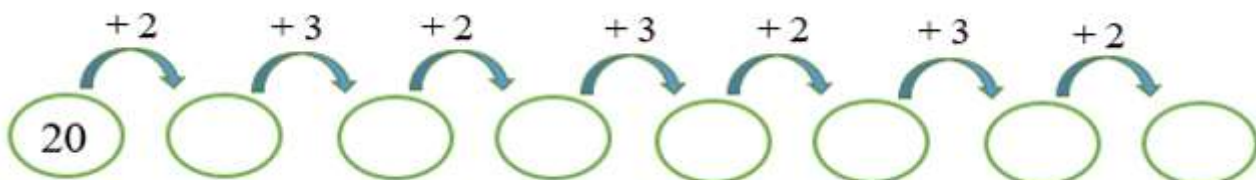
11. DESCUBRA QUAL O NÚMERO QUE FALTA NA SEQUÊNCIA E MARQUE O ITEM CORRETO.

4, 14, _____, 34, 44, 54, 64.

- (A) 4
- (B) 14

- (C) 16
- (D) 24

12. CALCULE AS ADIÇÕES E PREENCHA OS CÍRCULOS.



13. ESCREVA DENTRO DAS CASINHAS OS NÚMEROS QUE VEM ANTES E DEPOIS.



Disponível em http://1.bp.blogspot.com/_wDGUF5dt6TQ/S78n35vAieI/AAAAAAAAADM/Rn5UzkeBBI/s1600/digitalizar0056.jpg. Adaptado. Acesso dia 08 de Jun. de 2021.

14. OBSERVE O NÚMERO E MARQUE O ITEM CORRETO.

36

O NÚMERO QUE VEM ANTES DE 36 É O

(A) 34.

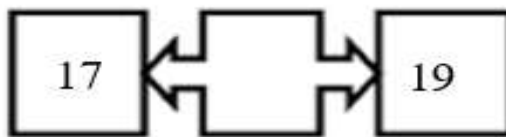

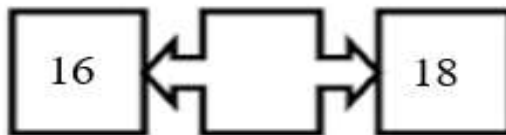
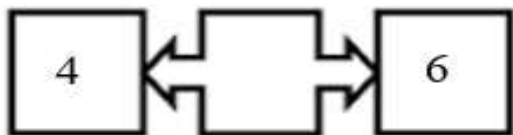
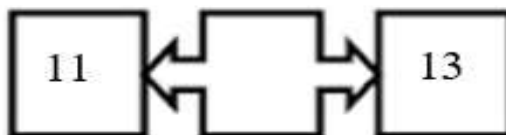
(C) 37.

(B) 35.

(D) 38.

Disponível em https://br.freepik.com/vetores-premium/colecao-de-numeros-coloridos-com-sinais_2237427.htm. Adaptado. Acesso dia 08 de Jun. de 2021.


15. OBSERVE OS NUMERAIS E COMPLETE COM O NÚMERO QUE ESTÁ ENTRE ELES.




Disponível em <https://professoradanielafreitas.blogspot.com/2013/02/antecessor-e-sucessor.html?m=0>. Adaptado. Acesso dia 08 de Jun. de 2021.]

RESPOSTAS COMENTADAS

1. ESPERA-SE QUE O(A) ESTUDANTE CONTE AS 10 ESTRELAS-DO-MAR E NUMERE ABAIXO DE CADA UM COM O NUMERAL CORRESPONDE A UMA SEQUÊNCIA DE 1 A 10.



2. ESPERA-SE QUE O(A) ESTUDANTE OBSERVE COMO OS BALÕES FORAM PINTADOS. CONTINUE PINTANDO CONFORME A SEQUÊNCIA DAS CORES.



3. ESPERA-SE QUE O(A) ESTUDANTE OBSERVE A SEQUÊNCIA DAS FORMAS E CONTINUE PINTANDO NA SEQUÊNCIA CORRETAMENTE IDENTIFICANDO A FORMA E COR DE CADA IMAGEM.



4. ESPERA-SE QUE O(A) ESTUDANTE OBSERVE A SEQUÊNCIA DAS CORES DOS URSINHOS DESCUBRA QUE FICOU FALTANDO UM URSINHO AZUL, POIS A SEQUÊNCIA É UM URSINHO VERDE E DOIS AZUIS.

5. ESPERA-SE QUE O(A) ESTUDANTE OBSERVE A SEQUÊNCIA DAS BOLINHAS E CONTINUE DESENHANDO AS BOLINHAS.

6. ESPERA-SE QUE O(A) ESTUDANTE ORGANIZE A COLEÇÃO DE CARRINHOS EM ORDEM DE 10 A 19.

7. ESPERA-SE QUE O(A) ESTUDANTE OBSERVE A SEQUÊNCIA DO MATERIAL ESCOLAR E DESENHE OS PRÓXIMOS MATERIAIS QUE ESTÃO FALTANDO NA SEQUÊNCIA QUE SÃO A BORRACHA E O CADERNO.

8. DESCUBRA O PADRÃO DE CADA SEQUÊNCIA E CONTINUE PREENCHENDO OS QUADRADOS.

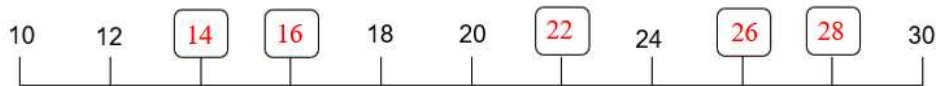


9. ESPERA-SE QUE O(A) ESTUDANTE OBSERVE NAS TABELAS E DESCUBRA OS NÚMEROS QUE ESTÃO FALTANDO E COMPLETE.

37	38	39	40
41	42	43	44
45	46	47	48

50	51	52	53
54	55	56	57
58	59	60	61

10. ESPERA-SE QUE O(A) ESTUDANTE PREENCHA A SEQUÊNCIA DOS NÚMEROS DE 2 EM 2 COM OS NÚMEROS QUE FALTAM.



11. ESPERA-SE QUE O(A) ESTUDANTE DESCUBRA QUAL O NÚMERO QUE FALTA NA SEQUÊNCIA E MARQUE O ITEM (D) 24.

4, 14, 24, 34, 44, 54, 64.

12. ESPERA-SE QUE O(A) ESTUDANTE RESOLVA OS CÁLCULOS DAS ADIÇÕES SEGUINDO O PADRÃO +2 E +3 E PREENCHA OS CÍRCULOS.

13. ESPERA-SE QUE O(A) ESTUDANTE ESCREVA DENTRO DAS CASINHAS OS NÚMEROS QUE VEM ANTES E DEPOIS.

14. ESPERA-SE QUE O(A) ESTUDANTE OBSERVE O NÚMERO 36 E MARQUE O ITEM (B) 35 COMO O NÚMERO QUE VEM ANTES DE 36.

15. ESPERA-SE QUE O(A) ESTUDANTE OBSERVE OS NUMERAIS E COMPLETE COM O NÚMERO QUE ESTÁ ENTRE ELES.

