

2º ANO

MATEMÁTICA

Superintendência de
Educação Infantil e
Ensino Fundamental

SEDUC
Secretaria de Estado
da Educação



ATIVIDADE 12

TEMA: ADIÇÃO/SUBTRAÇÃO E SISTEMA DE NUMERAÇÃO DECIMAL.

NOME:

UNIDADE ESCOLAR:



O SISTEMA DE NUMERAÇÃO QUE USAMOS É DECIMAL, POIS CONTAMOS EM GRUPOS DE 10.

OBSERVE:

10 UNIDADES = 1 DEZENA

10 DEZENAS = 1 CENTENA

CADA ALGARISMO TEM UM VALOR DE ACORDO COM A POSIÇÃO QUE ELE OCUPA NA REPRESENTAÇÃO DO NÚMERO.



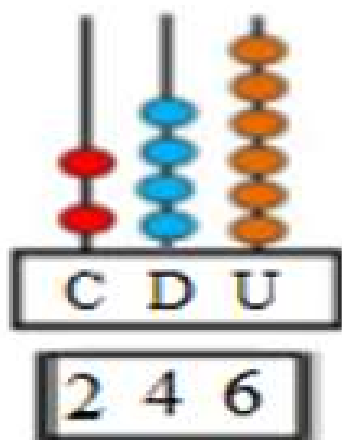
3 2 4

4 UNIDADES
20 UNIDADES = 2 DEZENAS
300 UNIDADES = 3 CENTENAS

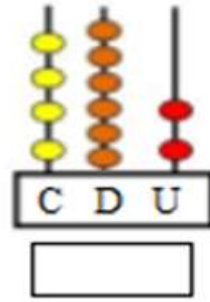
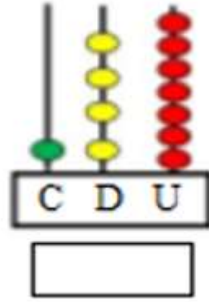
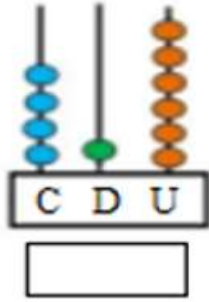
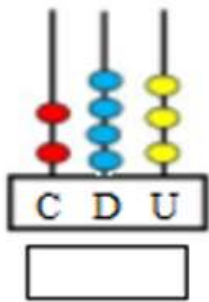
Imagens disponíveis em: <https://pt.vecteezy.com/arte-vetorial/298524-personagens-diferentes-de-meninos-e-meninas>. Acesso em 28 de Jun. de 2021

ATIVIDADES

1. OBSERVE O ÁBACO A SEGUIR.

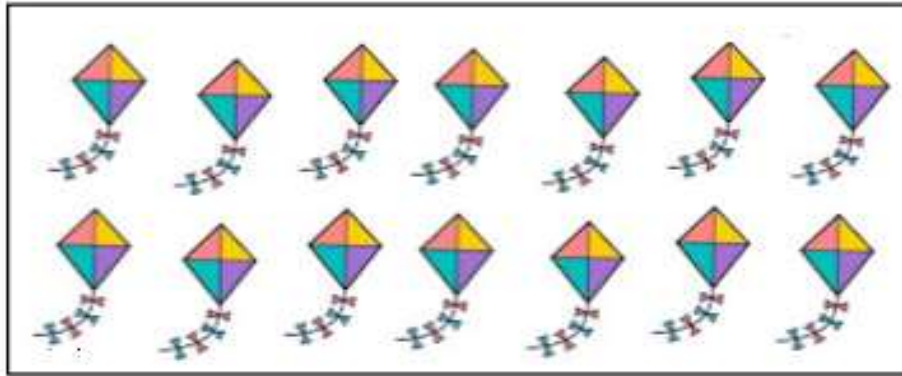


AGORA, ESCREVA OS NÚMEROS DE ACORDO COM A REPRESENTAÇÃO DE CADA ÁBACO.



Disponível em <https://br.pinterest.com/pin/337910778299033825/> Adaptado. Acesso dia 09 de Jun. de 2021.

2. CONTE AS PIPAS DO QUADRO A SEGUIR E CIRCULE 1 DEZENA.



Disponível em <http://diariodatiamari.blogspot.com/2020/10/semana-da-crianca-vamos-contar.html>. Acesso dia 10 de Jun. de 2021.

AGORA RESPONDA:

A) QUANTAS PIPAS TEM AO TODO?

B) QUANTAS UNIDADES DE PIPA VOCÊ CIRCULOU?

C) QUANTAS UNIDADES SOBRARAM?

D) REPRESENTE O TOTAL DE PIPAS NO QVL (QUADRO DE VALOR DE LUGAR).

D	U

3. OBSERVE A DECOMPOSIÇÃO DO NÚMERO 172.

$172 = 1 \text{ CENTENA} + 7 \text{ DEZENAS} + 2 \text{ UNIDADES}$
--

FAÇA COMO NO EXEMPLO.

A) 118 = _____

B) 135 = _____

C) 249 = _____

D) 367 = _____

4. JOSÉ VENDE PICOLÉS. OBSERVE A QUANTIDADE QUE ELE VENDE POR MÊS E ESCREVA OS NÚMEROS COMO NO EXEMPLO.

PICOLÉS	QUANTIDADE	CENTENA	DEZENA	UNIDADE
CHOCOLATE	323	300	20	3
COCO	215			
LARANJA	149			
UVA	180			

5. OBSERVE O NÚMERO

623

ESSE NÚMERO É COMPOSTO POR

- (A) 2 CENTENAS, 3 DEZENAS E 6 UNIDADES.
- (B) 2 CENTENAS, 6 DEZENAS E 3 UNIDADES.
- (C) 6 CENTENAS, 3 DEZENAS E 2 UNIDADES.
- (D) 6 CENTENAS, 2 DEZENAS E 3 UNIDADES.

6. FORAM CONFECCIONADAS 1 CENTENA DE BANDEIROLAS PARA A FESTA JUNINA.

QUANTAS BANDEIROLAS FORAM CONFECCIONADAS?

- (A) 1 BANDEIROLA.
- (B) 10 BANDEIROLAS.
- (C) 100 BANDEIROLAS.
- (D) 1000 BANDEIROLAS.

7. CONTE AS CÉDULAS E DESCUBRA O VALOR TOTAL DE CADA GRUPO.

(A)  = _____

(B)  = _____

(C)  = _____

8. MINHA AVÓ TEM AS SEGUINTEs CÉDULAS PARA COMPRAR UM PAR DE SANDÁLIAS:



Disponível em <https://br.pinterest.com/pin/666603182316778909/> Acesso dia 09 de Jun. de 2021.

A QUANTIA QUE MINHA AVÓ TEM NO TOTAL É DE

- (A) R\$ 65,00. (C) R\$ 95,00.
(B) R\$ 75,00. (D) R\$ 115,00.

9. BRUNA TINHA 12 PROBLEMINHAS DE MATEMÁTICA PARA RESOLVER. JÁ RESOLVEU 7. QUANTOS PROBLEMINHAS AINDA FALTAM?



Disponível em <https://fazendoanossafesta.com.br/2012/07/indice-dos-livrinhos-de-colorir-e-de-atividades.html/> Acesso dia 09 de Jun. de 2021.

10. ROBERTO ESTÁ LENDO UM LIVRO COM 183 PÁGINAS. ELE JÁ LEU 121 PÁGINAS. QUANTAS PÁGINAS FALTAM PARA ROBERTO LER?



Disponível em <https://aycarambablog.blogspot.com/2012/10/leendo-o-leyendo.html> Acesso dia 09 de Jun. de 2021.

11. EM UM ÔNIBUS HÁ 52 PASSAGEIROS SENTADOS E 27 EM PÉ. QUANTOS PASSAGEIROS HÁ NO ÔNIBUS?



Disponível em <http://cantinodalumad.blogspot.com/2009/07/meios-de-transporte-2.html> Acesso dia 09 de Jun. de 2021.

12. DANIELA TINHA R\$ 370,00. GANHOU MAIS R\$ 120,00. COM QUANTOS REAIS DANIELA FICOU?



Disponível em <https://br.pinterest.com/pin/340514421806002615/> Acesso dia 09 de Jun. de 2021.

13. LUISA TEM UMA COLEÇÃO DE BONECAS E JORDANA UMA COLEÇÃO DE URSOS. OBSERVE AS IMAGENS A SEGUIR.



LUISA



JORDANA

Disponível em <https://br.pinterest.com/pin/229120699771116811/> Acesso dia 09 de Jun. de 2021.

Disponível em https://www.freepik.es/vector-gratis/ilustracion-diferentes-colores-osos-peluche_1142319.htm. Acesso dia 10 de Jun. de 2021.

AGORA, RESPONDA.

- A) QUANTAS BONECAS HÁ NA COLEÇÃO? _____
- B) QUANTOS URSOS HÁ NA COLEÇÃO? _____
- C) QUAL A COLEÇÃO QUE TEM MENOS OBJETOS? _____
- D) QUANTOS OBJETOS JORDANA TEM A MAIS QUE LUISA NA SUA COLEÇÃO? _____

14. NA MESA DA COZINHA HÁ 4 CESTOS COM PERAS. ESCREVA ABAIXO A QUANTIDADE DE PERAS DE CADA CESTO.

FAÇA A SOMA DOS NÚMEROS E DESCUBRA O TOTAL DE FRUTAS.



_____ + _____ + _____ + _____ = _____

Disponível em <https://br.pinterest.com/pin/408279522474816849/> Acesso dia 10 de Jun. de 2021.

15. OBSERVE A GRAVURA.



Disponível em <https://www.istockphoto.com/br/vetor/jogo-educacional-de-matem%C3%A1tica-adi%C3%A7%C3%A3o-com-doces-gm1052362574-281266278> Acesso dia 09 de Jun. de 2021.

QUAL ALTERNATIVA QUE REPRESENTA O TOTAL DE BOLACHAS?

- (A) $2 + 2 + 2$ (C) $4 + 4 + 4$
- (B) $3 + 3 + 3$ (D) $5 + 5 + 5$