

2º ANO

MATEMÁTICA

Superintendência de  
Educação Infantil e  
Ensino Fundamental

SEDUC  
Secretaria de Estado  
da Educação



### ATIVIDADE 13

TEMA: SEQUÊNCIAS REPETITIVAS E SEQUÊNCIAS RECURSIVAS DE NÚMEROS NATURAIS, OBJETOS OU FIGURAS.

NOME:

UNIDADE ESCOLAR:

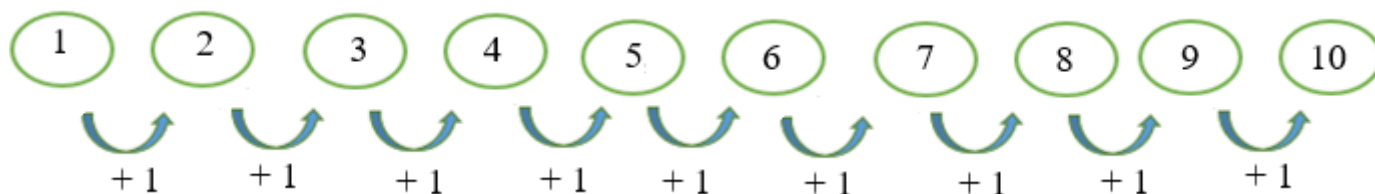


Fonte: [https://br.freepik.com/vetores-premium/modelo-de-fronteira-com-a-garota-e-o-lapis\\_2055910.htm#&position=9](https://br.freepik.com/vetores-premium/modelo-de-fronteira-com-a-garota-e-o-lapis_2055910.htm#&position=9)

**OBSERVE OS  
EXEMPLOS**

QUANDO  
CONTAMOS OS  
NÚMEROS DE UM A

UM ESTAMOS CONSTRUINDO UMA SEQUÊNCIA DE NÚMEROS NATURAIS. NESSA IMAGEM OS NÚMEROS ESTÃO ORGANIZADOS EM UMA SEQUÊNCIA DE 1, 2, 3, 4, 5, 6, 7, 8, 9 E 10.



NESSA IMAGEM, AS FIGURAS GEOMÉTRICAS FORMAM A SEGUINTE SEQUÊNCIA: QUADRADO, CÍRCULO E TRIÂNGULO, QUADRADO, CÍRCULO E TRIÂNGULO, QUADRADO, CÍRCULO E TRIÂNGULO.




AGORA VOCÊ JÁ SABE QUE SEQUÊNCIA É UM CONJUNTO DE NÚMEROS, OBJETOS OU IMAGENS QUE SÃO DISPOSTOS EM UMA ORDEM.

1. GABRIELA COLORIU UMA SEQUÊNCIA DE FLORES. É A SUA VEZ DE AJUDÁ-LA A TERMINAR A SEQUÊNCIA.



Disponível em <https://www.espacoinfantil.com.br/desenhos-de-flores/> Adaptado. Aceso dia 24 de Jun. de 2021.

OBSERVE A SEQUÊNCIA FORMADA PELOS LÁPIS E RESPONDA AS ATIVIDADES 2 e 3.




Disponível em <https://pt.dreamstime.com/fotografia-de-stock-royalty-free-grupo-dos-desenhos-animados-de-1%C3%A1pis-de-madeira-coloridos-image28576237.adaptado>. Aceso dia 24 de Jun. de 2021.

2. QUAIS AS CORES QUE APARECEM NESSA SEQUÊNCIA?

---

3. DESENHE OS PRÓXIMOS LÁPIS CONTINUANDO A SEQUÊNCIA.

4. OBSERVE A SEQUÊNCIA DAS BOLINHAS E ESCREVA COMO FOI CONSTRUÍDA ESSA SEQUÊNCIA.

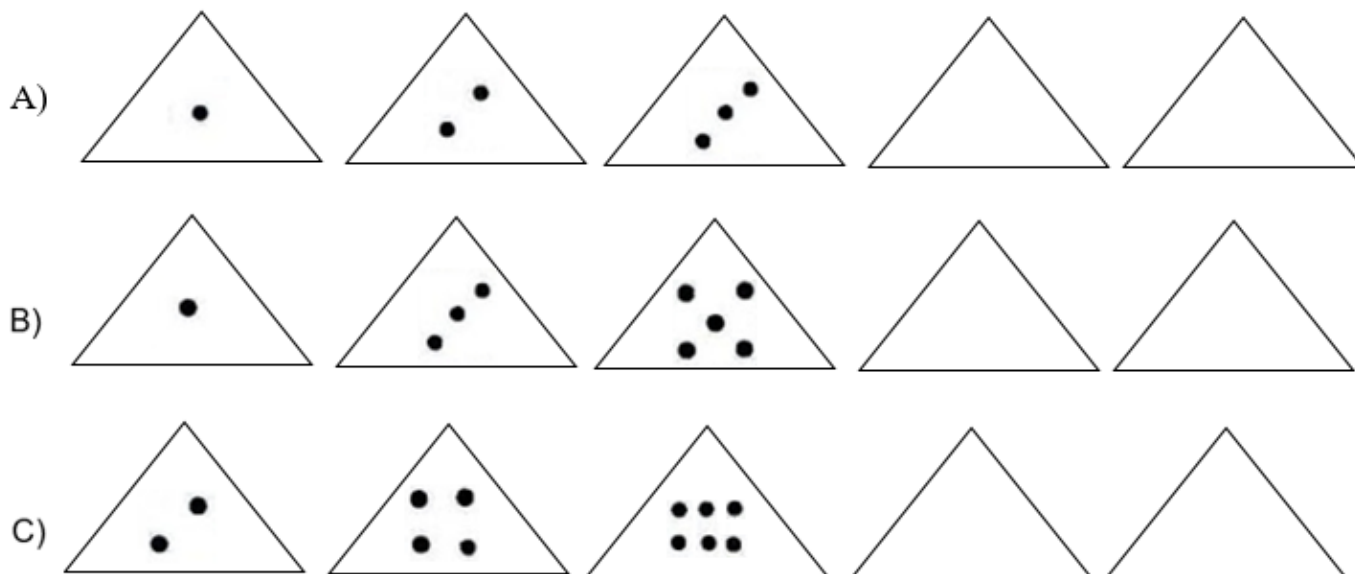


---

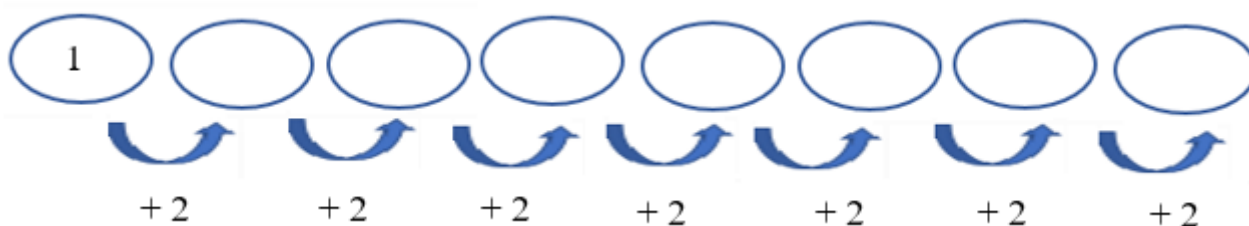
---

---

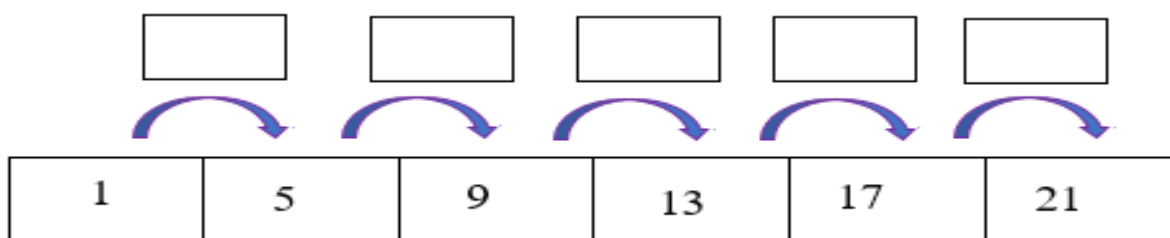
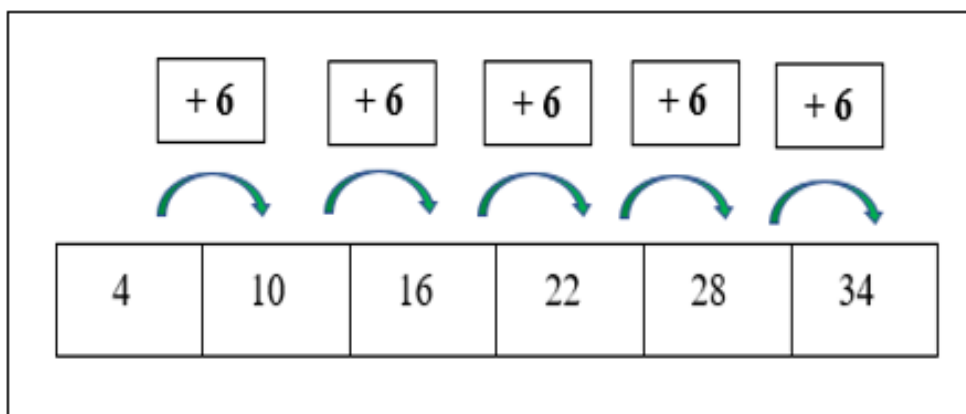
5. DESCUBRA O SEGREDO DA SEQUÊNCIA DAS BOLINHAS E CONTINUE DESENHANDO.



6. CALCULE AS ADIÇÕES E PREENCHA OS CÍRCULOS.



7. OBSERVE O EXEMPLO. DESCUBRA O PADRÃO DA SEQUÊNCIA E PREENCHA OS QUADROS A SEGUIR.



8. DESCUBRA QUAL O NÚMERO QUE FALTA NA SEQUÊNCIA E MARQUE O ITEM CORRETO.

5 - 10 - 15 - 20 - 25 - 30 - \_\_\_\_

(A) 31

(C) 34

(B) 32

(D) 35

9. DESCUBRA QUAL O NÚMERO QUE FALTA NA SEQUÊNCIA INDICADO PELO X E ESCREVA A SEGUIR.

2 - 5 - 8 - X - 14 - 17 - 20

10. DIOGO QUER LEVAR RAÇÃO PARA SEU CÃOZINHO. AJUDE DIOGO DESCUBRIR O SEGREDO DA SEQUÊNCIA E PREENCHA O CAMINHO COM OS NÚMEROS QUE FALTAM.

