

2º ANO

MATEMÁTICA

Superintendência de
Educação Infantil e
Ensino Fundamental

SEDUC
Secretaria de Estado
da Educação



ATIVIDADE 14





TEMA: FIGURAS GEOMÉTRICAS PLANAS

NOME:

UNIDADE ESCOLAR:

FIGURAS GEOMÉTRICAS PLANAS

AS FIGURAS GEOMÉTRICAS PLANAS TÊM FORMAS E CARACTERÍSTICAS DIFERENTES E SÃO PARECIDAS COM VÁRIOS OBJETOS QUE USAMOS NO NOSSO DIA A DIA.

FIGURAS GEOMÉTRICAS PLANAS		
	QUADRADO	QUATRO LADOS IGUAIS
	RETÂNGULO	DOIS PARES DE LADOS IGUAIS
	TRIÂNGULO	TRÊS LADOS IGUAIS
	CÍRCULO	NÃO TEM LADOS

1. OBSERVE AS IMAGENS E ESCREVA OS NOMES DAS FIGURAS GEOMÉTRICAS PLANAS QUE SÃO PARECIDAS COM OS OBJETOS A SEGUIR.



2. MARQUE O OBJETO QUE TEM A FORMA GEOMÉTRICA PARECIDA COM UM TRIÂNGULO.



Disponível em <https://escoladigital.org.br/planos-de-aula/reconhecendo-figuras-geometricas-no-cotidiano-55130>. Acesso dia 29 de Jun de 2021.

3. O CADERNO TÊM A FORMA PARECIDA COM A FIGURA GEOMÉTRICA DO


(A) TRIÂNGULO.

(C) QUADRADO

(B) RETÂNGULO

(D) CÍRCULO

4. OBSERVE A IMAGEM E RESPONDA:



Disponível em <https://br.pinterest.com/pin/705728204077447499/> Acesso dia 29 de Jun de 2021.

(A) QUAL A QUANTIDADE DE QUADRADOS _____

(B) QUAL A QUANTIDADE DE RETÂNGULOS _____

(C) QUAL A QUANTIDADE DE TRIÂNGULOS _____

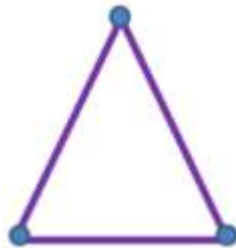

5. ESCOLHA UMA FORMA GEOMÉTRICA PLANA E FAÇA O DESENHO DE UM OBJETO PARECIDO COM ELA.

AGORA RESPONDA.

A) QUAL O NOME DA FORMA GEOMÉTRICA PLANA ESCOLHIDA

B) QUAL O NOME DO DESENHO PARECIDO _____

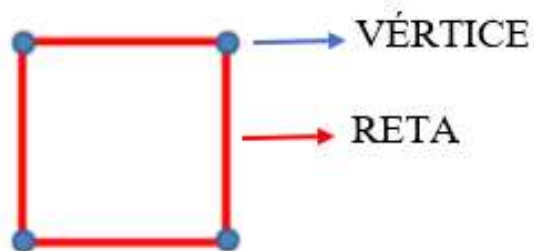
OBSERVE AS FIGURAS GEOMÉTRICAS PLANAS.



CADA SEGMENTO DE RETA REPRESENTA UM DOS LADOS.

E CADA ENCONTRO DE RETAS, TEMOS UM PONTO, QUE CHAMAMOS DE VÉRTICES.

NO CÍRCULO NÃO HÁ RETAS E NEM VÉRTICES.



6. OBSERVE A FIGURA GEOMÉTRICA PLANA E MARQUE A ALTERNATIVA CORRETA.



ELA POSSUI:

(A) 2 LADOS.

(C) 4 LADOS.

(B) 3 LADOS.

(D) 5 LADOS.

7. DESENHE UM TRIÂNGULO E COLOQUE BOLINHAS NOS VÉRTICES.



8. COMPLETE A TABELA.

NOME	NÚMERO DE LADOS	NÚMERO DE VÉRTICES	DESENHO
QUADRADO			
TRIÂNGULO			
RETÂNGULO			
CÍRCULO			

9. UTILIZE 10 PALITOS INTEIROS E FORME UM RETÂNGULO E DEPOIS FAÇA O DESENHO REPRESENTANDO COM OS PALITOS.

POLÍGONOS

SÃO FIGURAS GEOMÉTRICAS PLANAS E FECHADAS CONSTITUÍDAS POR SEGMENTOS DE RETAS.



10. OBSERVE AS SEGUINTE FIGURAS GEOMÉTRICAS E ASSINALE SOMENTE OS POLÍGONOS.

