

SEMANA 23
ATIVIDADES PARA O PERÍODO DE REGIME
ESPECIAL DE AULAS NÃO PRESENCIAIS DO
ENSINO MÉDIO – SEDUC-GO

Superintendência de
Ensino Médio

Secretaria de
Estado da
Educação



COLÉGIO: _____
NOME: _____

DATA: ____/____/2021.

SECRETARIA DE ESTADO DA EDUCAÇÃO DE GOIÁS
SUPERINTENDÊNCIA DE ENSINO MÉDIO
GERÊNCIA DE PRODUÇÃO DE MATERIAL PARA O ENSINO MÉDIO

SEDUC EM AÇÃO 2021

LISTA DE ATIVIDADES

3ª SÉRIE – ENSINO MÉDIO

SEMANA 23

➤ **Componentes Curriculares e temas**

• **Quinta-feira – 12/08/2021**

- Matemática – **Aula na TBC** – D3 – Relacionar diferentes poliedros ou corpos redondos com suas planificações ou vistas. D3A – Identificar o número e a forma das faces.

2021

MATEMÁTICA

DESCRITOR

- D3 – Relacionar diferentes poliedros ou corpos redondos com suas planificações ou vistas.
- D3A – Identificar o número e a forma das faces.

Para essa aula é importante:



- assistir às videoaulas.

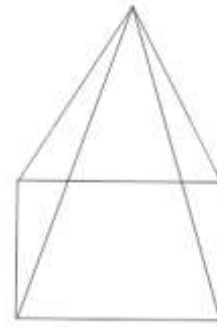
Disponível em:
<https://portal.educacao.go.gov.br/>
Acesso em: 15 jul. 2021.

- Com o auxílio das pesquisas, procurem responder às atividades propostas.

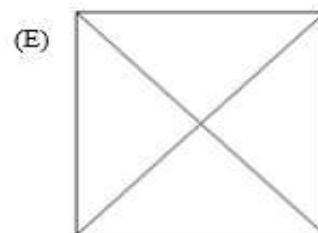
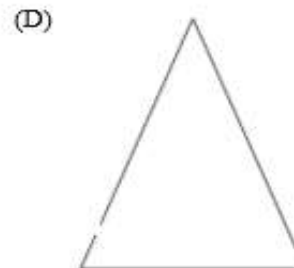

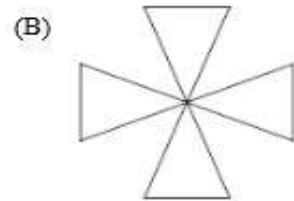
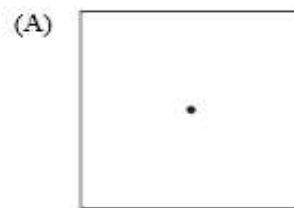


ATIVIDADE 01

A figura, a seguir, é uma pirâmide quadrangular.

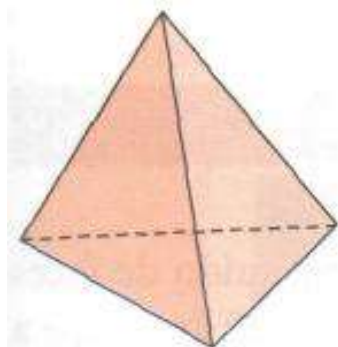


Das alternativas, a seguir, qual representa a vista superior desta pirâmide?

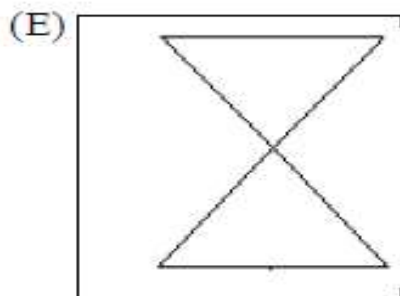
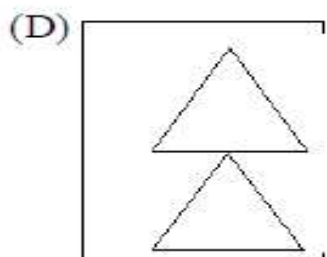
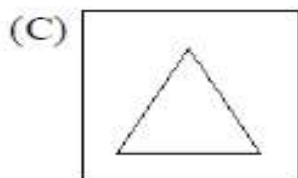
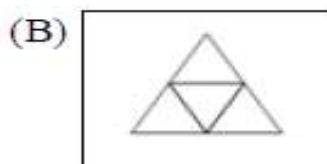
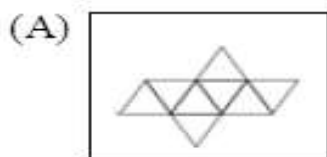


ATIVIDADE 02

Observe a figura a seguir.

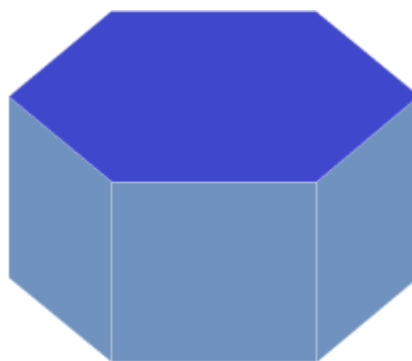


A planificação desse tetraedro é

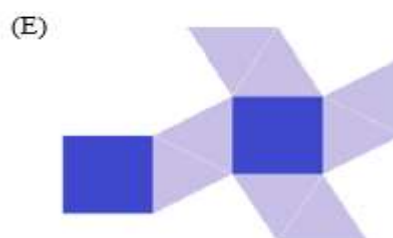
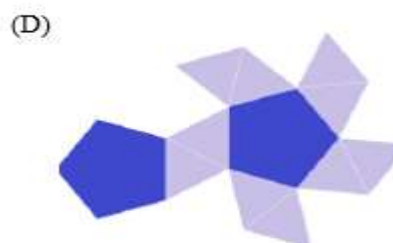
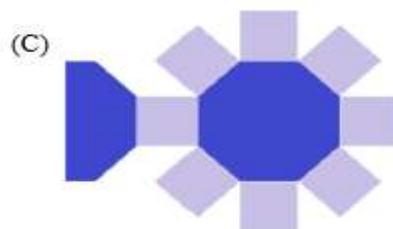
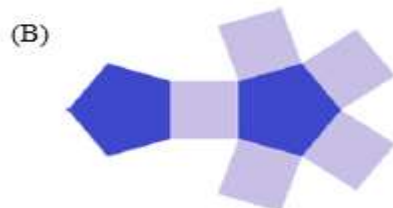
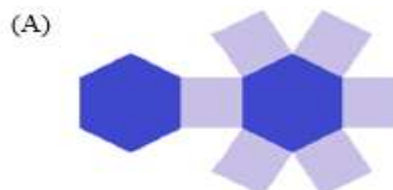


ATIVIDADE 03

Amanda trabalha confeccionando embalagens para presentes, mas está com uma dúvida em relação à embalagem a seguir.



Como ficará sua planificação?



ATIVIDADE 04

Observe o sólido a seguir.



O sólido representado por esta figura possui

- (A) 2 faces octogonais e 7 faces retangulares.
- (B) 8 faces octogonais e 2 faces retangulares.
- (C) 3 faces octogonais e 5 faces retangulares.
- (D) 2 faces octogonais e 8 faces retangulares.
- (E) 16 faces retangulares.

