

ATIVIDADE 15

TEMA: TABELAS E GRÁFICOS DE COLUNAS SIMPLES.

NOME:

UNIDADE ESCOLAR:

VOCÊ CONHECE ESSES TIPOS DE IMAGENS?

NÚMERO DE BRINQUEDOS
VENDIDOS

MÊS	NÚMERO
URSO	2
BOLA	6
NAVIO	4



Disponível em https://br.freepik.com/vetores-premium/colecao-de-icone-de-vetor-de-desenhos-animados-de-brinquedos-de-criancas_3606868.htm. Acesso dia 17 de Ago de 2021




AS TABELAS E OS GRÁFICOS ESTÃO PRESENTES EM JORNAIS, REVISTAS E OUTROS MEIOS DE COMUNICAÇÃO.

SÃO UTILIZADOS PARA DEMONSTRAR DE FORMA MAIS RÁPIDA E FÁCIL UMA SITUAÇÃO ENVOLVENDO NÚMEROS.

OBSERVANDO AS IMAGENS ENTENDEMOS QUE FORAM VENDIDOS 2 URSOS, 6 BOLAS E 4 NAVIOS.

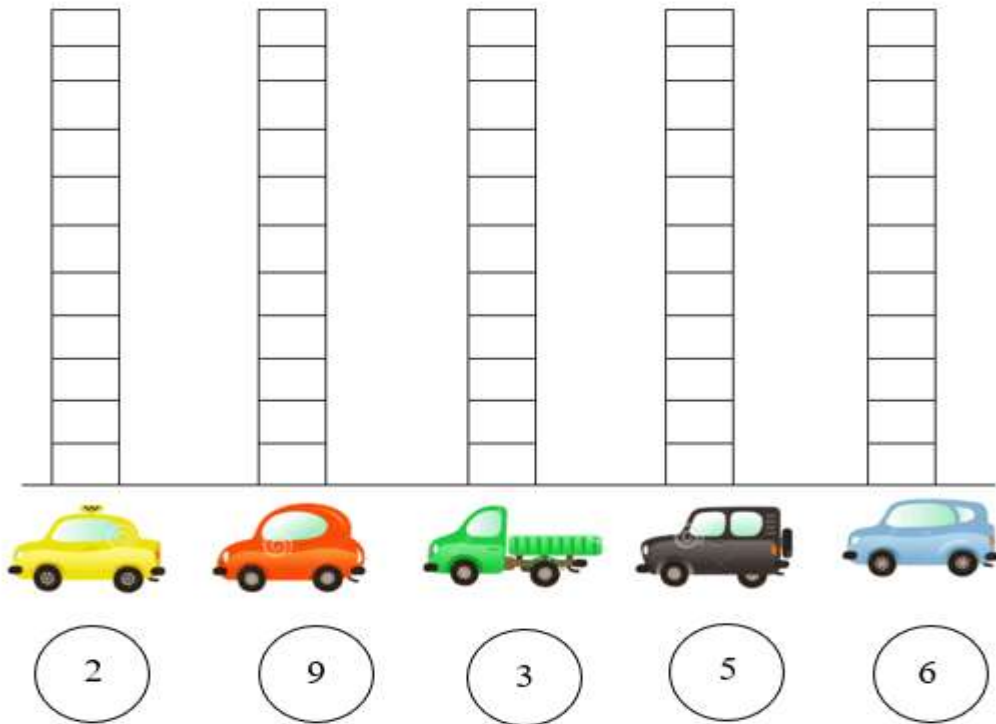
PARA VOCÊ ENTENDER MELHOR SOBRE AS TABELAS E OS GRÁFICOS VAMOS REALIZAR AS ATIVIDADES.



Disponível em <https://pt.dreamstime.com/di%C3%A1logo-entre-uma-garota-e-um-bal%C3%A3o-de-menino-bonitinho-feliz-vetor-mi%C3%BAdarapaz-argumenta%C3%A7%C3%A3o-argumento-apoio-escola-livro-imagem164553150>. Acesso dia 18 de Ago de 2021.

1. MATHEUS TEM UMA COLEÇÃO DE CARRINHOS. OBSERVE A QUANTIDADE DE CADA MODELO QUE ELE TEM. MONTE O GRÁFICO, PINTANDO DE BAIXO PARA CIMA, A QUANTIDADE DE CARRINHOS.

COLEÇÃO DE CARRINHOS



Disponível em <https://pt.dreamstime.com/foto-de-stock-grupo-de-carros-coloridos-do-vetor-image32694160>. Acesso dia 18 de Ago de 2021.

2. OBSERVE A TABELA E DESCUBRA QUANTOS ESTUDANTES TEM NA TURMA DO 1º ANO DA PROFESSORA DANIELA.

QUANTIDADE DE ESTUDANTES 1º ANO

MENINOS								
MENINAS								

Disponível em https://www.liveworksheets.com/worksheets/pt/Matem%C3%A1tica/Gr%C3%A1ficos/Leitura_de_tabela_et1687697r1. Acesso dia 18 de Ago de 2021.

PREENCHA OS ESPAÇOS EM BRANCO:

A) NA TURMA HÁ _____ MENINAS.

B) NA TURMA HÁ _____ MENINOS.

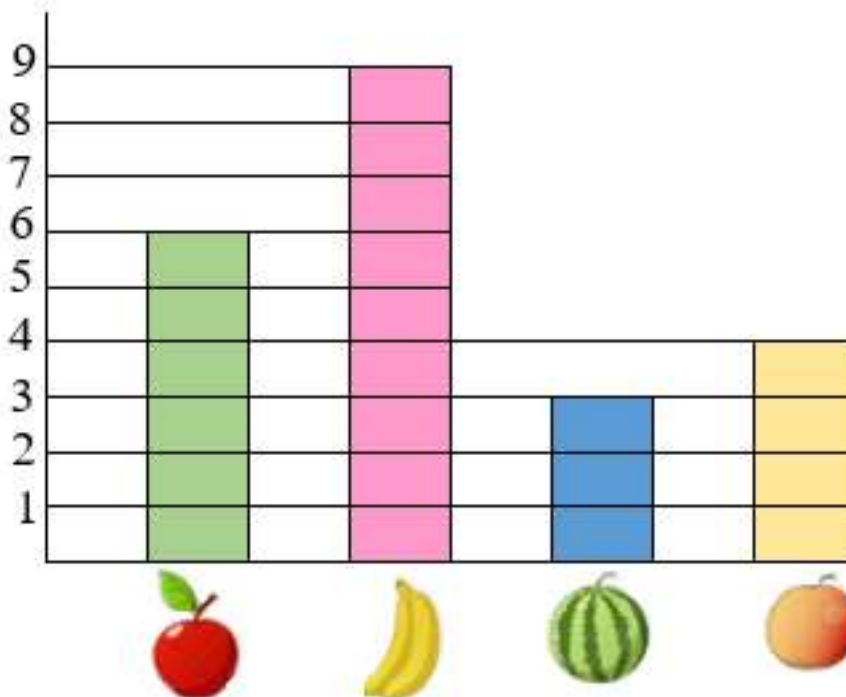
C) NA TURMA HÁ AO TODO _____ ESTUDANTES.

A PROFESSORA ISABELA FEZ UMA PESQUISA PARA SABER QUAIS AS FRUTAS PREFERIDAS DE SEUS ESTUDANTES DO 1º ANO.

A PARTIR DO RESULTADO DA PESQUISA, ELA CRIOU UM GRÁFICO JUNTO COM A TURMA.

OBSERVE O GRÁFICO E RESPONDA AS ATIVIDADES 3, 4, 5 E 6.

**FRUTAS PREFERIDAS
PELOS ESTUDANTES DO 1º ANO**



Disponível em <https://br.pinterest.com/pin/203717583129056156/> Acesso dia 18 de Ago de 2021.

3. QUAL FOI A FRUTA MAIS VOTADA?

4. QUAL A FRUTA QUE TEVE MAIS VOTO: A MAÇÃ OU A LARANJA?

5. QUANTOS VOTOS TEVE A MELANCIA?


6. ESCREVA NA TABELA O NÚMERO DE ESTUDANTES QUE ESCOLHERAM CADA FRUTA.

NÚMERO DE ESTUDANTES

FRUTAS	NÚMERO DE ESTUDANTES
MAÇÃ	
BANANA	
MELANCIA	
LARANJA	

OBSERVE NA TABELA A QUANTIDADE DE PICOLÉS VENDIDOS NA LANCHONETE DO JOÃO E RESPONDA AS ATIVIDADES 7, 8, 9 E 10.

PICOLÉS VENDIDOS

ABACAXI	
LIMÃO	
MORANGO	

Disponível em <https://pt.vecteezy.com/arte-vetorial/661647-padrao-sem-emenda-de-picoles-pastel>. Acesso dia 18 de Ago de 2021.

7. QUAL SABOR FOI MAIS VENDIDO?

8. QUANTOS PICOLÉS DE ABACAXI FORAM VENDIDOS?

9. QUAL O TOTAL DE PICOLÉS QUE FORAM VENDIDOS?

10. REPRESENTE NO GRÁFICO, PINTANDO DA ESQUERDA PARA A DIREITA A QUANTIDADE DE CADA PICOLÉ.



11. VEJA O GRÁFICO A SEGUIR, ONDE MOSTRA A COLEÇÃO DE BRINQUEDOS DE MARCELO.



QUANTOS CARROS MARCELO TEM?

- (A) 1.
- (B) 3.
- (C) 5.
- (D) 7.