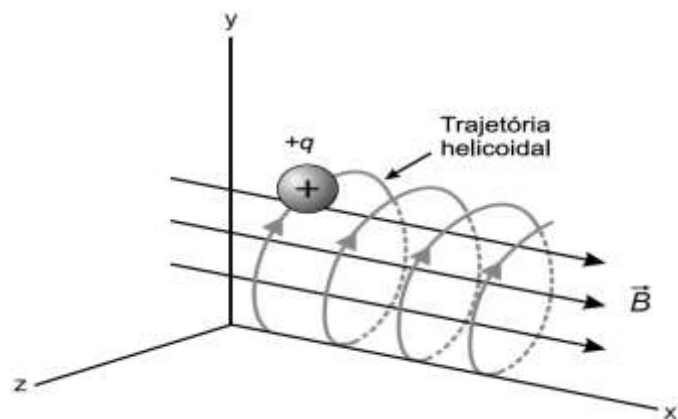


NOME:

FÍSICA

QUESTÃO 01

(ENEM/2019) O espectrômetro de massa de tempo de voo é um dispositivo utilizado para medir a massa de íons. Nele, um íon de carga elétrica q é lançado em uma região de campo magnético constante \vec{B} , descrevendo uma trajetória helicoidal, conforme a figura. Essa trajetória é formada pela composição de um movimento circular uniforme no plano yz e uma translação ao longo do eixo x . A vantagem desse dispositivo é que a velocidade angular do movimento helicoidal do íon é independente de sua velocidade inicial. O dispositivo então mede o tempo t de voo para N voltas do íon. Logo, com base nos valores q , B , N e t , pode-se determinar a massa do íon.



A massa do íon medida por esse dispositivo será

- (A) $\frac{qBt}{2\pi N}$
 (B) $\frac{qBt}{\pi N}$
 (C) $\frac{2qBt}{\pi N}$
 (D) $\frac{qBt}{N}$
 (E) $\frac{2qBt}{N}$

QUESTÃO 02

(ENEM/2018) A tecnologia de comunicação da etiqueta RFID (chamada de etiqueta inteligente) é usada há anos para rastrear gado, vagões de trem, bagagem aérea e carros nos pedágios. Um modelo mais barato dessas etiquetas pode funcionar sem baterias e é constituído por três componentes: um microprocessador de silício; uma bobina de metal, feita de cobre ou de alumínio, que é enrolada em um padrão circular; e um encapsulador, que é um material de vidro ou polímero envolvendo o microprocessador e a bobina. Na presença de um campo de radiofrequência gerado pelo leitor, a etiqueta transmite sinais. A distância de leitura é determinada pelo tamanho da bobina e pela potência da onda de rádio emitida pelo leitor.

Disponível em: <http://eletronicos.hsw.uol.com.br>. Acesso em: 27 fev. 2012 (adaptado).

A etiqueta funciona sem pilhas porque o campo

- (A) elétrico da onda de rádio agita elétrons da bobina.
 (B) elétrico da onda de rádio cria uma tensão na bobina.
 (C) magnético da onda de rádio induz corrente na bobina.
 (D) magnético da onda de rádio aquece os fios da bobina.
 (E) magnético da onda de rádio diminui a ressonância no interior da bobina.

QUESTÃO 03



(ENEM/2017) Um guindaste eletromagnético de um ferro-velho é capaz de levantar toneladas de sucata, dependendo da intensidade da indução magnética em seu eletroímã. O eletroímã é um dispositivo que utiliza corrente elétrica para gerar um campo magnético, sendo geralmente construído enrolando-se um fio condutor ao redor de um núcleo de material ferromagnético (ferro, aço, níquel, cobalto).

Para aumentar a capacidade de carga do guindaste, qual característica do eletroímã pode ser reduzida?

- (A) Diâmetro do fio condutor.
- (B) Distância entre as espiras.
- (C) Densidade linear de espiras.
- (D) Corrente que circula pelo fio.
- (E) Permeabilidade relativa do núcleo.

QUESTÃO 04



(ENEM/2017) Para demonstrar o processo de transformação de energia mecânica em elétrica, um estudante constrói um pequeno gerador utilizando:

- um fio de cobre de diâmetro D enrolado em N espiras circulares de área A ;
- dois ímãs que criam no espaço entre eles um campo magnético uniforme de intensidade B ; e
- um sistema de engrenagens que lhe permite girar as espiras em torno de um eixo com uma frequência f .

Ao fazer o gerador funcionar, o estudante obteve uma tensão máxima V e uma corrente de curto-circuito i .

Para dobrar o valor da tensão máxima V do gerador mantendo constante o valor da corrente de curto i , o estudante deve dobrar o(a)

- (A) número de espiras.
- (B) frequência de giro.
- (C) intensidade do campo magnético.
- (D) área das espiras.
- (E) diâmetro do fio.



QUESTÃO 05



(ENEM/2016-adaptado) A magnetohipertermia é um procedimento terapêutico que se baseia na elevação da temperatura das células de uma região específica do corpo que estejam afetadas por um tumor. Nesse tipo de tratamento, nanopartículas magnéticas são fagocitadas pelas células tumorais, e um campo magnético alternado externo é utilizado para promover a agitação das nanopartículas e consequente aquecimento da célula.

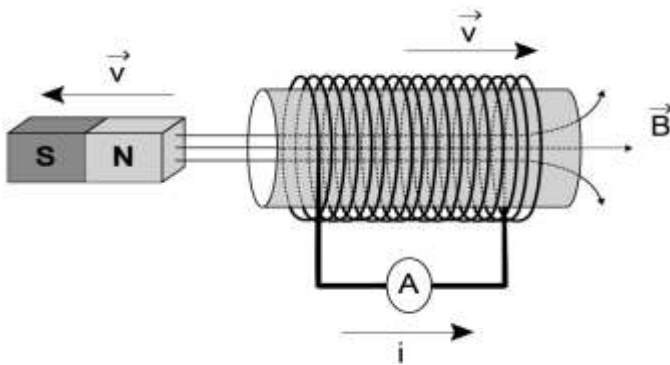
A elevação de temperatura descrita ocorre porque o/as

- (A) campo magnético gerado pela oscilação das nanopartículas é absorvido pelo tumor.
- (B) campo magnético alternado faz as nanopartículas girarem, transferindo calor por atrito.
- (C) nanopartículas interagem magneticamente com as células do corpo, transferindo calor.
- (D) campo magnético alternado fornece calor para as nanopartículas que o transfere às células do corpo.
- (E) nanopartículas são aceleradas em um único sentido em razão da interação com o campo magnético, fazendo-as colidir com as células e transferir calor.



QUESTÃO 06

(ENEM/2014) O funcionamento dos geradores de usinas elétricas baseia-se no fenômeno da indução eletromagnética, descoberto por Michael Faraday no século XIX. Pode-se observar esse fenômeno ao se movimentar um ímã e uma espira em sentidos opostos com módulo da velocidade igual a v , induzindo uma corrente elétrica de intensidade i , como ilustrado na figura.



A fim de se obter uma corrente com o mesmo sentido da apresentada na figura, utilizando os mesmos materiais, outra possibilidade é mover a espira para a

- (A) esquerda e o ímã para a direita com polaridade invertida.
- (B) direita e o ímã para a esquerda com polaridade invertida.
- (C) esquerda e o ímã para a esquerda com mesma polaridade.
- (D) direita e manter o ímã em repouso com polaridade invertida.
- (E) esquerda e manter o ímã em repouso com mesma polaridade.

QUESTÃO 07

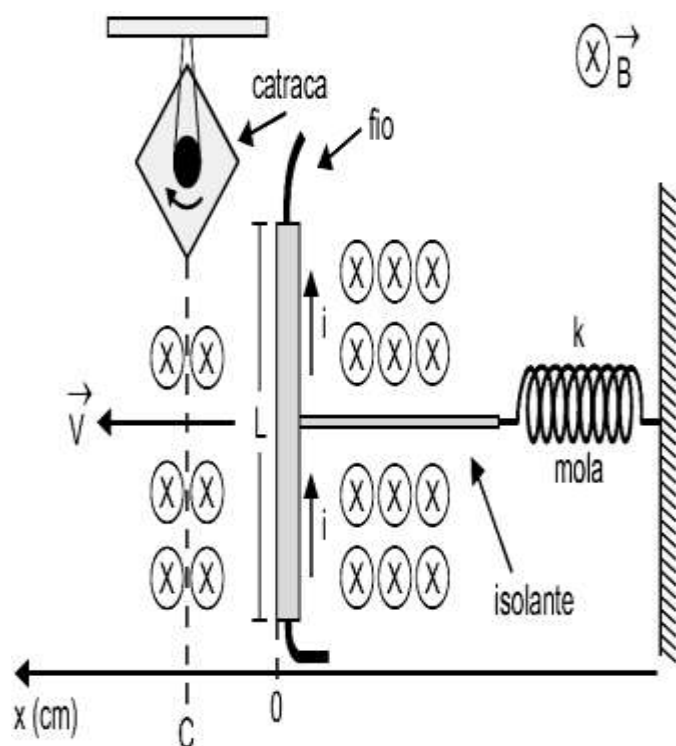
(ENEM/2014) As cercas elétricas instaladas nas zonas urbanas são dispositivos de segurança planejados para inibir roubos e devem ser projetadas para, no máximo, assustar as pessoas que toquem a fiação que delimita os domínios de uma propriedade. A legislação vigente que trata sobre as cercas elétricas determina que a unidade de controle deverá ser constituída, no mínimo, de um aparelho energizador de cercas que apresente um transformador e um capacitor. Ela também menciona que o tipo de corrente elétrica deve ser pulsante.

Considere que o transformador supracitado seja constituído basicamente por um enrolamento primário e outro secundário, e que este último está ligado indiretamente à fiação. A função do transformador em uma cerca elétrica é

- (A) reduzir a intensidade de corrente elétrica associada ao secundário.
- (B) aumentara potência elétrica associada ao secundário.
- (C) amplificar a energia elétrica associada a este dispositivo.
- (D) proporcionar perdas de energia do primário ao secundário.
- (E) provocar grande perda de potência elétrica no secundário.

QUESTÃO 08

(ENEM/2013) Desenvolve-se um dispositivo para abrir automaticamente uma porta no qual um botão, quando acionado, faz com que uma corrente elétrica $i = 6A$ percorra uma barra condutora de comprimento $L = 5\text{cm}$, cujo ponto médio está preso a uma mola de constante elástica $k = 5 \times 10^{-2}\text{N/cm}$. O sistema mola-condutor está imerso em um campo magnético uniforme perpendicular ao plano. Quando acionado o botão, a barra sairá da posição do equilíbrio a uma velocidade média de 5m/s e atingirá a catraca em 6 milissegundos, abrindo a porta.



A intensidade do campo magnético, para que o dispositivo funcione corretamente, é de

- (A) $5 \times 10^{-1}\text{T}$.
- (B) $5 \times 10^{-2}\text{T}$.
- (C) $5 \times 10^1\text{T}$.
- (D) $2 \times 10^{-2}\text{T}$.
- (E) $2 \times 10^0\text{T}$.

QUESTÃO 09

(ENEM/2011) O manual de funcionamento de um captador de guitarra elétrica apresenta o seguinte texto:

Esse captador comum consiste de uma bobina, fios condutores enrolados em torno de um ímã permanente. O campo magnético do ímã induz o ordenamento dos polos magnéticos na corda da guitarra, que está próxima a ele. Assim, quando a corda é tocada, as oscilações produzem variações, com o mesmo padrão, no fluxo magnético que atravessa a bobina. Isso induz uma corrente elétrica na bobina, que é transmitida até o amplificador e, daí, para o alto-falante.


Um guitarrista trocou as cordas originais de sua guitarra, que eram feitas de aço, por outras feitas de náilon. Com o uso dessas cordas, o amplificador ligado ao instrumento não emitia mais som, porque a corda de náilon

- (A) isola a passagem de corrente elétrica da bobina para o alto-falante.
- (B) varia seu comprimento mais intensamente do que ocorre com o aço.
- (C) apresenta uma magnetização desprezível sob a ação do ímã permanente.
- (D) induz correntes elétricas na bobina mais intensas que a capacidade do captador.
- (E) oscila com uma frequência menor do que a que pode ser percebida pelo captador.

QUESTÃO 10



(ENEM/2010) Os dínamos são geradores de energia elétrica utilizados em bicicletas para acender uma pequena lâmpada. Para isso, é necessário que parte móvel esteja em contato com o pneu da bicicleta e, quando ela entra em movimento, é gerada energia elétrica para acender a lâmpada. Dentro desse gerador, encontram-se um ímã e uma bobina.



Disponível em: <http://www.if.usp.br>. Acesso em: 1 maio 2010.

O princípio de funcionamento desse equipamento é explicado pelo fato de que a

- (A) corrente elétrica no circuito fechado gera um campo magnético nessa região.
- (B) bobina imersa no campo magnético em circuito fechado gera uma corrente elétrica.
- (C) bobina em atrito com o campo magnético no circuito fechado gera uma corrente elétrica.
- (D) corrente elétrica é gerada em circuito fechado por causa da presença do campo magnético.
- (E) corrente elétrica é gerada em circuito fechado quando há variação do campo magnético.



GABARITO

- Questão 01 – A
- Questão 02 – C
- Questão 03 – B
- Questão 04 – A
- Questão 05 – B
- Questão 06 – A
- Questão 07 – A
- Questão 08 – A
- Questão 09 – C
- Questão 10 – E