

1º ANO

MATEMÁTICA

Superintendência de
Educação Infantil e
Ensino Fundamental

SEDUC
Secretaria de Estado
da Educação



ATIVIDADE 14

TEMA: FIGURAS GEOMÉTRICAS PLANAS

NOME:

UNIDADE ESCOLAR:

FIGURAS GEOMÉTRICAS PLANAS

AS FIGURAS GEOMÉTRICAS PLANAS SÃO PARECIDAS COM VÁRIOS OBJETOS QUE USAMOS NO DIA A DIA. ELAS TÊM FORMAS E CARACTERÍSTICAS DIFERENTES.

CÍRCULO

NÃO TEM LADOS



RETÂNGULO

DOIS PARES DE LADOS IGUAIS



QUADRADO

QUATRO LADOS IGUAIS



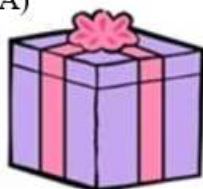
TRIÂNGULO

TRÊS LADOS IGUAIS

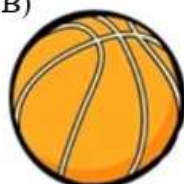


1. OBSERVE AS IMAGENS E ESCREVA O NOME DAS FIGURAS GEOMÉTRICAS PLANAS QUE SÃO PARECIDAS COM OS OBJETOS.


A)



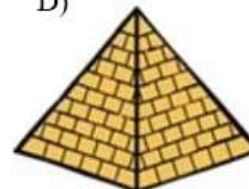
B)



C)




D)




2. PINTE O BONECO DE ACORDO COM A LEGENDA:

- A) TRIÂNGULO DE VERMELHO
- B) QUADRADO DE VERDE
- C) RETÂNGULO DE AZUL
- D) CÍRCULO DE AMARELO



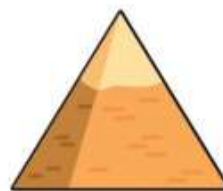
Disponível em <https://www.artesanatopassoapassoja.com.br/desenhos-com-formas-geometricas/> Acesso dia 28 de Jun de 2021.

3. MARQUE OS OBJETOS QUE TÊM A FORMA PARECIDA COM A FIGURA GEOMÉTRICA DO RETÂNGULO.



Disponível em <https://educacaoetransformacaooficial.blogspot.com/2018/11/formas-geometricas.html> Acesso dia 28 de Jun de 2021.

4. CIRCULE OS OBJETOS QUE TÊM A FORMA PARECIDA COM A FIGURA GEOMÉTRICA DO TRIÂNGULO.



Disponível em <https://br.pinterest.com/pin/288230444903658781/?d=t&mt=signupOrPersonalizedLogin>. Acesso dia 28 de Jun de 2021.

5. LIGUE OS OBJETOS AO FORMATO PARECIDO DAS FORMAS GEOMÉTRICAS PLANAS.



TRIÂNGULO

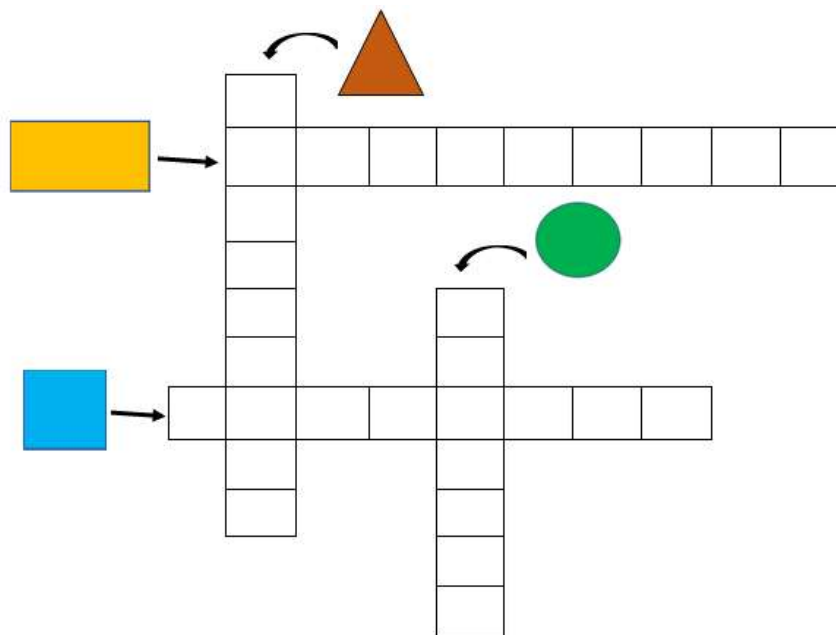
QUADRADO

CÍRCULO

RETÂNGULO

Disponível em encurtador.com.br/uwADH Acesso dia 28 de Jun de 2021.

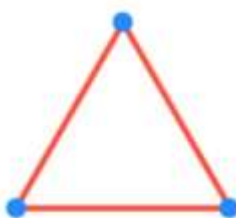

6. PREENCHA A CRUZADINHA COM OS NOMES DAS FIGURAS GEOMÉTRICAS PLANAS.



7. ESCOLHA UMA DAS FORMAS GEOMÉTRICAS PLANAS E FAÇA UM DESENHO PARECIDO.

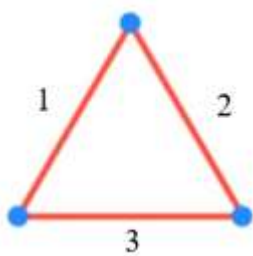
DESENHO DA FORMA GEOMÉTRICA PLANA	DESENHO PARECIDO

OBSERVE AS FIGURAS GEOMÉTRICAS PLANAS.



Disponível em <https://escolakids.uol.com.br/matematica/formas-geometricas.htm>. Acesso dia 28 de Jun de 2021.

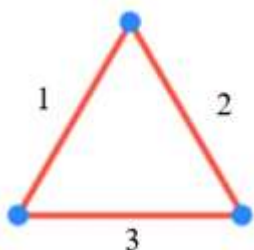
CADA LINHA REPRESENTA UM LADO DA FIGURA.



TRIÂNGULO TEM 3 LADOS.


VÉRTICES SÃO OS ENCONTROS DOS LADOS DE CADA FORMA GEOMÉTRICA.

VEJA NA FIGURA A SEGUIR QUE OS VÉRTICES ESTÃO REPRESENTADOS POR PEQUENAS BOLINHAS, OU SEJA, QUANDO AS LINHAS SE ENCONTRAM, SÃO FORMADOS OS VÉRTICES.




TRIÂNGULO TEM 3 VERTICES.

8. DESENHE BOLINHAS NOS VÉRTICES DAS FIGURAS GEOMÉTRICAS PLANAS.



9. QUANTOS PALITOS DE DENTE SÃO NECESSÁRIOS PARA CONSTRUIR UM QUADRADO?

10. HÁ FIGURAS QUE NÃO POSSUEM LADOS E NEM VÉRTICES, POR EXEMPLO, O CÍRCULO.



CÍRCULO

ESCREVA O NÚMERO DE LADOS E VÉRTICES DAS FIGURAS GEOMÉTRICAS PLANAS A SEGUIR.

FIGURA	LADOS	VÉRTICES
