

8º ANO

GEOGRAFIA

Superintendência de
Educação Infantil e
Ensino Fundamental

Secretaria de
Estado da
Educação



ATIVIDADE 19

Tema: Diversidade ambiental e as transformações nas paisagens na América Latina: Paisagens da América Latina

NOME:

UNIDADE ESCOLAR:

PAISAGENS DA AMÉRICA LATINA

Já compreendemos que as paisagens apresentam aspectos e elementos do presente e do passado, que muitas vezes convivem em um mesmo espaço. Carregam consigo aspectos naturais, sociais e culturais ou humanizados.

Quando pensamos nas paisagens da América Latina, entendemos que os aspectos físico-naturais geomorfológicos, climatológicos e biogeográficos cumprem papéis característicos dessas regiões. Os países localizados na costa leste, têm seu relevo composto por planaltos de origens geológicas antigas, com características planas. São exemplos de planaltos brasileiros: Planalto das Guianas, localizado no Norte do Brasil; do Maranhão-Piauí; Planalto Nordeste; Planalto Meridional, localizado no Sul-Sudeste; e Planalto do Leste-Sudeste.




Planaltos. Fonte: <https://escolaeducacao.com.br/planalto/>



Planícies. Fonte: <https://www.embrapa.br/busca-de-imagens/>

No interior da América do Sul identifica-se uma predominância de planaltos com pouca elevação e planícies. No extremo ocidente do subcontinente o relevo é constituído por grandes altitudes, onde está localizada a Cordilheiras dos Andes, que corresponde a um dobramento alpino que ocorreu através do encontro entre a placa tectônica de nazca e a placa sul-americana, razão pela qual a região desenvolve uma grande incidência de abalos sísmicos. A Cordilheira dos Andes estende-se desde a Venezuela até o Chile, possui aspectos distintos que variam de acordo com cada particularidade, pode ser classificado como: Andes setentrionais úmidos, Andes centrais ou áridos e Andes meridionais ou frios.

A Cordilheira dos Andes tem uma extensão muito grande de área que possui climas diversos, formações variadas, diferentes povos e etnias, além de cidades cosmopolitas (grandes centros urbanos e diversas culturas), a exemplo de Bogotá. Além disso, a Cordilheira possui algumas das paisagens mais exuberantes do continente sul-americano, que inclui o deserto mais seco do mundo e o maior lago do continente.




Cordilheira dos Andes. Fonte: <https://www.educamaisbrasil.com.br>

O relevo é grande responsável pela composição do clima das regiões. Na América do Sul, temos distintas variações climáticas que são resultado dos tipos de

relevo, são identificados ainda os climas: frio de montanha, característico dos Andes; semiárido, que ocorre nos Andes Central e nordeste brasileiro; e árido ou desértico, que ocorre na Patagônia (Argentina) e no Atacama (Chile).

O clima em grande parte é o equatorial e tropical, desenvolve grandes florestas do tipo latifoliadas, que corresponde à floresta equatorial, como a Amazônica.



Cordilheira dos Andes. Fonte: <https://www.educamaisbrasil.com.br>



Fonte: <https://espacoemtransformacao.wordpress.com/2020/07/07/relevo-da-america-do-sul/>

Nas áreas de clima tropical, que ocorre nos territórios do Brasil, Paraguai, Venezuela e Colômbia, ocorrem vegetações tais como as savanas (cerrado no planalto central brasileiro, chaco no Paraguai e Bolívia e llanos na Venezuela). E nas regiões de clima tropical úmido ocorrem as florestas tropicais como a Mata Atlântica na costa brasileira.

Nas regiões onde prevalece o clima subtropical, como no sul do Brasil, Uruguai e Argentina, ocorrem vegetações como Mata de Araucária, além de estepes e pradarias.

Em uma restrita parcela da América do Sul ocorre o clima temperado, essa característica climática se apresenta no sul do Chile, a vegetação que desenvolve na região é a floresta temperada.

Os aspectos climáticos interferem ainda na hidrografia. A América do Sul, em recurso hídrico, possui a maior bacia hidrográfica do mundo, a Amazônica. Banhada pelo oceano Atlântico e Oceano Pacífico.

O grande potencial hídrico desse subcontinente é proveniente dos aspectos climáticos que predominam em grande parte do território onde prevalecem os climas úmidos (equatorial e tropical úmido) com altos índices pluviométricos (índice de chuvas).

As principais bacias hidrográficas presentes na América do Sul são:

- Bacia Amazônica: está localizada na floresta Amazônica e abrange Brasil, Bolívia, Peru, Equador, Colômbia, Venezuela e Guiana.
- Bacia do Prata: corresponde à união de três sub-bacias (Paraná, Paraguai e Uruguai).
- Bacia do Rio São Francisco: encontra-se totalmente em território brasileiro e tem como rio principal o São Francisco.

Percebemos dessa maneira que os componentes físico-naturais se interligam e dependem uns dos outros, o relevo é responsável pelos aspectos climáticos e os aspectos climáticos formam as características biológicas no que se refere a fauna e flora. Todos esses elementos juntos caracterizam os aspectos da paisagem.



Bacia Amazônica. Fonte: <https://br.pinterest.com/LiliEnvironmentsProjects>

ATIVIDADES

1. Vamos praticar? Após a leitura do texto, complete as lacunas:

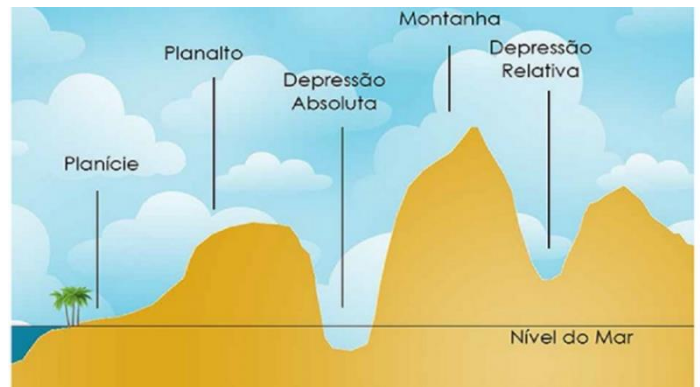
- A Cordilheira dos _____ tem uma extensão muito grande de área que possui _____ diversos.
- As paisagens apresentam aspectos e elementos do _____ e do _____, que muitas vezes convivem em um mesmo _____.
- A América do Sul, em recurso hídrico, possui a maior bacia _____ do mundo, a _____.
- A _____ dos Andes estende-se desde a Venezuela até o _____.

2. Sabemos que a Cordilheira dos Andes está localizada no extremo ocidente da América do Sul, indo da Venezuela até o Chile. Explique de que maneira a Cordilheira dos Andes foi formada e a partir de qual fenômeno natural.

3. Quais são os três grandes tipos de relevos que encontramos na América Latina?

4. Quais são os dois oceanos que banham a América do Sul na porção leste e oeste?

- () Pacífico e Índico.
- () Atlântico e Pacífico
- () Mediterrâneo e Pacífico.
- () Atlântico e Mediterrâneo.



Fonte: <https://sosestudanteassessoria.blogspot.com/2020/03/formas-de-relevo.html>

5. Leia a frase a seguir:

“O relevo do Brasil é modelado por um conjunto de fatores que atuam sobre a superfície e somam-se às forças internas da Terra. Entre os elementos mais importantes estão _____, mas _____ influenciam cada vez mais na dinâmica da água e, conseqüentemente, nas _____.”

Escolha a alternativa que melhor preenche as lacunas.

- () as águas, as sociedades humanas e formas de relevo.
- () os solos, as chuvas e sociedades humanas.
- () as formas de relevo, os ventos e sociedades humanas.
- () as águas, as voçorocas e formas de relevo.

6. Quais países apresentam áreas de clima tropical?

- () Paraguai e Uruguai.
- () Brasil, Uruguai e México.
- () México, Venezuela e Uruguai.
- () Brasil, Paraguai, Venezuela e Colômbia.

7. De acordo com seus conhecimentos, as leituras realizadas e a análise do mapa contido no texto, quais os tipos de relevo dos países localizados na costa leste da América Latina? Cite exemplos de onde estão localizados esses relevos.