

**DESAFIO WEEKEND 22**  
Tema da aula: A QUESTÃO AGRÁRIA

DATA: \_\_\_/\_\_\_/2022.

NOME:

**CIÊNCIAS HUMANAS E SOCIAIS  
APLICADAS**

**GEOGRAFIA**


**MATRIZ DE REFERÊNCIA DO ENEM**

➤ **COMPETÊNCIA DE ÁREA 2**

Compreender as transformações dos espaços geográficos como produto das relações socioeconômicas e culturais de poder.

➤ **HABILIDADE**

H14 - Comparar diferentes pontos de vista, presentes em textos analíticos e interpretativos, sobre situação ou fatos de natureza histórico-geográfica acerca das instituições sociais, políticas e econômicas.



Leia os depoimentos, a seguir, e responda as questões 01 e 02.

Em uma disputa por terras, em Mato Grosso do Sul, dois depoimentos são colhidos: o do proprietário de uma fazenda e o de um integrante do Movimento dos Trabalhadores Rurais sem Terras:

**DEPOIMENTO 01**

"A minha propriedade foi conseguida com muito sacrifício pelos meus antepassados. Não admito invasão. Essa gente não sabe de nada. Estão sendo manipulados pelos comunistas. Minha resposta será à bala. Esse povo tem que saber que a Constituição do Brasil garante a propriedade privada. Além disso, se esse governo quiser as minhas terras para a Reforma Agrária terá que pagar, em dinheiro, o valor que eu quero." proprietário de uma fazenda no Mato Grosso do Sul.

**DEPOIMENTO 02**

"Sempre lutei muito. Minha família veio para a cidade porque fui despedido quando as máquinas chegaram lá na Usina. Seu moço, acontece que eu sou um homem da terra. Olho pro céu, sei quando é tempo de plantar e de colher. Na cidade não fico mais. Eu quero um pedaço de terra, custe o que custar. Hoje eu sei que não estou sozinho. Aprendi que a terra tem um valor social. Ela é feita para produzir alimento. O que o homem come vem da terra. O que é duro é ver que aqueles que possuem muita terra e não dependem dela para sobreviver, pouco se preocupam em produzir nela." integrante do Movimento dos Trabalhadores Rurais Sem Terra (MST), de Corumbá - MS.


**QUESTÃO 01**

(ENEM/1998-Adaptada) A partir da leitura do depoimento 01, os argumentos utilizados para defender a posição do proprietário de terras são:

- I. A Constituição do país garante o direito à propriedade privada, portanto, invadir terras é crime.
- II. O MST é um movimento político controlado por partidos políticos.
- III. As terras são o fruto do árduo trabalho das famílias que as possuem.
- IV. Este é um problema político e depende unicamente da decisão da justiça.

Estão corretas as proposições:

- (A) I, apenas.
- (B) I e IV, apenas.
- (C) II e IV, apenas.
- (D) I, II e III, apenas.
- (E) I, III e IV, apenas.



### QUESTÃO 02

(ENEM/1998-Adaptada) A partir da leitura do depoimento 02, quais os argumentos utilizados para defender a posição de um trabalhador rural sem-terra?

- I. A distribuição mais justa da terra no país está sendo resolvida, apesar de que muitos ainda não têm acesso a ela.
- II. A terra é para quem trabalha nela e não para quem a acumula como bem material.
- III. É necessário que se suprima o valor social da terra.
- IV. A mecanização do campo acarreta a dispensa de mão de obra rural.

Estão corretas as proposições:

- (A) I, apenas.
- (B) II, apenas.
- (C) II e IV, apenas.
- (D) I, II e III, apenas.
- (E) III, I e IV, apenas.

### QUESTÃO 03

(ENEM/2006-Adaptada) Leia o texto a seguir.

Na região sul da Bahia, o cacau tem sido cultivado por meio de diferentes sistemas. Em um deles, o convencional, a primeira etapa de reparação do solo corresponde à retirada da mata e à queimada dos tocos e das raízes. Em seguida, para o plantio da quantidade máxima de cacau na área, os pés de cacau são plantados próximos uns dos outros. No cultivo pelo sistema chamado cabruca, os pés de cacau são abrigados entre as plantas de maior porte, em espaço aberto criado pela derrubada apenas das plantas de pequeno porte.

Os cacauzeiros dessa região têm sido atacados e devastados pelo fungo chamado vassoura-de-bruxa, que se reproduz em ambiente quente e úmido por meio de esporos que se espalham no meio aéreo.

As condições ambientais em que os pés de cacau são plantados e as condições de vida do fungo vassoura-de-bruxa, mencionadas acima, permitem supor-se que sejam mais intensamente atacados por esse fungo os cacauzeiros plantados por meio do sistema.

- (A) convencional, pois os pés de cacau ficam mais expostos ao sol, o que facilita a reprodução do parasita.

(B) convencional, pois a proximidade entre os pés de cacau facilita a disseminação da doença.

(C) convencional, pois o calor das queimadas cria as condições ideais de reprodução do fungo.

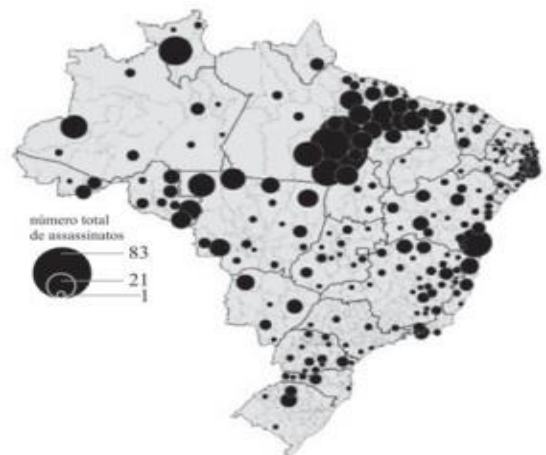
(D) cabruca, pois os cacauzeiros não suportam a sombra e, portanto, terão seu crescimento prejudicado e adoecerão.

(E) cabruca, pois, na competição com outras espécies, os cacauzeiros ficam enfraquecidos e adoecem mais facilmente.

### QUESTÃO 04

(ENEM/2009-Adaptada) Leia o texto a seguir.

A luta pela terra no Brasil é marcada por diversos aspectos que chamam a atenção. Entre os aspectos positivos, destaca-se a perseverança dos movimentos do campesinato e, entre os aspectos negativos, a violência que manchou de sangue essa história. Os movimentos pela reforma agrária articularam-se por todo o território nacional, principalmente entre 1985 e 1996, e conseguiram de maneira expressiva a inserção desse tema nas discussões pelo acesso à terra. O mapa seguinte apresenta a distribuição dos conflitos agrários em todas as regiões do Brasil nesse período, e o número de mortes ocorridas nessas lutas.



Brasil – Vítimas fatais de conflitos ocorridos no campo 1985-1996  
Fonte: Comissão Pastoral da Terra - CPT

OLIVEIRA, A. U. A longa marcha do campesinato brasileiro: movimentos sociais, conflitos e reforma agrária. Revista Estudos Avançados. Vol. 15 n. 43, São Paulo, set./dez. 2001.

Com base nas informações do mapa acerca dos conflitos pela posse de terra no Brasil, a região

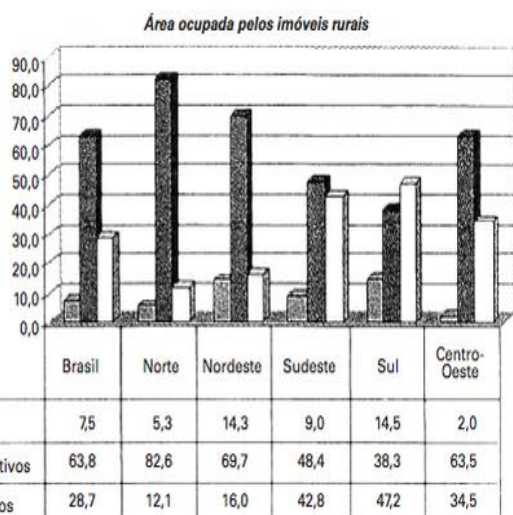
- (A) conhecida historicamente como das Missões Jesuíticas é a de maior violência.
- (B) do Bico do Papagaio apresenta os números mais expressivos.
- (C) conhecida como oeste baiano tem o maior número de mortes.

- (D) do norte do Mato Grosso, área de expansão da agricultura mecanizada, é a mais violenta do país.
- (E) da Zona da Mata mineira teve o maior registro de mortes.

### QUESTÃO 05

(ENEM/2009-Adaptada) Leia o texto a seguir.

O gráfico mostra o percentual de áreas ocupadas, segundo o tipo de propriedade rural no Brasil, no ano de 2006.



MDA/INCRA (DIEESE, 2006) Disponível em: <http://www.sober.org.br>. Acesso em: 6 ago. 2009.

De acordo com o gráfico e com referência à distribuição das áreas rurais no Brasil, conclui-se que

- (A) imóveis improdutivos são predominantes em relação às demais formas de ocupação da terra no âmbito nacional e na maioria das regiões.
- (B) imóveis improdutivos são predominantes em relação às demais formas de ocupação da terra no âmbito nacional e na maioria das regiões.
- (C) o percentual de imóveis improdutivos iguala-se ao de imóveis produtivos somados aos minifúndios, o que justifica a existência de conflitos por terra.
- (D) a região Norte apresenta o segundo menor percentual de imóveis produtivos, possivelmente em razão da presença de densa cobertura florestal, protegida por legislação ambiental.
- (E) a região Centro-Oeste apresenta o menor percentual de área ocupada por minifúndios, o que inviabiliza políticas de reforma agrária nesta região.